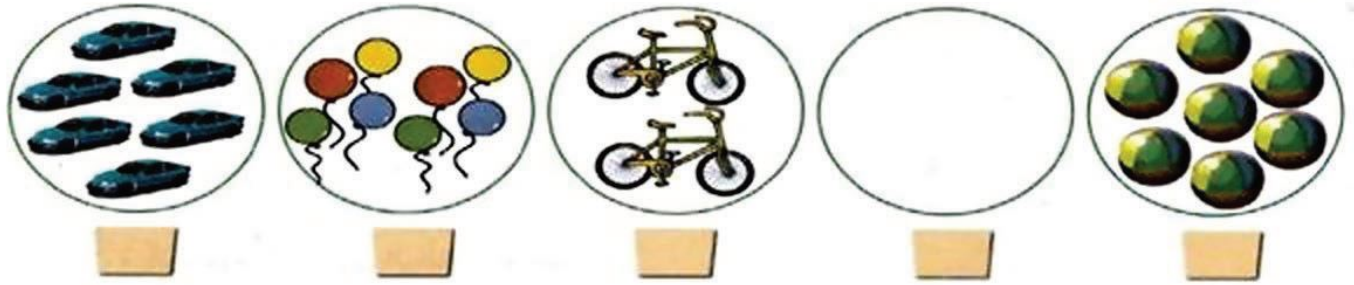



### اختبار في مادة الرياضيات الفصل الأول



الوضعية 1 : أكتب عدد الألعاب في كل مجموعة:



الوضعية 2 : أكمل رسم الفريسات حتى يصير عددها 10:



الوضعية 3 : اربط البطاقات التي تمثل نفس العدد:

10 + 7  
10 + 2  
10 + 8  
10 + 4

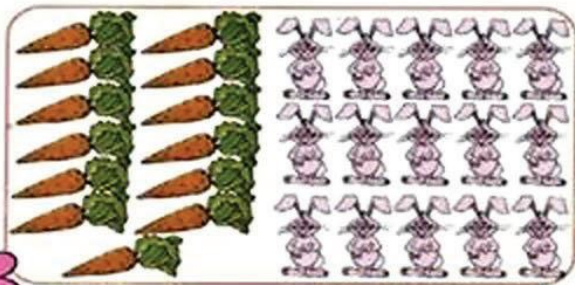


أربعة عشر  
اثنا عشر  
ثمانية عشر  
سبعة عشر

7 - 2 = .      10 - 5 = .      5 - 2 = .  
8 - 5 = .      6 - 4 = .      9 + 4 = .

الوضعية 4 : أحسب:

الوضعية 5 : لاحظ الرسم ثم لَوِّنِ البطاقة الصحيحة:



- عدد الجزرات أكثر من أقل من عدد الأرانب  
- هل يستطيع أن يأكل كل أرنب جزرة؟ نعم لا

