

السنة الدراسية :
2018/2017

اختبار الفصل الثالث في
التربية العلمية

مدرسة هوارى عبد السلام
قسم : السنة 3 ابتدائي

- المطلوب الأول: (2ن) ضع (صحيح) أو (خطأ)

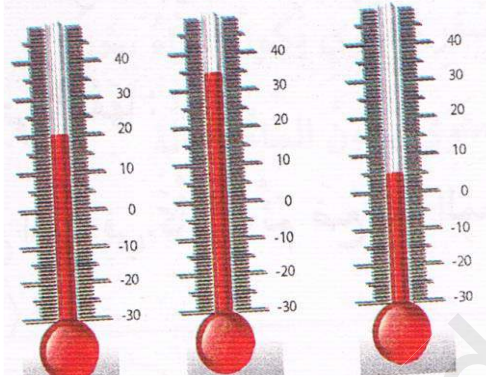
- عندما يكون جانب الأرض موجّهاً للشمس يكون النهار
- دوران الأرض حول نفسها يُنتج شهراً كاملاً
- تدور الأرض حول نفسها من الشرق نحو الغرب
- مدة الشهر في التاريخ الميلادي 30 أو 31

- المطلوب الثاني: (3ن) أكمل ما يلي :

- مدة الدورة الكاملة للأرض هي و تساوي ساعة
اليوم = +

- الرّزنامة الميلادية أصلها عليه السلام .
و الرّزنامة القمرية الهجرية أصلها صلى الله عليه و سلم .

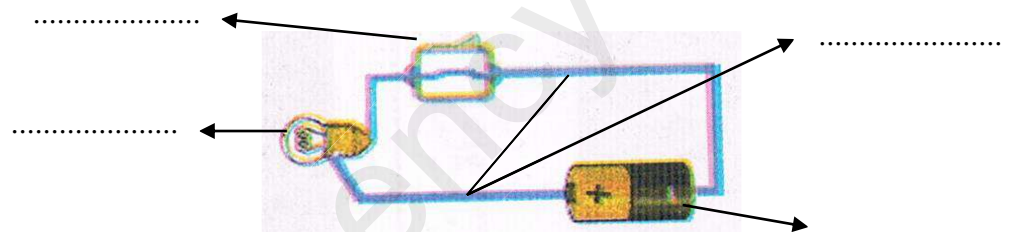
- المطلوب الثالث: (3ن) اكتب ما تقرأه من درجة حرارة على المحرار في الوضعيات التالية:



.....

- المطلوب الرابع: (2ن)

في الشكل الآتي تمثيل لدارة كهربائية بسيطة ، سم العناصر الكهربائية :



اختبار الفصل الثالث في
التربية العلمية

السنة الدراسية :
2018/2017

مدرسة هوارى عبد السلام
قسم : السنة 3 ابتدائي

- المطلوب الأول: (2ن) ضع (صحيح) أو (خطأ)

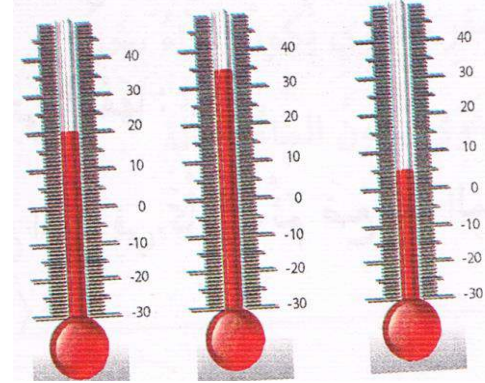
- عندما يكون جانب الأرض موجّهاً للشمس يكون النهار
- دوران الأرض حول نفسها يُنتج شهراً كاملاً
- تدور الأرض حول نفسها من الشرق نحو الغرب
- مدة الشهر في التاريخ الميلادي 30 أو 31

- المطلوب الثاني: (3ن) أكمل ما يلي :

- مدة الدورة الكاملة للأرض هي و تساوي ساعة
اليوم = +

- الرّزنامة الميلادية أصلها عليه السلام .
و الرّزنامة القمرية الهجرية أصلها صلى الله عليه و سلم .

- المطلوب الثالث: (3ن) اكتب ما تقرأه من درجة حرارة على المحرار في الوضعيات التالية:



.....

- المطلوب الرابع: (2ن)

في الشكل الآتي تمثيل لدارة كهربائية بسيطة ، سم العناصر الكهربائية :

