

الجمهورية الجزائرية الديمقراطية الشعبية  
وزارة التربية الوطنية

السنة الدراسية: 2023-2024

السنة 3 ابتدائي

اختبار الفصل الثالث في مادة التربية العلمية



الاسم و اللقب:

الوضعية 01: (04ن)

التعليمة 01: لاحظ الروزنامة التالية ثم أجب عن الأسئلة:

1- لون التقويم الذي تمثله الروزنامة التالية.

جويلية 2022						
الاثنين	الثلاثاء	الأربعاء	الخميس	الجمعة	السبت	الأحد
				1	2	3
4	5	6	7	8	9	10
11	12	13	14	15	16	17
18	19	20	21	22	23	24
25	26	27	28	29	30	31

التقويم الميلادي

التقويم الهجري

2- تحيي الجزائر سنويا عيد الاستقلال، حدد تاريخه

بتلويته على الروزنامة.

3- في أي يوم من أيام الأسبوع يصادف تاريخ:

20 جويلية 2022؟

4- أكمل الجدول التالي بالتشطيب على الإجابة الحاطة:

عدد أيام العام الهجري	عدد أيام العام الميلادي	عدد أشهر العام	عدد ساعات اليوم	عدد أيام الأسبوع
354 / 365	354 / 365	30 / 12	24 / 60	15 / 7


الوضعية 02: (02ن)

التعليمة 01: لاحظ المحارير التالية، ثم لون إطار المحرار الذي يمثل درجة تجمد الماء.




5

-20 °C



4

10 °C



3

40 °C



2

0 °C



1

-30 °C

التعليمة 02: رتب قيم درجات الحرارة السابقة من أصغر قيمة إلى أعلى قيمة

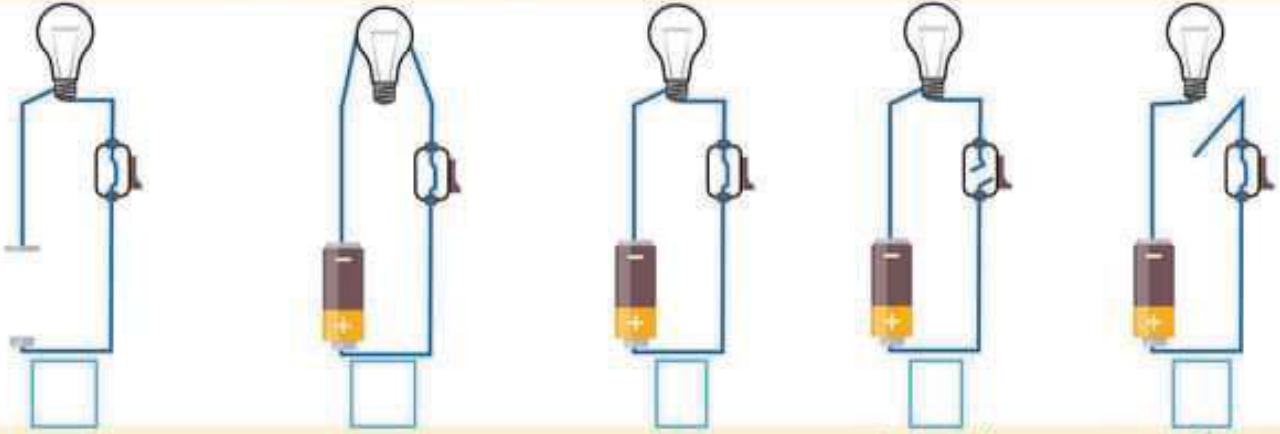


.....	.....	.....	.....	.....
-------	-------	-------	-------	-------




### الوضعية 03: (2.5ن)

التَّغْلِيمَةُ 01: حَدِّدْ مِنْ بَيْنِ الدَّارَاتِ الكَهْرَبَائِيَّةِ التَّالِيَةِ الَّتِي يُضِيءُ فِيهَا المِصْبَاحُ بِعَلَامَةِ "✓"



التَّغْلِيمَةُ 02: سَمِّ العَنَاصِرَ التَّالِيَةَ:



### الوضعية 04: (1.5ن)

التَّغْلِيمَةُ: لَاحِظ الشَّكْلَ المُقَابِلَ (01)، ثُمَّ أَجِبْ عَنِ الأَسْئَلَةِ:

الشَّكْل 01



1- كَيْفَ نُسَمِّي الجِهَازَ المُقَابِلَ؟

2- كَمْ يُسَاوِي الكِيلُوغْرَامُ مِنَ الغْرَامِ؟

1 Kg = .....g

3- أَعِدْ كِتَابَةَ الكُتْلِ المَوْجُودَةِ فِي الشَّكْلِ بِأَلْفِ "g"

4- مَا هُوَ وَزْنُ التَّفَاجِ؟

5- أذْكَرْ مَكَانَيْنِ نَجِدُ فِيهِمَا أَنْوَاعًا أُخْرَى مِنْ هَذَا الجِهَازِ المَوْضَحِ فِي الشَّكْلِ (01).

بالتوفيق