

امتحان الفصل الأخير في مادة التربية العلمية و التكنولوجيا

1 أضع علامة (ص) أمام العبارة الصحيحة ، وحرف (خ) أمام العبارة الخاطئة في ما يلي:

! يُضئ المصباح عند إيصال مرطبه بقطبي داره كهربائية مغلقة. (.....)

الحواس كافية لمقارنة وزن الأشياء المتقاربة في الوزن. (.....)

وحدة قياس الوزن هي الكيلوغرام (Kg). (.....)

هناك نوع واحد من الموازين. (.....)

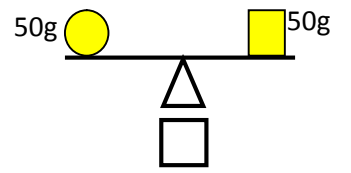
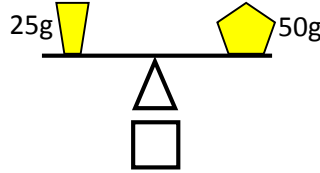
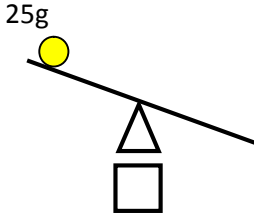
ينتج عن دوران الأرض حول نفسها تعاقب الليل والنهار. (.....)

الشمس تدور حول الأرض. (.....)

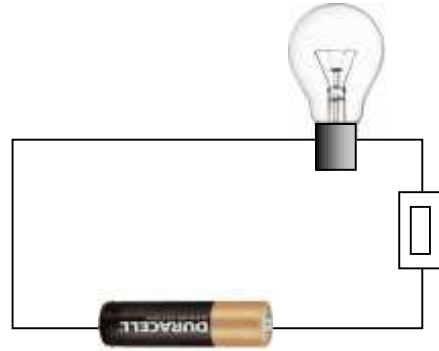
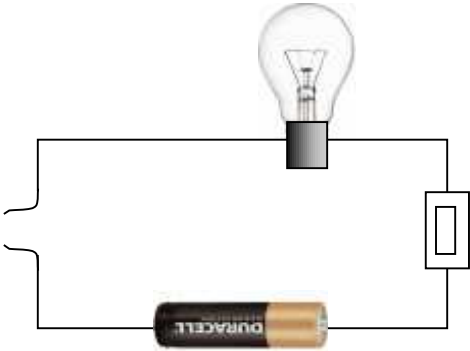
أذكر ثلاثة أنواع من الموازين:

..... ① ② ③

2 أضع علامة تحت العبارة الصحيحة و علامة تحت العبارة الخاطئة:



3 ألون بالأصفر المصباح الذي يشتعل في الدارة الكهربائية :



4 أكمل الفراغات بما يناسب:



توجي لك المنطقة A:

توجي لك المنطقة B: