



الجمهورية الجزائرية الديمقراطية الشعبية

وزارة التربية الوطنية

مؤسسة التربية و التعليم الخاصة **سليم**

ETABLISSEMENT PRIVE D'EDUCATION ET D'ENSEIGNEMENT SALIM



www.ets-salim.com



021 87 10 51



021 87 16 89



Hai Galloul - bordj el-bahri alger

رخصة فتح رقم 1088 بتاريخ 30 جانفي 2011

تحضيري- ابتدائي- متوسط - ثانوي

إعتماد رقم 67 بتاريخ 06 سبتمبر 2010

المستوى: الثالثة ابتدائي (3AP) ماي: 2015

اختبار رقم 1 للفصل الثالث في مادة الرياضيات

التمرين الأول: أنجز العمليتين الآتيتين : 01 ن

$$\begin{array}{r} 42 \\ \times 31 \\ \hline = \dots \end{array}$$

$$\begin{array}{r} 85 \\ \times 5 \\ \hline = \dots \end{array}$$

التمرين الثاني : 02.5 ن

أ- أحول إلى الوحدة المطلوبة:  $4 \times 0.25$

$$4\text{kg} = \dots\dots\dots\text{g}$$

$$1\text{kg } 200 \text{ g} = \dots\dots\dots\text{g}$$

$$1\text{m} = \dots\dots\dots\text{cm}$$

$$3 \text{ dam} = \dots\dots\dots\text{m}$$

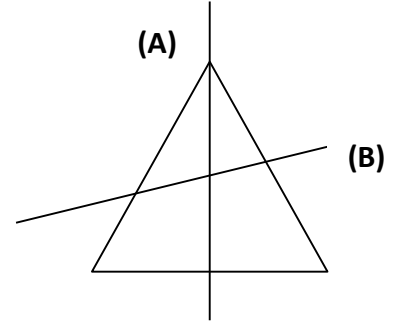
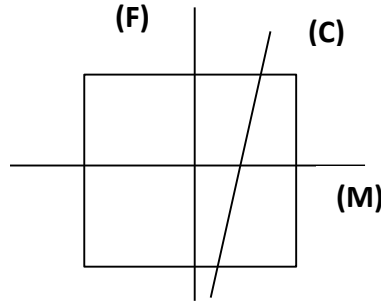
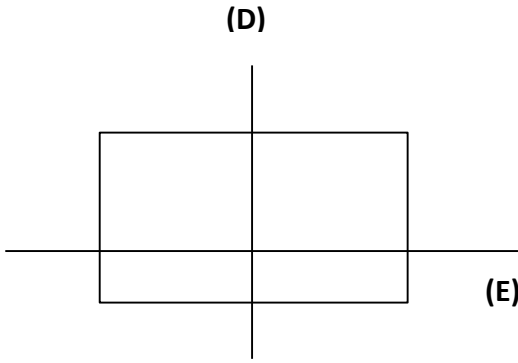
ب- اكتب العدد المناسب مكان النقط :  $3 \times 0.25$

$$4 \times 1000 = \dots\dots\dots / 75 \times 100 = \dots\dots\dots / 84 \times 10 = \dots\dots\dots$$

التمرين الثالث: رتب التواريخ التالية حسب ترتيبها في الرزنامة : 0.25 4

01 جانفي 2005 - 15 جوان 2015 - 21 سبتمبر 2005 - 25 أكتوبر 2000

التمرين الرابع: لاحظ الأشكال الآتية ثم اكمل:



- المستقيم..... هو محور تناظر لهذا المثلث .
- المستقيم ..... هو محور تناظر لهذا المربع .
- المستقيم ..... هو محور تناظر لهذا المربع.
- المستقيم ..... هو محور تناظر لهذا المستطيل.

المشكلة:

أرادت مدرستك أن تكرم التلاميذ المتفوقين ، سلمت لهم عددا من الجوائز كما هو مبين في الجدول الآتي :

عدد الجوائز المسلمة لكل مستوى	عدد التلاميذ المتفوقين	عدد الجوائز المسلمة لكل تلميذ	
.....	25	2	تلاميذ السنة الثالثة
.....	30	3	تلاميذ السنة الرابعة
.....	14	4	تلاميذ السنة الخامسة
.....	العدد الاجمالي للجوائز		

- اكمل ملء الجدول .
- أحسب العدد الاجمالي للجوائز (السنة 3، 4، 5).

حي قعلول - برج البحري - الجزائر

- إذا علمت أن العدد الكلي للجوائز هو 250 جائزة ما هو عدد الجوائز الباقية ؟

الأجوبة

الحل

العمليات

حي قعلول - برج البحري - الجزائر

Web site : [www.ets-salim.com](http://www.ets-salim.com) /021.87.16.89 : الفاكس : Tel-Fax : 021.87.10.51 : ☎

## تصحيح الفرض الأول للفصل الثالث

السنة الثالثة

التمرين الأول: إنجاز العمليتين الآتيتين : 01 ن

$$\begin{array}{r} 42 \\ \times 31 \\ \hline = 42 \\ 126. \\ \hline 1302 \end{array}$$

$$\begin{array}{r} 85 \\ \times 5 \\ \hline = 425 \\ 0.25 \end{array}$$

التمرين الثاني: 02.5 ن

$$3 \times 0.25$$

أ- التحويل إلى الوحدة المطلوبة:  $4 \times 0.25$

$$4\text{kg} = 4000\text{g}$$

$$1\text{kg } 200 \text{ g} = 1200\text{g}$$

$$1\text{m} = 100 \text{ cm}$$

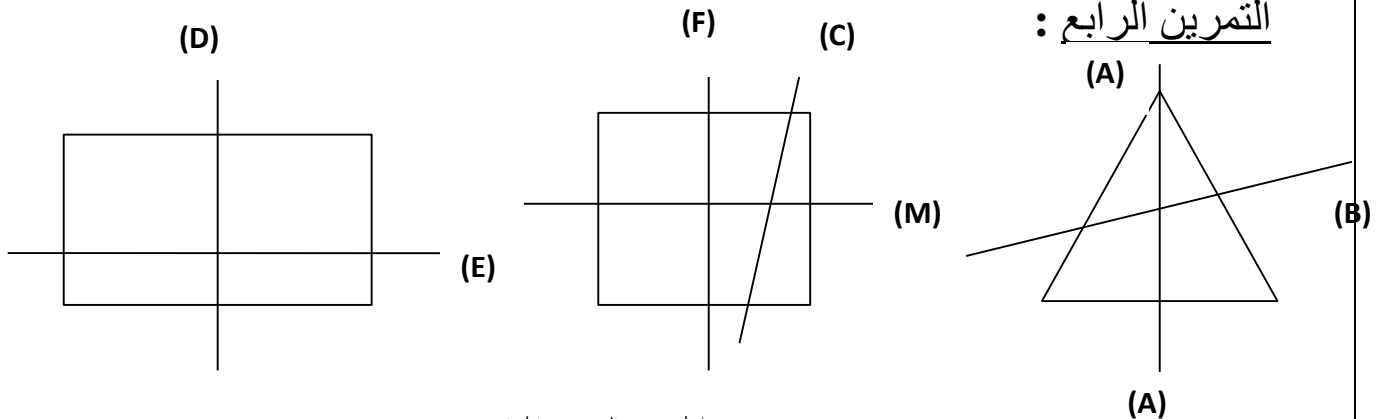
$$3 \text{ dam} = 30 \text{ m}$$

ب- اكتب العدد المناسب مكان النقط :  $3 \times 0.25$

$$4 \times 1000 = 4000 \quad / \quad 75 \times 100 = 7500 \quad / \quad 84 \times 10 = 840$$

التمرين الثالث: ترتيب التواريخ التالية حسب ترتيبها في الرزنامة :  $4 \times 0.25$

15 جوان 2015 – 21 سبتمبر 2005 – 01 جانفي 2005 – 25 أكتوبر 2000



حي قعلول - برج البحري - الجزائر

- المستقيم  
- ال (F)  
- ال (M)  
- ال (D)
- هو محور تناظر لهذا المثلث .  
هو محور تناظر لهذا المربع .  
هو محور تناظر لهذا المربع .  
هو محور تناظر لهذا المستطيل .

### المشكلة :

عدد الجوائز المسلمة لكل مستوى	عدد التلاميذ المتفوقين	عدد الجوائز المسلمة لكل تلميذ	
50	25	2	تلاميذ السنة الثالثة
90	30	3	تلاميذ السنة الرابعة
56	14	4	تلاميذ السنة الخامسة
196	العدد الاجمالي للجوائز		

الأجوبة	الحل	العمليات		
$50+90+56=196$	0.25	25	30	14
		$\times 2$	$\times 3$	$\times 4$
		$= 50$	$= 90$	$= 56$
0.25	0.25	0.25	0.25	0.25
$250 - 196 = 54$	0.25			
		50	250	
		+ 90	- 591	
		56	$= 0 409$	
		$= 196$	0.25	
		0.25		
			0.25 لكل عملية	
			0.25 لكل نتيجة	