

التمرين الأول: أنجز العمليات التالية عمودياً.

1.5 نقاط

$7206 - 2665 =$

$269 \times 3 =$

$4208 \times 5 =$

1.5 نقاط

التمرين الثاني: 1- أكمل ملاً



8 Kg 4 g =g	9600 g =Kg.....g	89 Kg =g
7Kg 37 g =g	2 Kg =g	1010 g =Kg =g
4Kg903g =g	9367 Kg =Kg.....g	58 Kg =g

التمرين الثالث: حصلت حنين في عيد ميلادها على 50 DA من والده و 896 DA من جدّه.

✓ ما هو المبلغ الإجمالي الذي حصلت عليه حنين في عيد ميلادها؟

1.5 نقاط

التمرين الرابع: أكتب البيانات في الجدول.



عدد الوجوه	عدد الرؤوس	عدد الأحرف	المجسم
			1
			2
			3
			4
			5



الوضعية الإدماجية:

اشترت مريم 6 قصص ثمن الواحدة 555 DA و 3 مجلات ب 180 DA للمجلة الواحدة وعلبة

أقلام يزيد ثمنها عن ثمن المجلة ب 450 DA.

4 نقاط

الأجوبة

الحل

العمليات

- المطلوب:

✓ ما هو ثمن المجلات؟

✓ ما هو ثمن علبة الأقلام؟

✓ ما هو ثمن مشتريات مريم؟

✓ ما هو ثمن القصص؟

التمرين الأول: أنجز العمليات التالية عمودياً.

$$\begin{array}{r} 7206 \\ - 2665 \\ \hline 4541 \end{array}$$

$$\begin{array}{r} 269 \\ \times 3 \\ \hline 807 \end{array}$$

$$\begin{array}{r} 4208 \\ \times 5 \\ \hline 21040 \end{array}$$

1.5 نقاط

1.5 نقاط

التمرين الثاني: 1- أكمل ملاً


8 Kg 4 g =g	9600 g =Kg.....g	89 Kg =g
7Kg 37 g =g	2 Kg =g	1010 g =Kg =g
4Kg903g =g	9367 Kg =Kg.....g	58 Kg =g

التمرين الثالث: حصلت حنين في عيد ميلادها على 50 DA من والده و 896 DA من جدّه.


✓ ما هو المبلغ الإجمالي الذي حصلت عليه حنين في عيد ميلادها؟

1.5 نقاط

التمرين الرابع: اكتب البيانات في الجدول.



عدد الوجوه	عدد الرؤوس	عدد الأحرف	المجسم	
			مكعب	1
			اسطوانة	2
			متوازي المستطيلات/بلاط	3
			كرة	4
			هرم	5



الوضعية الإدماجية:

اشترت مريم 6 قصص ثمن الواحدة 555 DA و 3 مجلات بـ 180 DA للمجلة الواحدة وعلبة

أقلام يزيد ثمنها عن ثمن المجلة بـ 450 DA.

4 نقاط

- المطلوب:

$$555 \times 6 = 3330$$

ثمن القصص هو 3330 DA

$$180 \times 3 = 540$$

ثمن المجلات هو 540 DA

$$180 + 450 = 630$$

ثمن علبة الأقلام هو 630 DA

العمليات

$$3330$$

$$+ 540$$

$$+ 630$$

$$\hline 4500$$

$$3330 + 450 + 630 = 4500$$

ثمن مشتريات مريم هو 4500 DA

$$180$$

$$+ 450$$

$$\hline 630$$

$$3330 + 450 + 630 = 4500$$

$$180$$

$$\times 3$$

$$\hline 540$$

$$3330 + 450 + 630 = 4500$$

$$555$$

$$\times 6$$

$$\hline 3330$$

$$3330 + 450 + 630 = 4500$$