



مارس 2024

المستوى: الثالث ابتدائي

## اختبار الفصل الثاني في مادة الرياضيات

التمرين الأول:

(أ) أنجز العمليات التالية:

$$\begin{array}{r} \times 263 \\ 4 \\ \hline = \dots\dots\dots \end{array}$$

$$\begin{array}{r} 894 \\ - 625 \\ \hline = \dots\dots\dots \end{array}$$

$$\begin{array}{r} + 5849 \\ + 250 \\ + 24 \\ \hline = \dots\dots\dots \end{array}$$

$$\begin{array}{r} 3465 \\ + 1249 \\ \hline = \dots\dots\dots \end{array}$$

(ب) أكمل بما يناسب:

$$184 \times 10 = \dots\dots\dots$$

$$6 + 6 + 6 = \dots\dots \times \dots\dots$$

$$45 \times 100 = \dots\dots\dots$$

$$4 + 4 + 4 + 4 + 4 = \dots\dots \times \dots\dots$$

التمرين الثاني:

(أ) تملك مريم مبلغًا ماليًا قدره 945 دينارًا ويملك أمين ضعف المبلغ الذي تملكه أخته مريم.

- ما هو المبلغ الذي يملكه أمين؟

.....

(ب) أكتب المبلغ الذي يملكه أمين بالحروف:

.....

(ت) فكّكه: .....

(ث) أحصره بين الفين متتاليين:

..... < ..... < .....

التمرين الثالث: أحول إلى الوحدة المطلوبة:

$$8000 \text{ m} = \dots\dots\dots \text{ Km}$$

$$5 \text{ Kg } 400 \text{ g} = \dots\dots\dots \text{ g}$$

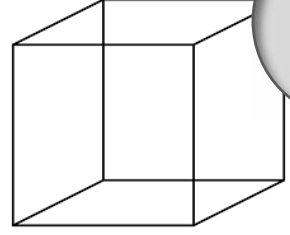
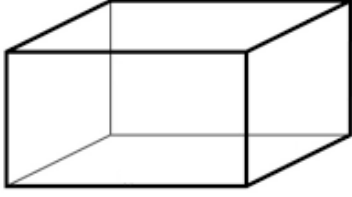
$$6 \text{ Km } 5 \text{ m} = \dots\dots\dots \text{ m}$$

$$9 \text{ Kg} = \dots\dots\dots \text{ g}$$

$7 \text{ m} = \dots\dots\dots \text{ mm}$

$7500 \text{ g} = \dots\dots \text{ Kg} \dots\dots\dots \text{g}$

### التمرين الرابع: أَمَلْ الفَرَاقَاتِ.



- (أ) أَنَا مُجَسِّمٌ لِي 8 رُؤُوسٍ و 12 حَرْفًا و 6 أَوْجُهَ مُسْتَطِيلَةً ← أَنَا .....
- (ب) أَنَا مُجَسِّمٌ أَتَدْحَرَجُ وَ لَيْسَ لِي أَوْجُهَ وَلَا أَحْرَفَ وَلَا رُؤُوسَ ← أَنَا .....
- (ت) أَنَا مُجَسِّمٌ لِي 8 رُؤُوسٍ و 12 حَرْفًا و 6 أَوْجُهَ مُرْبَعَةً ← أَنَا .....

### المشكلة:

بِمُنَاسَبَةِ إِقْتِرَابِ شَهْرِ رَمَضَانَ الْكَرِيمِ إِشْتَرَتْ الْأُمُّ بَعْضَ اللَّوَازِمِ الْمَنْزِلِيِّ، خُضِرَ بِ 1200 دِينَارًا، مَوَادُّ غِدَائِيَّةٌ بِ 2450 دِينَارًا و 5 صُحُونِ ثَمَنُ الصُّحْنِ الْوَاحِدِ هُوَ 210 دِينَارًا.

1. أَحْسَبُ ثَمَنَ شِرَاءِ الصُّحُونِ؟

2. أَحْسَبُ ثَمَنَ الْمُشْتَرِيَّاتِ؟

أَعْطَتِ الْأُمُّ لِلْبَائِعِ مَبْلَغًا مَالِيًّا قَدْرُهُ 5000 دَج

3. كَمْ يُرْجِعُ لَهَا الْبَائِعُ؟

الأجوبة

الحل

العمليات

.....

.....

.....

.....

.....

.....

## التصحيح النموذجي

### التمرين الأول:

أ) أنجز العمليات التالية:

$$\begin{array}{r} \times 263 \\ 4 \\ \hline = 1052 \end{array}$$

$$\begin{array}{r} 894 \\ - 625 \\ \hline = 269 \end{array}$$

$$\begin{array}{r} + 5849 \\ + 250 \\ + 24 \\ \hline = 6123 \end{array}$$

$$\begin{array}{r} 3465 \\ + 1249 \\ \hline = 4714 \end{array}$$

ب) أكمل بما يناسب:

$$184 \times 10 = 1840$$

$$45 \times 100 = 4500$$

$$6 + 6 + 6 = 6 \times 3$$

$$4 + 4 + 4 + 4 + 4 = 4 \times 5$$

### التمرين الثاني:

ج) تملك مريم مبلغ مالي قدره 945 دينارًا ويملك أخوها أمين ضعف المبلغ التي تملكه أخته مريم.

- ما هو المبلغ الذي يملكه أمين؟

$$945 + 945 = 1890 \text{ هو: المبلغ الذي يملكه أمين هو:}$$

ح) أكتب المبلغ الذي يملكه أمين بالحروف:

ألف وثمان مائة وتسعون

$$1890 = 1000 + 800 + 90 \text{ فككته:}$$

د) احصره بين ألفين متتاليتين:

$$1000 < 1890 < 2000$$

### التمرين الثالث: أحول إلى الوحدة المطلوبة

$$8000 \text{ m} = 8 \text{ Km}$$

$$6 \text{ Km } 5 \text{ m} = 6005 \text{ m}$$

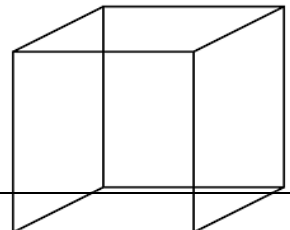
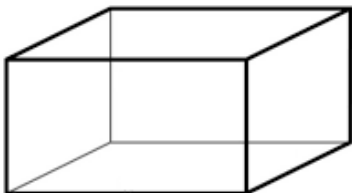
$$7 \text{ m} = 7000 \text{ mm}$$

$$5 \text{ Kg } 400 \text{ g} = 5400 \text{ g}$$

$$9 \text{ Kg} = 9000 \text{ g}$$

$$7500 \text{ g} = 7\text{Kg } 500\text{g}$$

### التمرين الرابع: أملأ الفراغات



ث) أنا مُجَسِّمٌ لي 8 رُؤُوس و 12 حَرْف و 6 أَوْجُه مُسْتَطِيلة ← أنا متوازي

### المستطيلات

ج) أنا مُجَسِّمٌ أَتَدْحَرَج و لَيْسَ لِي أَوْجُه و لا حَرْف و لا رَأْس ← أنا كرة

ح) أنا مُجَسِّمٌ لي 8 رُؤُوس و 12 حَرْف و 6 أَوْجُه مُرْبِعة ← أنا مكعب

### المشكلة:

بِمُنَاسَبَةِ إِقْتِرَابِ شَهْرِ رَمَضَانَ الْكَرِيمِ إِشْتَرَتْ الْأُمُّ بَعْضَ اللَّوْازِمِ الْمَنْزِلِيَّةِ، خُضِرَ بِـ 1200 دِينَارًا، مَوَادِّ غِذَائِيَّةٍ بِـ 2450 دِينَارًا و 5 صُحُونٍ ثَمَنُ الصُّحْنِ الْوَاحِدِ هُوَ 210 دِينَارًا.

4. احسب ثمن شراء الصُّحُونِ؟

5. احسب ثمن المُشْتَرِيَّاتِ.

أَعْطَتِ الْأُمُّ لِلْبَائِعِ مَبْلَغَ مَالِي قَدْرُهُ 5000 دَج

6. كَمْ يَرْجِعُ لَهَا الْبَائِعُ

الأجوبة

الحل

العمليات

$$210 \times 5 = 1050 \text{ DA}$$

ثمن شراء الصُّحُونِ هُوَ 1050 دَج

$$2450 + 1200 + 1050 = 4700 \text{ DA}$$

ثمن كلِّ المُشْتَرِيَّاتِ هُوَ 4700 دَج

$$5000 - 4700 = 300 \text{ DA}$$

يُرْجِعُ لَهَا الْبَائِعُ 300 دَج

$$\begin{array}{r} 2450 \\ + 1200 \\ + 1050 \\ \hline \end{array}$$

$$\begin{array}{r} 210 \\ \times 5 \\ \hline = 1050 \end{array}$$

$$\begin{array}{r} 5000 \\ - 4700 \\ \hline \end{array}$$

$$= 300$$