

## اختبار الفصل الثاني في الرياضيات

التمرين الأول: (1.5ن) أحصر الأعداد التالية كما في المثال :

$$1200 < 1256 < 1300$$

$$\dots\dots\dots < 3487 < \dots\dots\dots$$

$$\dots\dots\dots < 5025 < \dots\dots\dots$$

$$\dots\dots\dots < 7899 < \dots\dots\dots$$

التمرين الثاني: (1.5ن): ألاحظ النتائج ثم أضع العملية المناسبة ( + أو × ) .

$$( 2 \dots 4 ) \dots 3 = 18$$

$$5 \dots ( 2 \dots 3 ) = 25$$

$$( 5 \dots 5 ) \dots 4 = 40$$

$$6 \dots ( 1 \dots 5 ) = 36$$

$$3 \dots 2 \dots 7 = 35$$

$$10 \dots ( 3 \dots 6 ) = 90$$

التمرين الثالث: (1.5ن) أحول إلى الوحدة المطلوبة:

$$1 \text{ m} = \dots\dots\dots \text{mm}$$

$$3 \text{ m} = \dots\dots\dots \text{dm}$$

$$2000 \text{ mm} = \dots\dots\dots \text{m}$$

$$5 \text{ m} = \dots\dots\dots \text{cm}$$

$$\text{نصف متر} = \dots\dots\dots \text{cm}$$

$$800 \text{ cm} = \dots\dots\dots \text{m}$$

التمرين الرابع: (1.5ن)

اقرأ التوقيت ثم ارسم عقارب كل ساعة

الوضعية الإدماجية (4ن) :


اشترت خديجة 3 قصص من نفس النوع، ثم الواحدة 75 ديناراً، واشترت 5 أقلام، ثم الواحد 15 ديناراً.

- ما هو ثمن القصص؟


- ما هو ثمن الأقلام؟

أعطت للمكتبي 500 ديناراً.


- كم يرجع لها المكتبي؟




6h25min




20h15min




11h00min




3h5min




6h25min



20h15min




11h00min




3h5min



6h25min



20h15min




11h00min




3h5min



6h25min



20h15min



11h00min




3h5min




6h25min



20h15min




11h00min




3h5min



6h25min



20h15min




11h00min




3h5min



6h25min



20h15min



11h00min



3h5min