



الجمهورية الجزائرية الديمقراطية الشعبية

وزارة التربية الوطنية

مؤسسة التربية و التعليم الخاصة سليم

ETABLISSEMENT PRIVE D'EDUCATION ET D'ENSEIGNEMENT SALIM



www.ets-salim.com



021 87 10 51



021 87 16 89



Hai Galloul - bordj el-bahri alger

رخصة فتح رقم 1088 بتاريخ 30 جانفي 2011

خضيري- ابتدائي- متوسط - ثانوي

إعتماد رقم 67 بتاريخ 06 سبتمبر 2010

المستوى: الثالثة ابتدائي (3AP) جانفي: 2015

اختبار رقم 1 للفصل الثاني في مادة الرياضيات

التورين الأول : 03 ن

أ - انجز العمليات الآتية :

$$\begin{array}{r} 9501 \\ - \quad 321 \\ \hline = \dots \end{array}$$

$$\begin{array}{r} \dots \\ - \quad 2142 \\ \hline = 6753 \end{array}$$

$$\begin{array}{r} 2015 \\ - \quad 2006 \\ \hline = \dots \end{array}$$

ب- احصر الأعداد الآتية بين ألفين متتاليتين :

..... < 3780 < .....

..... < 1989 < .....

..... < 2846 < .....

التورين الثاني : 0.75 ن

أحول إلى الوحدة المطلوبة :

$$1 \text{ L} = \dots \text{ CL}$$

$$5000 \text{ m L} = \dots \text{ L}$$

$$200 \text{ CL} = \dots \text{ L}$$

التورين الثالث : 1.25 ن

أقامت مدرستك مسابقة فكرية فتحصل الفريق الأول على 558 نقطة و تحصل الفريق الثاني على 145 نقطة أقل من الفريق الأول .

- ما هو مجموع النقاط الذي تحصل عليه الفريق الثاني ؟

حي قعلول - برج البحري - الجزائر

الصفحة 2/1

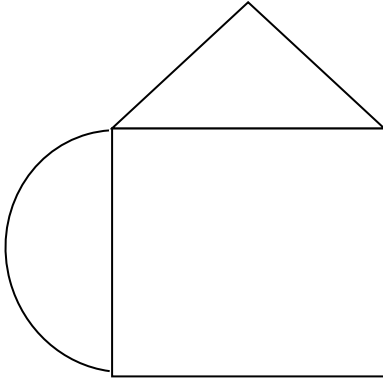
العمليات

الحل

الأجوبة

## التهرين الرابع : 01 ن

طلبت المعلمة من أخيك استخراج الزوايا القائمة من هذا الشكل ، ساعده على تلويينها .



## الهشكلة : 04 ن

بمناسبة عيد ميلادك أرادت أمك أن تحضر حفلة لك ، فقامت بشراء كعكة بـ 800 ديناراً و 3 علب عصير بـ 50 ديناراً للعبة الواحدة و كيساً من الحلوى بـ 125 ديناراً.

أعطت أمك للبايع ورقة نقدية ذات 2000 ديناراً


ساعد أمك على حساب مايلي :

- 1- الثمن الكلي لثلاث (3) علب من العصير .
- 2- ثمن كل المشتريات .
- 3- ما هو المبلغ الذي يرجعه البائع لأمك (المبلغ المتبقي)

العمليات

الحل

الأجوبة



الجمهورية الجزائرية الديمقراطية الشعبية

وزارة التربية الوطنية

مؤسسة التربية والتعليم الخاصة **سليم**

ETABLISSEMENT PRIVE D'EDUCATION ET D'ENSEIGNEMENT SALIM

www.ets-salim.com 021 87 10 51 021 87 16 89 Hai Galloul - bordj el-bahri alger

رخصة فتح رقم 1088 بتاريخ 30 جانفي 2011

تحضيري- ابتدائي- متوسط - ثانوي

إعتماد رقم 67 بتاريخ 06 سبتمبر 2010

جانفي: 2015

الهستوي: الثالثة ابتدائي (3AP)

التصحيح النموذجي للاختبار رقم 1 للفصل الثاني في وادة الرياضيات

التهرين 1: 03 ن

أ - إنجاز العمليات الآتية :

$$\begin{array}{r} 9501 \\ - 321 \\ \hline 9180 \end{array} \quad 0.5 \quad \begin{array}{r} 8895 \\ - 2142 \\ \hline 6753 \end{array} \quad 0.5 \quad \begin{array}{r} 2015 \\ - 2006 \\ \hline 0009 \end{array} \quad 0.5$$

ب- حصر الأعداد الآتية بين ألفين متتاليتين :

$$\begin{array}{l} 3000 < 3780 < 4000 \\ 1000 < 1989 < 2000 \\ 2000 < 2846 < 3000 \end{array} \quad \begin{array}{l} 0.25 \times 2 \\ 0.25 \times 2 \\ 2 \times 0.25 \end{array}$$

التهرين 02: أحول إلى الوحدة المطلوبة : 0.75 ن

$$1 \text{ L} = 100 \text{ CL}$$

$$5000 \text{ m L} = 5 \text{ L}$$

$$200 \text{ CL} = 2 \text{ L}$$

التهرين 03 : 1.25 ن

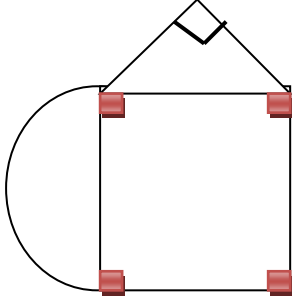
الأجوبة	الحل	العمليات
558-145=413	0.25 ن	558
		-145
		=413
مجموع النقاط الذي تحصل عليه الفريق الثاني هو	0.25 ن	0.5 ن
0.25 ن	413 نقطة	

الصفحة 2/1

حي قعلول - برج البحري - الجزائر

## التهرين 4 : 01 ن

استخراج الزوايا القائمة من هذا الشكل ، و تلوينها .



### المشكلة :

<u>الأجوبة</u>	<u>الحل</u>	<u>العمليات</u>
$50 \times 3 = 150$ التمن الكلي لثلاث علب من العصير هو 150 ديناراً <b>0.25</b>	<b>0.25</b>	$800$ $+125$ $\underline{+150}$ $=1075$
$800 + 150 + 125 = 1075$ تمن كل المشتريات هو 1075 ديناراً <b>0.25</b>	<b>0.5</b>	$0.5$ $2000$ $\underline{-1075}$ $= 925$
$2000 - 1075 = 925$ المبلغ المتبقي هو 925 ديناراً <b>0.25</b>	<b>0.25</b>	<b>0.5</b>