

## الجمهورية الجزائرية الديمقراطية الشعبية

القسم : السنة الثالثة ابتدائي

المدرسة الابتدائية : قبلي عبد الله

المدة : ساعة واحدة

السنة الدراسية : 2024 / 2023

المقاطعة : غزوات - 04 .

### اختبار الفصل الثاني في الرياضيات

( 1 ) اكْمِلْ بِمَا يُنَاسِبُ :

$$15 \times 10 = \dots\dots\dots$$

$$7 \times 1000 = \dots\dots\dots$$

$$37 \times \dots\dots\dots = 3700$$

$$428 \times \dots\dots\dots = 4280$$



( 2 ) اُرْتَبِّبِ الأَعْدَادَ التَّالِيَةَ تَنَازُلِيًّا :

5030 . 51 . 7540 . 5 . 9010 . 7000

.....

( 3 ) اُحْوِلْ إِلَى الوَحْدَةِ المُنَاسِبَةِ :

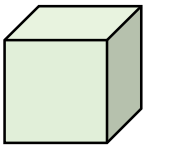


$$1L = \dots\dots\dots cL$$

$$200cL = \dots\dots\dots L$$

$$3L \ 45cL = \dots\dots\dots CL$$

$$2000cL = \dots\dots\dots L$$

( 4 ) اَكْتُبْ اسْمَ كُلِّ مُجَسِّمٍ :



.....

.....

.....

( 5 ) مُشْكَلَةٌ :



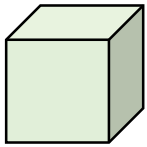
يُوجَدُ فِي مَكْتَبَةِ المَدْرَسَةِ 4 رُفُوفٍ ، فِي كُلِّ رَفٍّ 125 كِتَابًا .

- مَا هُوَ عَدَدُ كُلِّ الكُتُبِ فِي المَكْتَبَةِ ؟

فِي حِصَّةِ المُطَالَعَةِ وَرَعَ الأُسْتَاذُ 78 كِتَابًا عَلَى التَّلَامِيذِ .

- مَا هُوَ عَدَدُ الكُتُبِ البَاقِيَةِ فِي المَكْتَبَةِ ؟

. الإجابة النموذجية وسلم التنقيط لاختبار الفصل الثاني سنة 3 في الرياضيات 2023 / 2024 .

العلامة		عناصر الإجابة	محاور الموضوع
المجموع	مجزأة		
02ن	4×0.5	<p>أُكْمِلُ بِمَا يُنَاسِبُ :</p> $15 \times 10 = 150$ $37 \times 100 = 3700$ $7 \times 1000 = 7000$ $428 \times 10 = 4280$	1
02ن	02	<p>أَرْتَبُ الأَعْدَادَ التَّالِيَةَ تَنَازُلِيًّا :</p> <p>5030 . 51 . 7540 . 5 . 9010 . 7000</p> <p>→ 9010 &gt; 7540 &gt; 7000 &gt; 5030 &gt; 51 &gt; 5</p>	2
02ن	4×0.5	<p>أَحْوِلْ إِلَى الوَحْدَةِ المُنَاسِبَةِ :</p> $1L = 100 cL$ $200cL = 2 L$ $3L 45cL = 345 CL$ $2000cL = 20 L$	3
1.5ن	3×0.5	<p>أَكْتُبْ اسْمَ كُلِّ مُجَسِّمٍ :</p> <div style="display: flex; justify-content: space-around; align-items: center;"> <div style="text-align: center;">  <p>بلاطة قائمة</p> </div> <div style="text-align: center;">  <p>أسطوانة</p> </div> <div style="text-align: center;">  <p>مكعب</p> </div> </div>	4
2.5ن	<p>0.5</p> <p>0.25</p> <p>0.5</p> <p>0.5</p> <p>0.25</p> <p>0.5</p>	<p><math>125 \times 4 = 500</math></p> <p>العملية العمودية</p> <p>عَدَدُ كُلِّ الكُتُبِ فِي المَكْتَبَةِ هو 500 كتاب</p> <p><math>500 - 78 = 422</math></p> <p>العملية العمودية</p> <p>عَدَدُ الكُتُبِ البَاقِيَةِ فِي المَكْتَبَةِ هو 422 كتابا</p>	مشكلة