

## اختبار الفصل الأول في الرياضيات

2016

س 3 ابتدائي

2015

### التمرين الأول

أحول إلى الوحدة المطلوبة:

$12\text{dm} = \dots\dots\dots\text{mm}$

$32\text{hm} = \dots\dots\dots\text{m}$

$1542\text{cm} = \dots\dots\dots\text{cm} \dots\dots\dots\text{dm} \dots\dots\dots\text{m} \dots\dots\dots\text{dam}$

### التمرين الثاني

أنجز العمليات الآتية عموديا:

$6405 - 2232 = \dots\dots\dots$

$275 + 1432 = \dots\dots\dots$

$254 \times 2 = \dots\dots\dots$

### التمرين الثالث

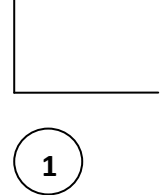
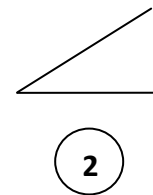
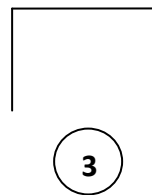
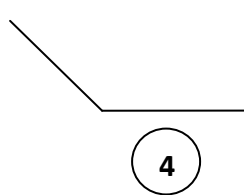
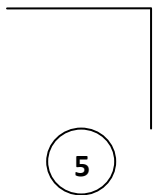
أكتب الأعداد الآتية على المستقيم المدرج , ثم رتبها ترتيبا تنازليا :

$3900 - 1100 - 2500$



### التمرين الرابع

لاحظ الزوايا الآتية ثم حدد القائمة منها :



### الوضعية الإدماجية:

عند أحمد مبلغ 840 دينار , زادته أمه 175 دينارا.

- ماهو المبلغ الذي صار بحوزة أحمد؟ أكتبه بالحروف .
- اشترى أحمد كتبا خارجية بـ 910 دينارا .
- ماهو المبلغ المتبقى له ؟
- هل المبلغ كاف لشراء علبة أقلام تلوين ثمنها 150 دينار؟ ولماذا؟