


## التاريخ :

ذهبت في رحلة مدرسية فزرت مدينة جميلة الأثرية و متحفها ، فتعجبت من تنوع هذه الآثار

**الوضعية الأولى :** اكتب تحت الرسم نوع الآثار



**الوضعية الثانية :** حدثكم مسؤول المتحف عن التاريخ القديم فكتبت فقرة عن المراحل التاريخية :

املاً الفراغات بما تراه مناسباً :

السكن في الكهوف / التاريخية / ابتكار الكتابة / ممارسة الصيد / ممارسة الزراعة / التنقل والترحال / الاستقرار / ما قبل التاريخ / ظهور الانسان / 3200 / سقوط روما .


قسّم المؤرخون فترة التاريخ القديم إلى مرحلتين وهما :

مرحلة ..... وتبدأ منذ ..... إلى غاية ابتكار الكتابة حوالي ..... سنة قبل الميلاد،  
وتتميز ب ..... و ..... و .....

المرحلة ..... وتمتد من ابتكار الكتابة حوالي 3200 سنة قبل الميلاد إلى غاية عام 476 ميلادية وهو  
تاريخ ..... وتتميز ب ..... و .....

**الوضعية الثالثة :** بعد العودة من الرحلة كلّفكم المعلم بجمع الأدلة على قدم تعمير الانسان لمنطقة شمال افريقيا ، فبدأت بالبحث عبر الانترنت فوجدت العديد من المناطق الأثرية في الجزائر

اكتب تحت كل موقع أثري منطقتة



مدينة .....

منطقة .....

منطقة تيغنيف

مشى العربي

ولاية باتنة

ولاية سطيف

ولاية .....

ولاية .....

## الجغرافيا :

تعرفت عبر الانترنت على صديق من دولة تونس الشقيقة فطلب منك أن تعرفه على أهم تضاريس الجزائر

**الوضعية الأولى :** أرسل له هذه الرسالة بعد أن تكمل فراغاتها

في الجزائر العديد من التضاريس فهناك :

.....وهي مرتفع أرضي يتميز بقمة صخرية

..... وهي مساحة واسعة من الكثبان الرملية تتميز بقلة المياه والنباتات

وهناك ..... وهي أراضي واسعة ومنخفضة ومستوية صالحة للزراعة

أما ..... فهي أراضي واسعة مرتفعة قليلا وهي أقل انحدارا من الجبال .

**الوضعية الثانية :** بعدما عرف صديقك تضاريس الجزائر سألته قائلا : حدثني عن الطقس والمناخ في تونس،

فسمعك أخوك الصغير فسألك : ما الفرق بين الطقس والمناخ ؟

الطقس : .....

المناخ : .....

**الوضعية الثالثة :** بعد دردشة طويلة بينكما ، تبين لك أن صديقك حسام التونسي يعيش في منطقة ريفية بخلافك

أنت الذي تعيش في المدينة .

أجب بصحيح أو خطأ

1. يمارس سكان الريف العمل في الإدارة المحلية .....
2. تنتشر في المدينة ممارسة الرعي والزراعة بكثرة .....
3. سكان المدينة يشتغلون في تركيب السيارات .....
4. فتح رجل أعمال مصنعا للكمبيوتر في الريف .....
5. عمي علي يسكن المدينة ويربي الدواجن .....
6. خالتي حيزية تسكن الريف و تصنع الزرابي .....
7. الطب والتعليم والنقل وظائف في المدينة .....

**الوضعية الرابعة :** والد صديقك يعمل في صنع الزرابي لهذا وعدك بإرسال زربية هدية لك كعربون صداقة ، لكنك

احترت ماذا ستهديه لأن والدك يعمل طبيبا .

ماذا يسمى نوع كل من عمل والدك و عمل والد صديقك

صنع الزرابي هو عمل .....

الطب هو عمل .....

## التاريخ :

ذهبت في رحلة مدرسية فزرت مدينة جميلة الأثرية و متحفها ، فتعجبت من تنوع هذه الآثار

الوضعية الأولى : اكتب تحت الرسم نوع الآثار



شخصيات تاريخية أو مسكوكات



آثار عمرانية



أدوات حجرية



نقوش صخرية

الوضعية الثانية : حدثكم مسؤول المتحف عن التاريخ القديم فكتبت فقرة عن المراحل التاريخية :

املاً الفراغات بما تراه مناسباً :

السكن في الكهوف / التاريخية / ابتكار الكتابة / ممارسة الصيد / ممارسة الزراعة / التنقل والترحال / الاستقرار / ما قبل التاريخ / ظهور الانسان / 3200 / سقوط روما .

قسّم المؤرخون فترة التاريخ القديم إلى مرحلتين وهما :

مرحلة ما قبل التاريخ وتبدأ منذ ظهور الانسان إلى غاية ابتكار الكتابة حوالي 3200 سنة قبل الميلاد، وتتميز بـ السكن في الكهوف و التنقل والترحال و ممارسة الصيد

المرحلة التاريخية وتمتد من ابتكار الكتابة حوالي 3200 سنة قبل الميلاد إلى غاية عام 476 ميلادية وهو تاريخ سقوط روما وتتميز بـ الاستقرار وابتكار الكتابة و ممارسة الزراعة


الوضعية الثالثة : بعد العودة من الرحلة كلفكم المعلم بجمع الأدلة على قدم تعمير الانسان لمنطقة شمال افريقيا ، فبدأت بالبحث عبر الانترنت فوجدت العديد من المناطق الأثرية في الجزائر

اكتب تحت كل موقع أثري منطقتة



مدينة تيمقاد

ولاية باتنة



منطقة عين لحنش

ولاية سطيف



منطقة تيغنيف

ولاية معسكر



مشى العربي

ولاية ميلة

## الجغرافيا :

تعرفت عبر الانترنت على صديق من دولة تونس الشقيقة فطلب منك أن تعرفه على أهم تضاريس الجزائر

**الوضعية الأولى :** أرسل له هذه الرسالة بعد أن تكمل فراغاتها

في الجزائر العديد من التضاريس فهناك :

**الجبال** وهي مرتفع أرضي يتميز بقمة صخرية

**الصحراء** وهي مساحة واسعة من الكثبان الرملية تتميز بقلة المياه والنباتات

وهناك **السهول** وهي أراضي واسعة ومنخفضة ومستوية صالحة للزراعة

أما **الهضاب** فهي أراضي واسعة مرتفعة قليلا وهي أقل انحدارا من الجبال .

**الوضعية الثانية :** بعدما عرف صديقك تضاريس الجزائر سألته قائلا : حدثني عن الطقس والمناخ في تونس،

فسمعك أخوك الصغير فسألك : ما الفرق بين الطقس والمناخ ؟

**الطقس :** حالة الجو في منطقة ما خلال فترة قصيرة (يوم أو يومين)

**المناخ :** حالة الجو السائدة في منطقة معينة خلال فترة طويلة

**الوضعية الثالثة :** بعد دردشة طويلة بينكما ، تبين لك أن صديقك حسام التونسي يعيش في منطقة ريفية بخلافك

أنت الذي تعيش في المدينة .

أجب بصحيح أو خطأ

1. يمارس سكان الريف العمل في الإدارة المحلية **خطأ**
2. تنتشر في المدينة ممارسة الرعي والزراعة بكثرة **خطأ**
3. سكان المدينة يشتغلون في تركيب السيارات **صحيح**
4. فتح رجل أعمال مصنعا للكمبيوتر في الريف **خطأ**
5. عمي علي يسكن المدينة ويربي الدواجن **خطأ**
6. خالتي حيزية تسكن الريف و تصنع الزرابي **صحيح**
7. الطب والتعليم والنقل وظائف في المدينة **صحيح**

**الوضعية الرابعة :** والد صديقك يعمل في صنع الزرابي لهذا وعدك بإرسال زربية هدية لك كعربون صداقة ، لكنك

احترت ماذا ستهديه لأن والدك يعمل طبيبا

ماذا يسمى نوع كل من عمل والدك و عمل والد صديقك

صنع الزرابي هو عمل إنتاجي مادي

الطب هو عمل إنتاجي لامادي