

المادة: جغرافيا  
المستوى: الثالثة ابتدائي

الاسم واللقب: .....  
التاريخ: 17/03/2022





## اختبار الفصل الثاني

السند:

في عطلة الأسبوع جلس عمر وعصام يختبران معلومتهم في مادة الجغرافيا ضمن لعبة اختبر معلوماتك. فمرت اللعبة بثلاث مراحل.

### المرحلة الأولى:

-لاحظ الصور ثم اكتب الاسم المناسب تحت كل صورة.

|  |  |   |  |
|--|--|---|--|
|  |  |  |  |
| .....  | .....  | .....   | .....  |

-ماذا تمثل هذه الصور؟

-ما هو الفرق بين السهول والجبال؟

-الجبال:

-السهول:

### المرحلة الثانية:

أجب بصحيح أو خطأ.

-المناخ هو حالة الجو لفترة قصيرة. (.....)

-الطقس هو حالة الجو لفترة قصيرة. (.....)

-الجبال الكلسية صالحة للزراعة (.....)

-النشاط الذي يمارس في الريف هو الفلاحة. (.....)

## الوضعية الإدماجية:

يختلفُ نَشَاطُ الإنسانِ مِنَ المدينةِ إلى الرِّيفِ.

- في بَضْعَةٍ أُسْطَرِّ تَحَدَّثُ عَنِ الأَنْشِطَةِ الَّتِي تُمَارَسُ فِي الرِّيفِ.

---

---

---

---

المادة: جغرافيا  
المستوى: الثالثة ابتدائي

الاسم واللقب: .....  
التاريخ: 17/03/2022

## تصحيح اختبار الفصل الثاني

السند:

في العُطْلَةِ الأُسْبُوعِ جَلَسَ عُمَرُ وَعِصَامُ يَخْتَبِرَانِ مَعْلُومَاتِهِمَا فِي مَادَّةِ الجُغْرَافِيَا ضِمْنَ لُغْبَةِ اخْتِبَرِ مَعْلُومَاتِكَ، فَمَرَّتْ بِثَلَاثِ مَرَاجِلِ.

### المرحلة الأولى:

-لاحظ الصُّورَ ثمَّ أكتب اسمَ تحت كلِّ صورة

|  |  |   |  |
|--|--|---|--|
|  |  |  |  |
| السُّهُول  | الهَضَاب   | الجِبَال  | الصَّحْرَاء  |

-مَاذَا تُمَثِّلُ هَذِهِ الصُّورُ؟

تمثل هذه الصُّور التَّضَاريس

-ما هو الفَرْقُ بَيْنَ السُّهُولِ والجِبَالِ؟

-الجِبَال: هي مرتفعٌ أرضيٌّ يَمْتَارُ بِقِمَّةٍ حَادَّةٍ وَمُنْحَدَرٍ حَاطِرٍ.

-السُّهُول: هي أَرْضِيٌّ مُنْحَفِضَةٌ وَاسِعَةٌ وَمُسْتَوِيَةٌ صَالِحَةٌ لِلزَّرَاعَةِ.

### المرحلة الثانية:

-أجِبْ بِصَحِيحٍ أخطأ.

(خطأ)

-المُنَاخُ هُوَ حَالَةٌ الحَوِّ لِفَتْرَةٍ قَصِيرَةٍ

(صحيح)

-الطَّقْسُ هُوَ حَالَةٌ الجَوِّ لِفَتْرَةٍ قَصِيرَةٍ.

(خطأ)

-الجِبَالُ الكَلْسِيَّةُ صَالِحَةٌ لِلزَّرَاعَةِ

(صحيح)

-النَّشَاطُ الَّذِي يُمَارَسُ فِي الرِّيفِ هُوَ الفِلاحة

## الوضعية الإدماجية:

-يَخْتَلِفُ نَشَاطُ الْإِنْسَانِ مِنَ الْمَدِينَةِ إِلَى الرَّيفِ.

-فِي بَعْضَةِ أَسْطُرٍ تَحَدَّثُ عَنِ الْأَنْشِطَةِ الَّتِي تُمَارَسُ فِي الرَّيفِ.