

السنة الدراسية : 2025/2024	اختبار الفصل الثاني في مادة التاريخ والجغرافيا	مقاطعة حاسي خليفة
القسم : السنة الثالثة 4	نموذج 1	ابتدائية الشهيد غبش السايح

التاريخ :

التمرين الأول : صنف الآثار التالية في الجدول

كتابات التاسيلي / فأس حجري / ماسينيسا / قطعة نقدية معدنية / عين لحنش / مدينة تيمقاد

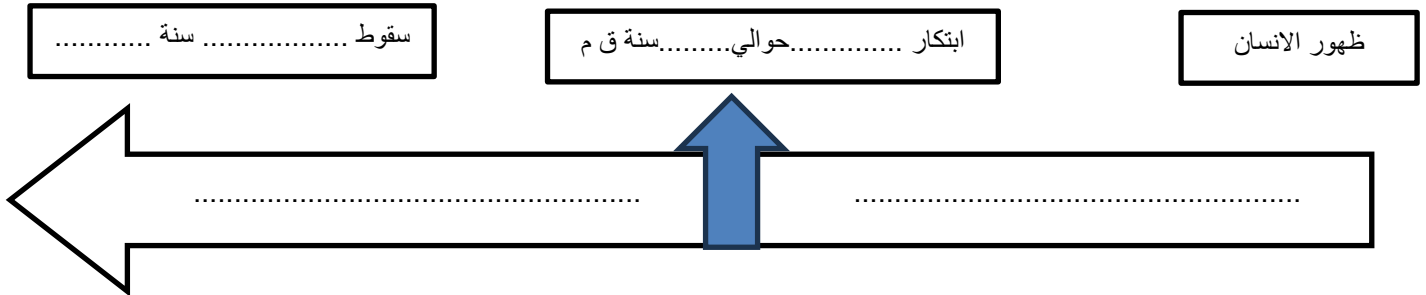
أدوات حجرية	نقوش صخرية	مواقع أثرية	آثار عمرانية	مسكوكات	شخصية تاريخية

التمرين الثاني : اكتب ما تتميز به كل مرحلة من مراحل التاريخ القديم

السكن في الكهوف / اكتشاف المعادن / ابتكار الكتابة / ممارسة الصيد / ممارسة الزراعة / التنقل والترحال / الاستقرار

المرحلة التاريخية	مرحلة ما قبل التاريخ

التمرين الثالث : أكمل الخط الزمني الذي يبين مراحل التاريخ القديم




الخط الزمني لمراحل ما قبل التاريخ

التمرين الرابع : اربط بسهم الموقع الأثري بمكان تواجده

ولاية ميلة	عين لحنش
ولاية سطيف	منطقة تيغنيف
ولاية معسكر	مشتى العربي
ولاية قسنطينة	مدينة تيمقاد
ولاية باتنة	ضريح ماسينيسا

الجغرافيا :

التمرين الأول : اكتب اسم المظهر التضاريسي المناسب تحت كل صورة



التمرين الثاني : ميّز بين الطقس والمناخ من خلال قراءتك للبطاقتين التاليتين

.....

.....

يتميز شمال الجزائر خلال فصل الشتاء بدرجة حرارة معتدلة مع سقوط أمطار معدلها السنوي ما بين 600 و800 ملميمتر وسقوط الثلوج على المرتفعات خلال أيام معدودة

جاء في نشرة خاصة للديوان الوطني للأرصاد الجوية بأن شمال الجزائر يسوده في الصباحة جو مشمس مع حرارة معتدلة ، وفي الظهرية تتلبد السماء بسحب كثيفة مع احتمال سقوط أمطار وانخفاض في درجات الحرارة

التمرين الثالث : تعرّف على أنشطة الانسان في المدينة والريف

اذكر ثلاث أنشطة يمارسها الانسان في المدينة :



1.

2.

3.

اذكر ثلاث أنشطة يمارسها الانسان في الريف :

1.

2.

3.

التمرين الرابع : صنف هذه الأنشطة في الجدول

البريد والمواصلات / التعليم / إنتاج الاسمنت / الصحّة / إنتاج التمور / العدالة / تحويل الزيتون

عمل إنتاجي لامادي	عمل إنتاجي مادي

السنة الدراسية : 2025/2024	إجابة اختبار الفصل الثاني في مادة التاريخ	مقاطعة حاسي خليفة
القسم : السنة الثالثة 4	والجغرافيا . نموذج 1	ابتدائية الشهيد غبش السايح

التاريخ :

التمرين الأول : صنف الآثار التالية في الجدول

كتابات التاسيلي / فأس حجري / ماسينيسا / قطعة نقدية معدنية / عين لحنش / مدينة تيمقاد

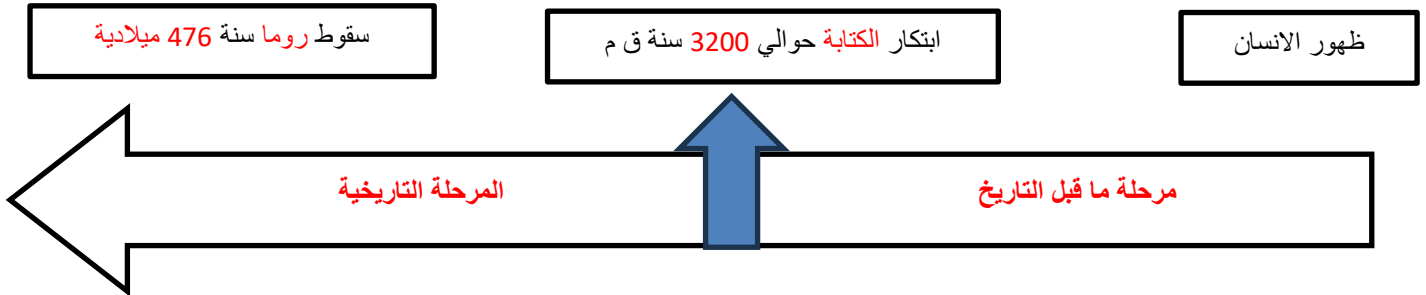
أدوات حجرية	نقوش صخرية	مواقع أثرية	آثار عمرانية	مسكوكات	شخصية تاريخية
فأس حجري	كتابات التاسيلي	عين لحنش	مدينة تيمقاد	قطعة نقدية معدنية	ماسينيسا

التمرين الثاني : اكتب ما تتميز به كل مرحلة من مراحل التاريخ القديم

السكن في الكهوف / اكتشاف المعادن / ابتكار الكتابة / ممارسة الصيد / ممارسة الزراعة / التنقل والترحال / الاستقرار

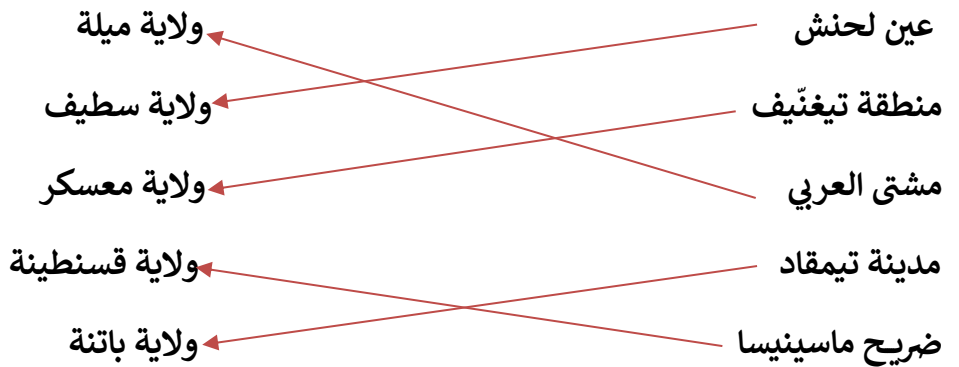
المرحلة التاريخية	مرحلة ما قبل التاريخ
السكن في الكهوف ، ممارسة الصيد ، التنقل والترحال ، الاستقرار	اكتشاف المعادن ، ابتكار الكتابة ، ممارسة الزراعة ، الاستقرار

التمرين الثالث : أكمل الخط الزمني الذي يبين مراحل التاريخ القديم




الخط الزمني لمراحل ما قبل التاريخ

التمرين الرابع : اربط بسهم الموقع الأثري بمكان تواجده



الجغرافيا :

التمرين الأول : اكتب اسم المظهر التضاريسي المناسب تحت كل صورة



هضاب



جبال



صحراء



سهول

التمرين الثاني : ميّز بين الطقس والمناخ من خلال قراءتك للبطاقتين التاليتين

مناخ

طقس

يتميز شمال الجزائر خلال فصل الشتاء بدرجة حرارة معتدلة مع سقوط أمطار معدلها السنوي ما بين 600 و 800 ملليمتر وسقوط الثلوج على المرتفعات خلال أيام معدودة

جاء في نشرة خاصة للديوان الوطني للأرصاد الجوية بأن شمال الجزائر يسوده في الصباحة جو مشمس مع حرارة معتدلة ، وفي الظهرية تتلبد السماء بسحب كثيفة مع احتمال سقوط أمطار وانخفاض في درجات الحرارة

التمرين الثالث : تعرّف على أنشطة الانسان في المدينة والريف

اذكر ثلاث أنشطة يمارسها الانسان في المدينة :

4. العمل في المصانع

5. العمل في البلدية والدائرة ...

6. التجارة

اذكر ثلاث أنشطة يمارسها الانسان في الريف :

4. رعي الأغنام

5. الحرف اليدوية

6. الزراعة

التمرين الرابع : صنف هذه الأنشطة في الجدول

البريد والمواصلات / التعليم / إنتاج الاسمنت / الصحّة / إنتاج التمور / العدالة / تحويل الزيتون

عمل إنتاجي لامادي	عمل إنتاجي مادي
البريد والمواصلات ، التعليم ، الصحّة ، العدالة	إنتاج الاسمنت ، إنتاج التمور ، تحويل الزيتون