

الجمهورية الجزائرية الديمقراطية الشعبية

وزارة التربية الوطنية

المدرسة : حريزية عابد  
اختبار للفصل الأول في مادة التاريخ  
السنة الدراسية : 2017/2016  
السنة الثالثة





التمرين الأول : أكتب حدثان شخصيان يخصانك :

- .....
- .....

التمرين الثاني : أكمل مايلي :

ولدت يوم ..... من الشهر ..... سنة ..... ببداية ..... دائرة ..... ولاية .....

التمرين الثالث : أتمم بما يناسب من حيث الزمن :

عطلة الصيف	عطلة الربيع	عطلة الشتاء	الدخول المدرسي
			
.....	.....	.....	.....

التمرين الرابع : أربط كل ما يناسب بطبيعتها :

عيد الطفل	ديني	عيد الأضحى
عيد الفطر	عالمي	عيد الاستقلال
	وطني	

الجمهورية الجزائرية الديمقراطية الشعبية

وزارة التربية الوطنية

السنة الدراسية : 2017/2016

اختبار للفصل الأول في مادة الجغرافيا  
السنة الثالثة

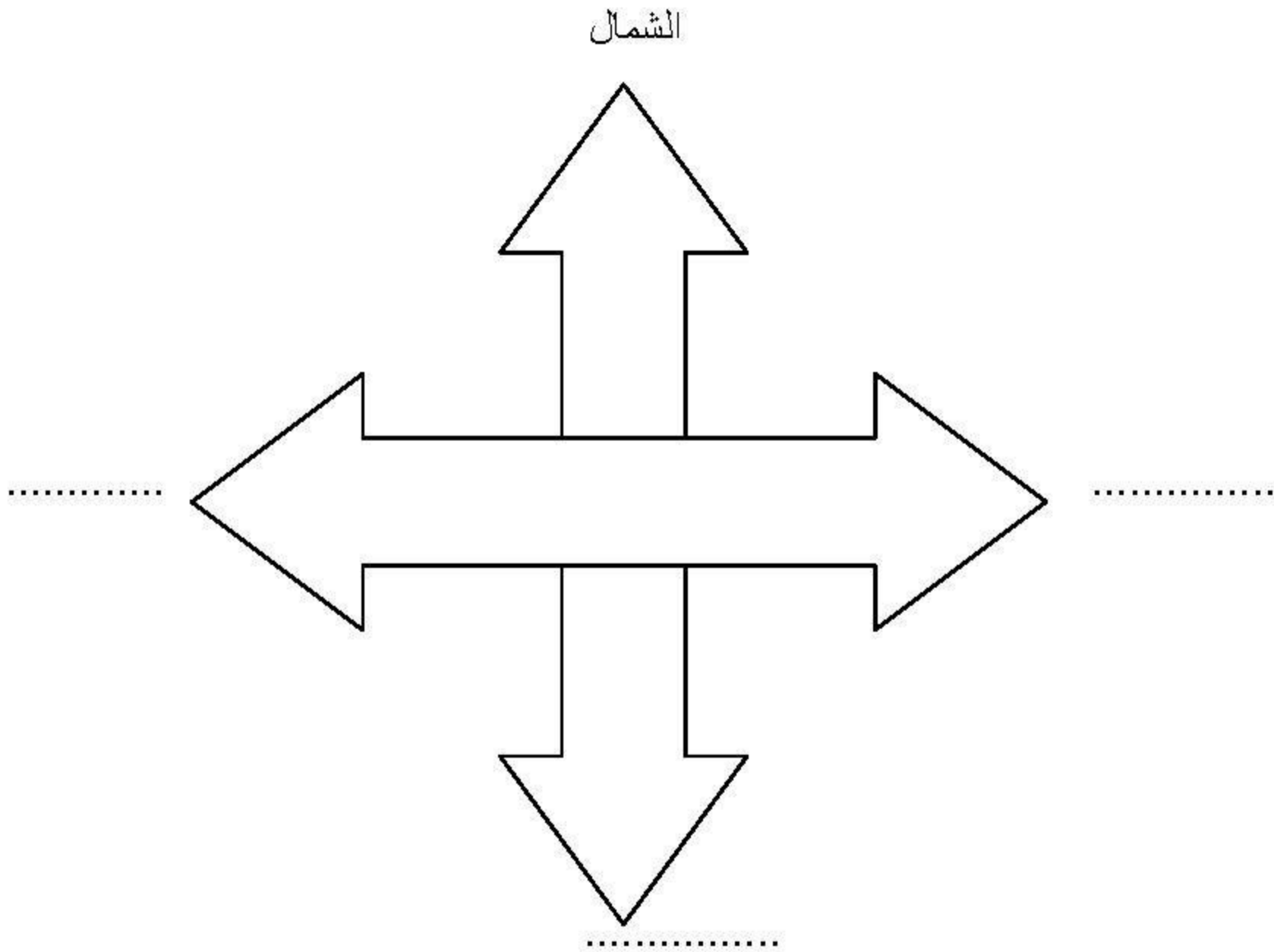
المدرسة : حريزية عابد

التمرين الأول : عرف المعلم ؟

التمرين الثاني :

- اسم الحي الذي أسكن فيه هو : .....
- اسم البلدية التي اقيم فيها هي : .....
- اسم ولايتي هي : .....
- رقمها الجغرافي هو : .....

التمرين الثالث : عين الاتجاهات المعلم :



التمرين الرابع : أذكر الجهات الفرعية الأخرى ؟