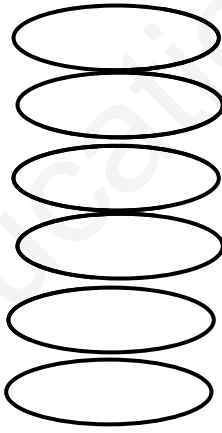


اختبار الفصل الأول في التاريخ و الجغرافياأولاً: التاريخالتّمرين الأول (3 ن): أكتب الأحداث التالية في الجدول:

زيارة الطيب – عرس عائلي- يوم ولادتي – الانتخابات – عيد الاستقلال – عودة الجد من الحج

الحدث الوطني	الحدث الإجتماعي	الحدث الشخصي
.....	.....	.....
.....	.....	.....

التّمرين الثاني (3 ن): أكتب صحيح أو خطأ أمام كل عبارة:

- لكل حدث مكان وقع فيه.
- أشاهد الآثار في المتحف.
- وقعت معركة الجزائر في الزمن الماضي.
- أدرس اللغة الفرنسية في السنة الثالثة.
- يعيش عمر ياسف في الزمن الحاضر.
- أتعلم القراءة و الكتابة في الملعب.

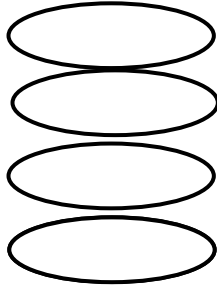
الوضعية الإدماجية (4 ن):

- أكمل الفراغات بما يناسب

في العام ..... كنت أدرس في السنة الثانية و كان عمري ..... سنوات، و  
 في الزمن ..... أصبح عمري ثمان سنوات و أدرس في السنة ..... وأتعلّم لغة  
 جديدة هي .....

## ثانياً: الجغرافيا

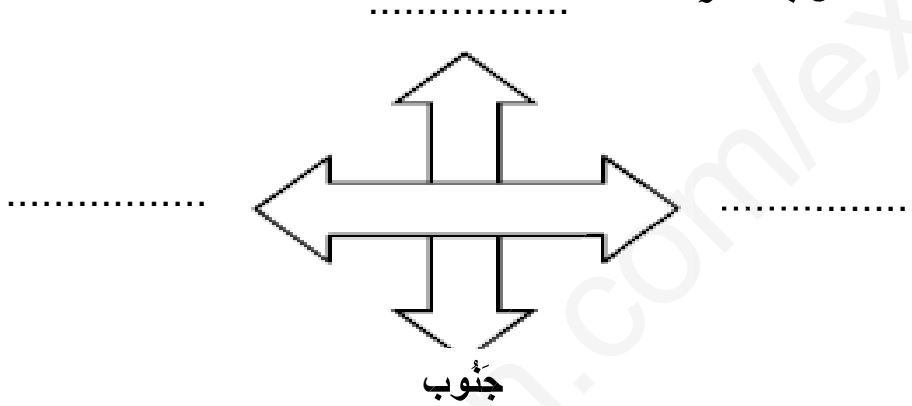
التّمرين الأول (2ن): أكتب صحيح أو خطأ أمام كل عبارة:



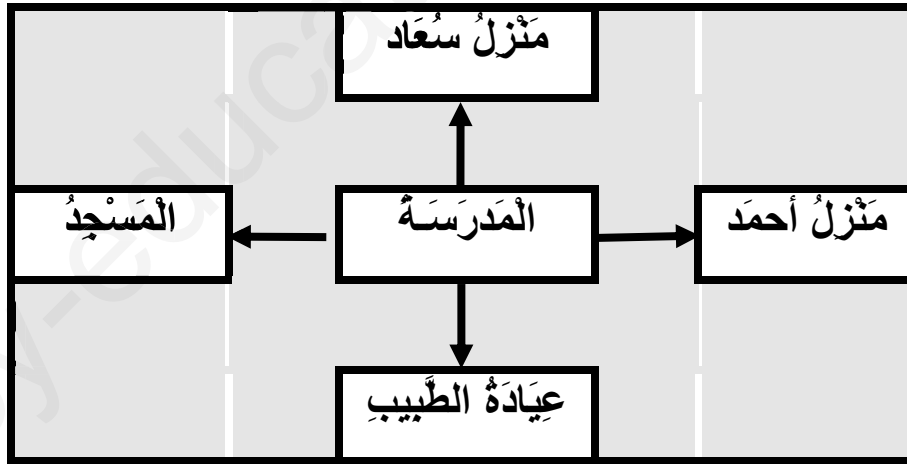
- جهة الشرق تُقابلها جهة الغرب.
- جهة الجنوب تُقابلها جهة الشمال.
- تقع الصحراء في شمال الجزائر.
- يقف المصلون خلف الإمام.

التّمرين الثاني (4 ن): أكمل كتابة الجهات الجغرافية: غرب - شمال - شرق

- لون جهة الشمال بالأحمر:



الوضعية الإدماجية (4 ن): لاحظ المخطط جيداً ثم أكمل الفراغات باستعمال الاتجاهات الجغرافية



1 يقع منزل أحمد ..... المدرسة. 2- يقع منزل سعاد ..... المدرسة.

3 يقع المسجد ..... المدرسة. 4- تقع عيادة الطبيب ..... المدرسة.

امضاء الولي