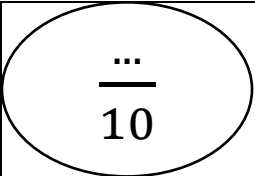


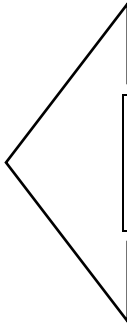
<div style="text-align: center;">  <p>العلامة:</p> </div>	<p>مدرسة: الإخوة نواورية - المقطع - الرصيفة.</p> <p>السنة الدراسية: 2020/2019.</p> <p>الأستاذ: عوج عبد الصمد</p>	<p>الاسم:</p> <p>اللقب:</p> <p>المستوى: الثالثة ابتدائي.</p>
	<p>2019 / 12 / 05</p>	

## إختبار الفصل الأول في التاريخ الجغرافيا

### أ- تاريخ

**1- التمرين الأول:** ضع فصول السنة في خط زمني:

الربيع - الخريف - الصيف - الشتاء



.....	.....	.....	.....
-------	-------	-------	-------

**2- التمرين الثاني:** أكمل أشهر السنة في الجدول:

فيفري - جويلية - ديسمبر - مارس - نوفمبر - ماي  
- أوت - جانفي - أفريل - أكتوبر - جوان - سبتمبر

.....	2	.....	1
.....	4	.....	3
.....	6	.....	5
.....	8	.....	7
.....	10	.....	9
.....	12	.....	11

## ب-جغرافيا

1- التمرين الأول: أكمل الفراغ بما يلي: يَمِين - وَرَاء - يَسَار - أَمَامَ

- الْخِزَانَةُ ..... التَّلَامِيذُ.

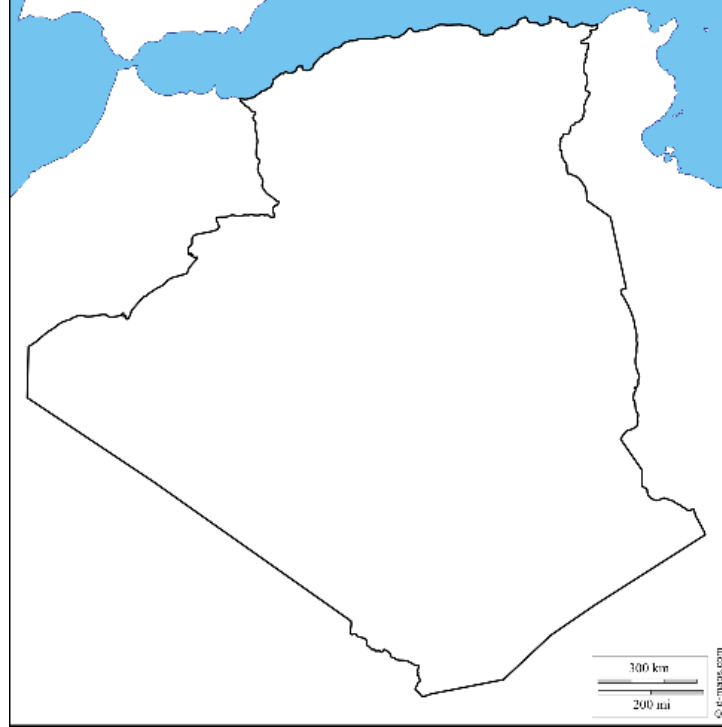
- الْمَكْتَبُ ..... التَّلَامِيذُ.

- تَجْلِسُ سَارَةً ..... بَسْمَةً.

- يَجْلِسُ مُحَمَّدٌ ..... فَاطِمَةَ.

2- التمرين الثاني: املأ الفراغ، -: جنوب-شمال-شرق-غرب

.....



.....

.....

.....

بالتوفيق أبنائي وبناتي