

السنة الدراسية : 2021/2020
الاسم : الثالث ابتدائي

ابتدائية : فرهي رشيد
المقاطعة ع 05 بالأخضرية

امتحان الفصل الأول في مادة التاريخ رقم 1

الاسم واللقب :

السؤال الأول : (1,5 ن)

أكمل الفراغ بالكلمة المناسبة من الكلمات التالية :

الماضية ، الثانية ، التاريخ و الجغرافيا ، الرياضيات ، المدرسة ، الأول ، الماضية
* تعتبر الصورة التذكارية مع زملائي التلاميذ في لما كنت في السنة أفضل ذكرى
أحتفظ بها . و أما أحسن علامة إختبار حصلت عليها فكانت في مادة للفصل من
السنة بينما أهم حدث هذه السنة هو بداية دراسة مادتي

السؤال الثاني : (1,5 ن)

ضع تحت كل صورة ما تعبر عنه عبارة : " مكان " أو " حدث " أو " زمان "



.....

.....

.....

.....

.....

.....

السؤال الثالث : (3 ن)

رتب الأوقات الزمنية الموالية حسب تتابعها زمنيا :

المساء ، اليوم ، الشهر ، الصباح ، السنة ، الفصل

.....

.....

.....

.....

.....

.....

السؤال الرابع : (4 ن)

ضع اسم كل مكان في الفراغ المناسب :

- * نذهب للعلاج في
- * نجرى مباريات كرة القدم في
- * أصلي الصلوات المفروضة في
- * نرتاح ونتجول في

تصحيح امتحان الفصل الأول في مادة التاريخ رقم 1

السؤال الأول : (5,1 ن)

أكمل الفراغ بالكلمة المناسبة من الكلمات التالية :

* تُعْتَبَرُ الصُّورَةُ التَّذْكَارِيَّةُ مَعَ زُمَلَائِي التَّلَامِيذِ فِي **المَدْرَسَةِ** لَمَّا كُنْتُ فِي **السَّنَةِ الثَّانِيَةِ** أَفْضَلَ ذِكْرِي أَحْتَفِظُ بِهَا . وَ أَمَّا أَحْسَنُ عِلْمَةٍ اخْتَبَارُ حَصَلْتُ عَلَيْهَا فَكَانَتْ فِي مَادَّةِ **الرِّيَاضِيَّاتِ** لِلْفَصْلِ **الأوَّلِ** مِنَ **السَّنَةِ المَاضِيَةِ** بَيْنَمَا أَمُّهُمُ حَدَثَ هَذِهِ السَّنَةِ هُوَ بَدَايَةُ دِرَاسَةِ مَادَّتِي **التَّارِيخِ وَ الجُغْرَافِيَا** .

السؤال الثاني : (5,1 ن)

أضغ تحت كل صورة ما تُعَبِّرُ عَنْهُ عِبَارَةٌ : " مَكَانٌ " أَوْ " حَدَثٌ " أَوْ " زَمَانٌ "



مَكَانٌ



مَكَانٌ



حَدَثٌ



زَمَانٌ



حَدَثٌ



زَمَانٌ

السؤال الثالث : (3 ن)

رتب الأوقات الزمنية الموالية حسب تتابعها زمنياً :

المساء ، اليوم ، الشهر ، الصباح ، السنة ، الفصل

السنة

الفصل

الشهر

اليوم

المساء

الصباح

السؤال الرابع : (4 ن)

أضغ اسم كل مكان في الفراغ المناسب :

* نَذْهَبُ لِلْعِلاجِ فِي **المُسْتَشْفَى**

* تُجْرَى مُبَارِيَّاتِ كُرَةِ القَدَمِ فِي **المَـأْعَبِ**

* أَصَلِّي الصَّلَوَاتِ المَفْرُوضَةَ فِي **المَسْجِدِ**

* نَرْتَاحُ وَ نَتَجَوَّلُ فِي **الحَدِيقَةِ العَامَّةِ**

ابتدائية : فرهي رشيد
المقاطعة ع 05 بالأخضرية

السنة الدراسية : 2021/2020
القسم : الثالث ابتدائي

امتحان الفصل الأول في مادة التاريخ رقم 2

الاسم واللقب :

السؤال الأول : (1,5 ن)

ضع " صحيح " أو " خطأ " أمام كل عبارة :

- * تكو، أهمية المكان بحسب أهمية الحدث الذي وقع فيه
- * لكل حدث مكان وزمان وقع فيه
- * تُصنّف الأحداث إلى أحداث وطنية ودينية فقط
- * الخط الزمني يرتب الأحداث حسب تعاقبها
- * الأحداث التي تقع لنا تحدث في الماضي فقط
- * يُشكّل الدخول المدرسي بالنسبة لي حدثاً شخصياً

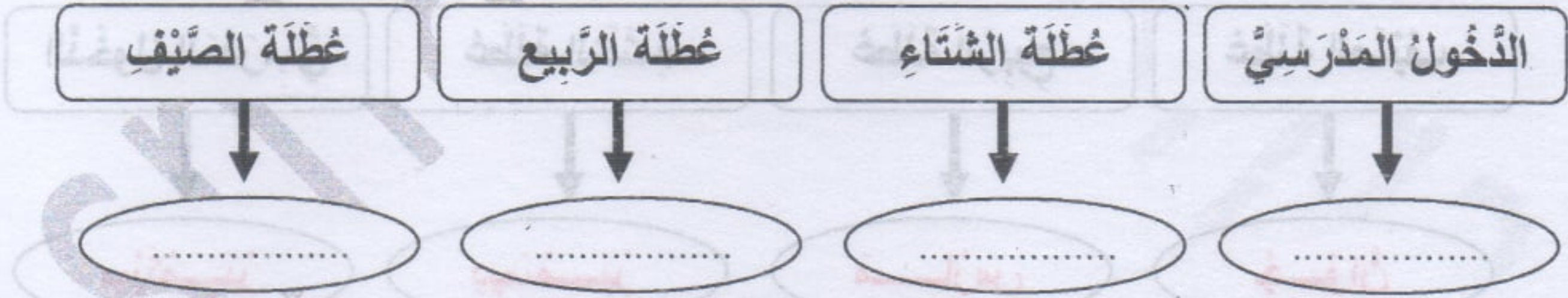
السؤال الثاني : (1,5 ن)

صنّف الصور التالية إلى " حدث وطني " أو " حدث ديني " أو " حدث شخصي "



السؤال الثالث : (3 ن)

أتمم بما يناسب من حيث الزمن : جويلية ، مارس ، ديسمبر ، سبتمبر



السؤال الرابع : (4 ن)

ضع تحت كل صورة نوع الآثار :

نقوش صخرية ، أدوات حجرية ، آثار عمرانية ، شخصيات تاريخية ، مسكوكات ، مخطوطات



تصحيح امتحان الفصل الأول في مادة التاريخ رقم 2

حلّ السؤال الأول : (3 ن)

ضع " صحيح " أو " خطأ " أمام كل عبارة :

- * تكو، أهمية المكان بحسب أهمية الحدث الذي وقع فيه
- * لكل حدث مكان و زمان و وقع فيه
- * تُصنّف الأحداث إلى أحداث وطنية و دينية فقط
- * الخط الزمني يُرتب الأحداث حسب تعاقبها
- * الأحداث التي تقع لنا تحدث في الماضي فقط
- * يُشكّل الدخول المدرسي بالنسبة لي حدثاً شخصياً

حلّ السؤال الثاني : (1,5 ن)

أصنّف الصور التالية إلى " حدث وطني " أو " حدث ديني " أو " حدث شخصي "



حدث شخصي



حدث ديني



حدث وطني



حدث شخصي



حدث وطني



حدث ديني

حلّ السؤال الثالث : (2 ن)

أتمم بما يناسب من حيث الزمن : جَوَان ، مَارَس ، دِيسَمْبَر ، سِبْتَمْبَر

عطلة الصيف

جَوَان

عطلة الربيع

مَارَس

عطلة الشتاء

دِيسَمْبَر

الدخول المدرسي

سِبْتَمْبَر

حلّ السؤال الرابع : (3 ن)

ضع تحت كل صورة نوع الآثار :

نقوش صخرية ، أدوات حجرية ، آثار عمرانية ، شخصيات تاريخية ، مسكوكات ، مخطوطات



نقوش صخرية



أدوات حجرية



مسكوكات



آثار عمرانية



شخصيات تاريخية



مخطوطات

ابتدائية : فرهي رشيد

المقاطعة ع 05 بالأخضرية

السنة الدراسية : 2021/2020

الاسم : الثالث ابتدائي

امتحان الفصل الأول في مادة التاريخ رقم 3

الاسم واللقب :

السؤال الأول : (4 ن)

ضع الكلمات التالية في مكانها المناسب :

الأثرية ، الحجرية ، مخلقات ، الصخرية ، المغارات ، المتاحف ، العصر ، العظمية
* الآثار القديمة هي كل الإنسان في القديم و المتمثلة في الأدوات و الهياكل
..... و الرسوم و النقوش الموجودة في مختلف المواقع كالكهوف و
المحفوظة في

السؤال الثاني : (3 ن)

رتب شهور السنة الميلادية بوضع الرقم المناسب :

الرقم	الشهر	الرقم	الشهر
.....	أفريل	مارس
.....	جانفي	جوان
.....	أكتوبر	سبتمبر
.....	ماي	ديسمبر
.....	أوت	جويلية
.....	فيفري	نوفمبر

السؤال الثالث : (1,5 ن)

اربط بينهم بين الصورة و ما تعبر عنه :



الحدث

المكان

الزمان



السؤال الرابع : (1,5 ن)

صنف هذه الأحداث على الجدول :

حفلة عيد الميلاد ، عاشوراء ، يوم المعلم ، الإحتفال بأول يناير ، عيد الفطر المبارك ، حصولي على شهادة .

حدث وطني	حدث شخصي	حدث ديني
.....
.....

تصحيح امتحان الفصل الأول في مادة التاريخ رقم 3

حلّ السؤال الأول : (4 ن)

أضغ الكلمات التالية في مكانها المناسب :

* الآثار القديمة هي كلُّ **مخلفات** الإنسان في **العصر** القديم و المتمثلة في الأدوات **الحجرية** و الهياكل **العظمية** و الرسوم و النقوش **الصخرية** الموجودة في مختلف المواقع **الأثرية** كالكهوف و **المغارات** المحفوظة في **المتاحف** .

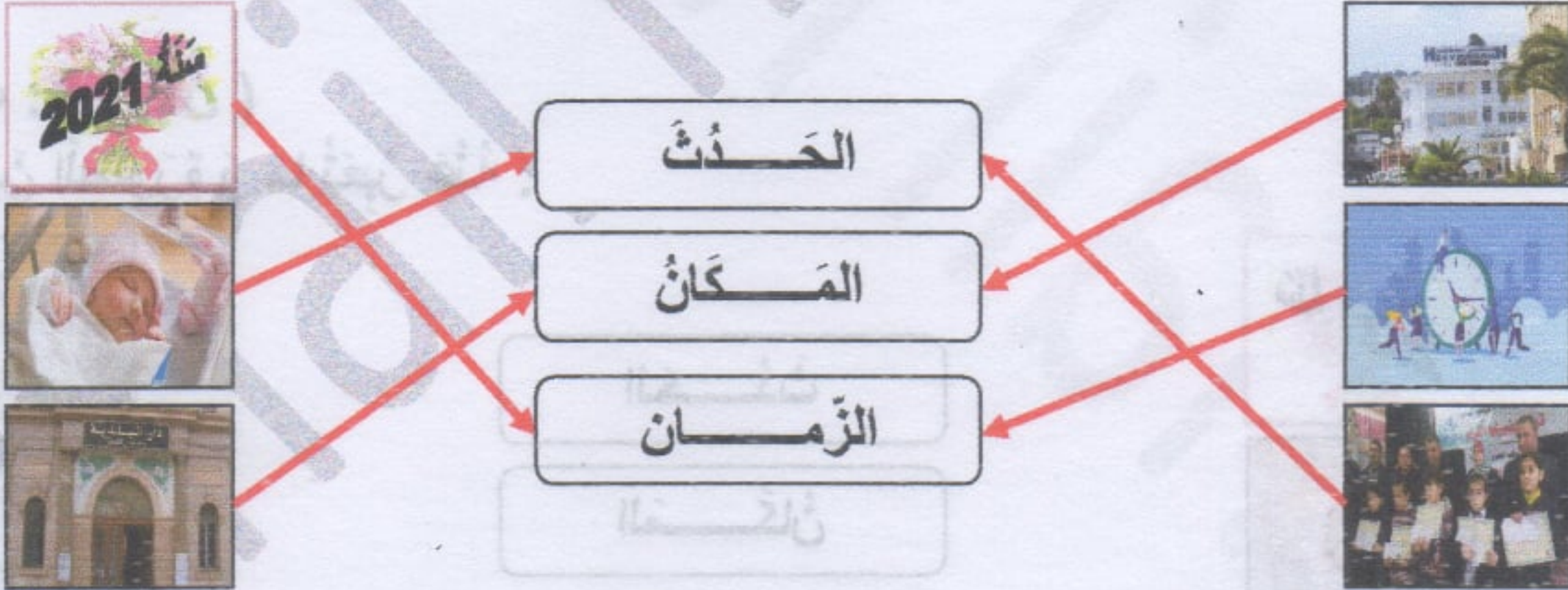
حلّ السؤال الثاني : (3 ن)

أرتب شهور السنة الميلادية بوضع الرقم المناسب :

الرقم	الشهر	الرقم	الشهر
04	أفريل	03	مارس
01	جانفي	05	جوان
10	أكتوبر	09	سبتمبر
05	ماي	12	ديسمبر
08	أوت	07	جويلية
02	فيفري	11	نوفمبر

حلّ السؤال الثالث : (1,5 ن)

أربط بينهم بين الصورة و ما تعبر عنه :



حلّ السؤال الرابع : (1,5 ن)

أصنّف هذه الأحداث على الجدول :

حدث وطني	حدث شخصي	حدث ديني
* يوم المعلم * الإحتفال بأول يناير	* حفلة عيد الميلاد * حصولي على شهادة	* عيد الفطر المبارك * عاشوراء

حدث وطني	حدث شخصي	حدث ديني
.....

امتحان الفصل الأول في مادة التاريخ رقم 4

الاسم واللقب :

السؤال الأول : (2 ن)

قسّم المؤرخون فترة التاريخ القديم إلى مرحلتين و هما :

1/ مرحلة

2/ مرحلة

السؤال الثاني : (3 ن)

ضع " صحيح " أو " خطأ " أمام كل عبارة :

* الإخترتقال بعيد الميلاد هو واحد شخص صبي

* اكتشف الإنسان المعادن في المرحلة التاريخية

* تمتد فترة ما قبل التاريخ إلى ظهور الكتابة سنة 3200 ق.م

* سكن الإنسان المغارات والكهوف بعد مرحلة ما قبل التاريخ

* الخط الزمني هو خط ترتب عليه الأحداث حسب تعاقبها زمنياً

* تعتبر المواقع الأثرية لعين حنش بسطيف من أقدم المواقع الأثرية في شمال إفريقيا

السؤال الثالث : (3 ن)

اختر لكل صورة اسماً مناسباً من بين الأسماء التالية :

مدينة تيمقاد ، الملك ماسينيسا ، ضريح إمدغاسن ، الآثار الرومانية ، حياة الإستقرار ، لوحة منقوشة بخط التيفيناغ



.....
.....

.....
.....

.....
.....

.....
.....

.....
.....

.....
.....

السؤال الرابع : (2 ن)

للجزائر العديد من الملاعب الرياضية ارتبطت تسميتها بأحداث تاريخية وطنية مثل :

- ملعب 19 ماي 1956 بعنابة ، - ملعب 5 جويلية 1962 بالجزائر العاصمة

- ملعب 24 فيفري 1956 بسبيدي بلعباس ، - ملعب 08 ماي 1945 بسطيف .


* رتب هذه التواريخ حسب تسلسلها الزمني على الخط الزمني .

.....

.....

.....

.....



تصحيح امتحان الفصل الأول في مادة التاريخ رقم 4

حلّ السؤال الأول : (2 ن)

قسّم المؤرخون فترة التاريخ القديم إلى مرحلتين و هما :

1/ مرحلة ما قبل التاريخ .

2/ مرحلة المرحلة التاريخية .

حلّ السؤال الثاني : (3 ن)

أضع " صحيح " أو " خطأ " أمام كل عبارة :

- * الإخْتِقالُ بعِيدُ المِيلادِ هُوَ وَ حَادِثُ شَخْصِيّ **صحيح**
- * اِكْتِشافُ الإنسانِ المَعْدِنِ فِي المَرَحَلَةِ التَّاريخِيَّةِ **صحيح**
- * تَمْتَدُّ فَتْرَةُ ما قَبْلَ التَّاريخِ إِلَى ظُهُورِ الكِتابَةِ سَنَةَ 3200 ق.م **صحيح**
- * سَكَنَ الإنسانُ المَعْجَارَاتِ وَ الكُهوْفَ بَعْدَ مَرَحَلَةِ ما قَبْلَ التَّاريخِ **خطأ**
- * الخَطُّ الزَّمَنِيُّ هُوَ خَطٌّ تُرْتَبُ عَلَيْهِ الأَحْداثُ حَسَبَ تَعاقُبِها زَمَنِيًّا **صحيح**
- * تُعْتَبَرُ المَواقِعُ الأَثَرِيَّةُ لِعَيْنِ حَنْشِ بَسْطِيفِ مِنْ أَقْدَمِ المَواقِعِ الأَثَرِيَّةِ فِي شَمالِ إِفْرِيقِيّا **صحيح**

حلّ السؤال الثالث : (3 ن)

أختار لكل صورة اسماً مناسباً من بين الأسماء التالية :

مَدِينَةُ تِيْمَقادُ ، المَلِكُ ماسِينيسا ، ضَرِيحُ إِمدْغاسنُ ، الأَثارُ الرُّومانيَّةُ ، حَياءُ الإِسْتِقْرارِ ، لَوْحَةُ مَنقُوشَةٌ بِخَطِّ التَّيفِيناغِ



المَلِكُ
ماسِينيسا

مَدِينَةُ
تِيْمَقادُ

لَوْحَةُ مَنقُوشَةٌ
بِخَطِّ التَّيفِيناغِ

الأَثارُ
الرُّومانيَّةُ



حَياءُ
الإِسْتِقْرارِ

ضَرِيحُ
إِمدْغاسنُ

حلّ السؤال الرابع : (2 ن)

* أرتب هذه التواريخ حسب تسلسلها الزمني على الخط الزمني .

- ملعب 08 ماي 1945
- ملعب 24 فيفري 1956
- ملعب 19 ماي 1956
- ملعب 5 جويلية 1962



ابتدائية : فرهي رشيد

المقاطعة ع 05 بالأخضرية

السنة الدراسية : 2021/2020

الاسم : الثالث ابتدائي

امتحان الفصل الأول في مادة التاريخ رقم 5

الاسم واللقب :

السؤال الأول : (2,5 ن)

- أملأ الفراغ بالكلمات المناسبة : عيد الاستقلال ، 2018 ، البادية ، جدارية ، قاطبة
- * تحتفل الجزائر كل سنة بذكرى
 - * يستخرج لنا أبي شهادة الميلاد من
 - * التحقت بمقاعد الدراسة في سنة
 - * انتقلت إلى صف السنة الثالثة بكل و استحقاق

السؤال الثاني : (3 ن)

- ضع " صحيح " أو " خطأ " أمام كل عبارة :
- * ولد الأديب أبو ليوس سنة 125 ميلادي في مدينة مآدور
 - * القديس أوغستين هو من رفع شعار إفريقيًا للأفارقة
 - * تقع مدينة تيمقاد الأثرية في ولاية تيبازة
 - * الأدوات الحجرية هي أدوات صنعها الإنسان في العصر القديم من الحجارة
 - * التاسيلي هي منطقة جبلية تقع في الجنوب الجزائري
 - * الآثار القديمة هي مخلفات الإنسان في العصر القديم

السؤال الثالث : (2,5 ن)

أربط كل حدث بنوعه :

حدث عائلي

حدث وطني

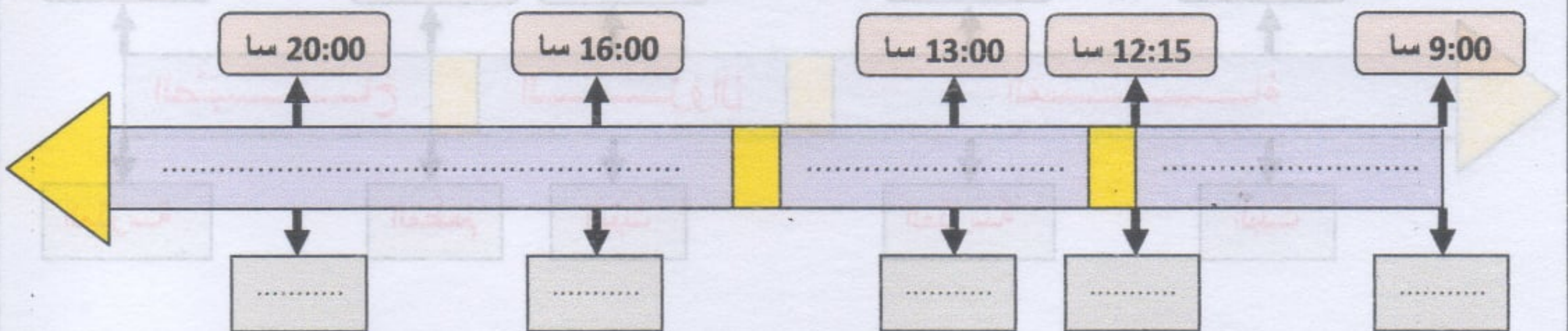
حدث ديني

حدث شخصي

- * الاحتفال بعيد الثورة
- * تكريم زهير لتفوقه
- * الانتخابات المحلية
- * عودة الأب من العمرة
- * عيد الأضحى المبارك

السؤال الرابع : (2 ن)

- 1/ أملأ الفراغ داخل الخط الزمني بالفترة الزمنية المناسبة : " الصباح " ، " الزوال " ، " المساء "
- 2/ حدد أماكن تواجدك على الخط الزمني في تلك الأوقات .



تصحيح امتحان الفصل الأول في مادة التاريخ رقم 5

حلّ السؤال الأول : (2,5 ن)

أَمَلًا الْفَرَاغَ بِالْكَلِمَاتِ الْمُنَاسِبَةِ : عِيدِ الْإِسْتِغْلَالِ ، 2018 ، الْبَلَدِيَّةِ ، جَدَارَةَ ، قَاطِبَةَ

- * تَحْتَفِلُ الْجَزَائِرُ قَاطِبَةَ كُلِّ سَنَةٍ بِذِكْرِ عِيدِ الْإِسْتِغْلَالِ
- * يَسْتَخْرِجُ لَنَا أَبِي شَهَادَةَ الْمِيلَادِ مِنَ الْبَلَدِيَّةِ
- * الْتَحَقْتُ بِمَقَاعِدِ الدَّرَاسَةِ فِي سَنَةِ 2018
- * انْتَقَلْتُ إِلَى صَفِّ السَّنَةِ الثَّلَاثَةِ بِكُلِّ جَدَارَةَ وَاسْتِحْقَاقِ

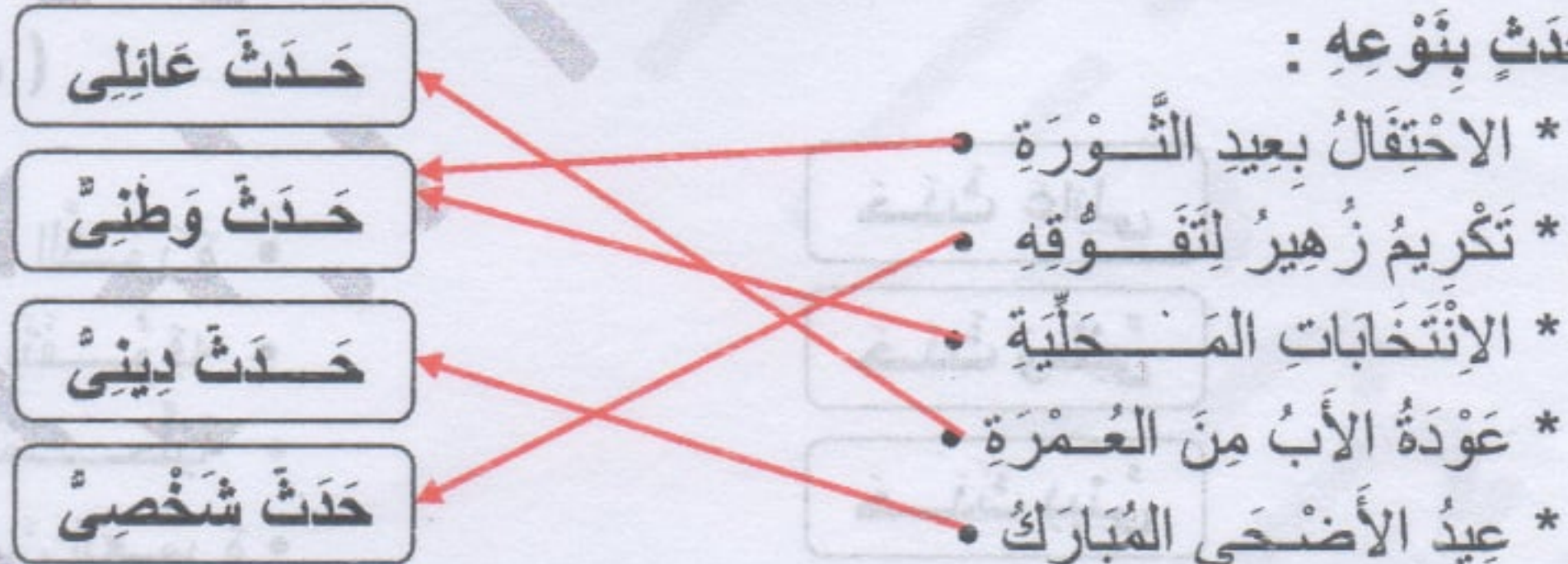
حلّ السؤال الثاني : (3 ن)

أَضَعُ " صَحِيحٌ " أَوْ " خَطَأٌ " أَمَامَ كُلِّ عِبْرَةٍ :

- * وُلِدَ الْأَيْدِيْبُ أَبُو لُيُوسَ سَنَةَ 125 مِيلَادِي فِي مَدِينَةِ مَادُورِ
- * الْقَدِيْسُ أَوْغَسْتِيْنُ هُوَ مَنْ رَفَعَ شِعَارَ إِفْرِيْقِيَا لِلْأَفْرَاقَةِ
- * نَقَعَ مَدِينَةَ تِيْمَمَقَادِ الْأَثَرِيَّةِ فِي وِلَايَةِ تِيْبَازَةَ
- * الْأَدْوَاتِ الْحَجْرِيَّةِ هِيَ أَدْوَاتٌ صَنَعَهَا الْإِنْسَانُ فِي الْعَصْرِ الْقَدِيمِ مِنَ الْحَجَارَةِ
- * النَّاسِيْلِي هِيَ مَنطِقَةٌ جَبَلِيَّةٌ تَقَعُ فِي الْجَنُوبِ الْجَزَائِرِي
- * الْأَثَارُ الْقَدِيمَةُ هِيَ مُخَلَّفَاتُ الْإِنْسَانِ فِي الْعَصْرِ الْقَدِيمِ

حلّ السؤال الثالث : (2,5 ن)

أَرْبِطْ كُلَّ حَدَثٍ بِنَوْعِهِ :



حلّ السؤال الرابع : (2 ن)

1/ أَمَلًا الْفَرَاغَ دَاخِلَ الْخَطِّ الزَّمْنِيِّ بِالْفَتْرَةِ الزَّمْنِيَّةِ الْمُنَاسِبَةِ : " الصَّبَاحُ " ، " الزَّوَالُ " ، " الْمَسَاءُ "

2/ أَحَدِّدْ أَمَاكِنَ تَوَاجِدِكَ عَلَى الْخَطِّ الزَّمْنِيِّ فِي تِلْكَ الْأَوْقَاتِ .



السنة الدراسية : 2021/2020
الاسم : الثالث ابتدائي

ابتدائية : فرهي رشيد
المقاطعة ع 05 بالأخضرية

امتحان الفصل الأول في الجغرافيا رقم 1

الاسم و اللقب :

السؤال الأول : (2 ن)

أكمل الفراغ بما يناسب : شرق ، جنوب ، شمال ، غرب



السؤال الثاني : (4 ن)

ضع " صحيح " أو " خطأ " أمام كل عبارة :

- * الطقس هو حالة الجو لمدة طويلة
- * تغرب الشمس من الشرق
- * تساعدنا المعالم المكانية على تحديد موقعنا
- * تقع مدينة عنابة في الغرب الجزائري
- * الجهة المقابلة للجنوب هي الشرق
- * تحدد جهة الشرق والغرب بحركة الشمس
- * تساعدنا البوصلة على تحديد الجهات الأربعة
- * المناخ هو حالة الجو لمدة قصيرة

السؤال الثالث : (2 ن)

أربط بينهم بين الولاية و الجهة التي تقع فيها :

- * تقع مدينة قسنطينة .
- * تقع مدينة وهران .
- * تقع مدينة تمنراست .
- * تقع مدينة الجزائر .
- شمال قارة إفريقيا .
- جنوب مدينة الجزائر .
- شرق مدينة الجزائر .
- غرب مدينة الجزائر .

السؤال الرابع : (2 ن)

أكمل الفراغ بما يناسب :

- * اسم الحي الذي أسكن فيه هو : حي
- * اسم البلدية التي أقيم فيها هي : بلدية
- * اسم ولايتي هي : ولايت
- * رقمها الجغرافي هو :

بالتوفيق

تَصْحِيحُ امْتِحَانِ الْفَصْلِ الْأَوَّلِ فِي الْجُغْرَافِيَا رَقْم 1

حَلُّ السُّؤَالِ الْأَوَّلِ : (2 ن)



حَلُّ السُّؤَالِ الثَّانِي : (4 ن)

- * أَضْعُ " صَحِيحٌ " أَوْ " خَطَأٌ " أَمَامَ كُلِّ عِبَارَةٍ :
- * الطَّقْسُ هُوَ حَالَةُ الْجَوِّ لِمُدَّةٍ طَوِيلَةٍ
- * تَغْرُبُ الشَّمْسُ مِنْ الشَّرْقِ
- * تُسَاعِدُنَا الْمَعَالِمُ الْمَكَانِيَّةُ عَلَى تَحْدِيدِ مَوْقِعِنَا
- * تَقَعُ مَدِينَةُ عَنَابَةِ فِي الْغَرْبِ الْجَزَائِرِيِّ
- * الْجِهَةُ الْمُقَابِلَةُ لِلْجَنُوبِ هِيَ الشَّرْقُ
- * تُحَدِّدُ جِهَةَ الشَّرْقِ وَ الْغَرْبِ بِحَرَكَةِ الشَّمْسِ
- * تُسَاعِدُنَا الْبُوصَلَةُ عَلَى تَحْدِيدِ الْجِهَاتِ الْأَرْبَعَةِ
- * الْمُنَاخُ هُوَ حَالَةُ الْجَوِّ لِمُدَّةٍ قَصِيرَةٍ

خطأ

خطأ

صحيح

خطأ

خطأ

صحيح

صحيح

خطأ

حَلُّ السُّؤَالِ الثَّلَاثِ : (2 ن)

أَرْبِطْ بَسْمَهُمْ بَيْنَ الْوِلَايَةِ وَ الْجِهَةِ الَّتِي تَقَعُ فِيهَا :

- * تَقَعُ مَدِينَةُ قَسَنْطِنَةَ •
- * تَقَعُ مَدِينَةُ وَهْرَانَ •
- * تَقَعُ مَدِينَةُ تَمَنْرَاسْتُ •
- * تَقَعُ مَدِينَةُ الْجَزَائِرِ •
- شَمَالِ قَارَةَ إِفْرِيْقِيَا
- جَنُوبَ مَدِينَةِ الْجَزَائِرِ
- شَرْقَ مَدِينَةِ الْجَزَائِرِ
- غَرْبَ مَدِينَةِ الْجَزَائِرِ

حَلُّ السُّؤَالِ الرَّابِعِ : (2 ن)

أَكْمِلِ الْفَرَاغَ بِمَا يُنَاسِبُ :

- * اسْمُ الْحَيِّ الَّذِي أَسْكُنُ فِيهِ هُوَ : **بَلْغَزَمُ**
- * اسْمُ الْبَلَدِيَّةِ الَّتِي أُقِيمُ فِيهَا هِيَ : **الْأَخْضَرِيَّةُ**
- * اسْمُ وِلَايَتِي هِيَ : **الْبُوَيْرَةُ**
- * رَقْمُهَا الْجُغْرَافِي هُوَ : **10**

امتحان الفصل الأول في الجغرافيا رقم 2

الاسم و اللقب :

السؤال الأول : (3 ن)

- أكمل الفراغ بما يناسب : مُسَطَّحَةٌ ، مُسْتَوِيَةٌ ، مُرْتَفَعَةٌ
- * الجِبَالُ هي تَضَارِيسُ
 - * الهَضَابُ هي أَرْضِي
 - * السُّهُولُ هي أَرْضِي

السؤال الثاني : (3 ن)

- ضع " صحيح " أو " خطأ " أمام كل عبارة :
- * تُصَنَّفُ الإِتِّجَاهَاتُ إِلَى إِتِّجَاهَاتٍ عَامَّةٍ وَ أُخْرَى جُغْرَافِيَّةٍ
 - * المَدُنُ السَّاحِلِيَّةُ هي المَدُنُ الَّتِي تَقَعُ فِي الغَرْبِ الجَزَائِرِيِّ
 - * الصَّخْرَاءُ هي أَرْضِي شَاسِعَةٌ مِنَ الكُثْبَانِ الرَّمْلِيَّةِ
 - * يُمَثِّلُ مَقَامُ الشَّهِيدِ فِي الجَزَائِرِ مَعْلَمًا مَكَانِيًّا مُهِمًّا
 - * مِنْ نَشَاطَاتِ الإِنْسَانِ فِي الرِّيفِ صِنَاعَةُ الشَّاحِنَاتِ
 - * تُشْرِقُ الشَّمْسُ فِي الصَّبَاحِ مِنْ جِهَةِ الجَبَلِ نُوبِ

السؤال الثالث : (2 ن)

- تَخْتَلِفُ نَشَاطَاتُ فِي المَدِينَةِ عَنِ الرِّيفِ ، صَنَّفْ هَذِهِ الأَنْشِيطَةَ حَسَبَ الجَدْوَلِ :
- تَرْبِيَةُ المَوَاشِي ، الصَّنَاعَةُ المِيكَانِيكِيَّةِ ، الإِدَارَاتُ المَحَلِّيَّةِ ، الزَّرَاعَةُ ، الجَامِعَاتُ ، المَحَلَّاتُ الكُبْرَى ،
الصَّنَاعَةُ الفَخَّارِيَّةِ ، المُسْتَشْفِيَّاتِ

نَشَاطَاتُ الإِنْسَانِ فِي المَدِينَةِ	نَشَاطَاتُ الإِنْسَانِ فِي الرِّيفِ
.....
.....
.....

السؤال الرابع : (2 ن)

السؤال الرابع : (2 ن)

أكمل حسب الخريطة بالجهات الأساسية :

- * يَحُدُّ الجَزَائِرَ مِنْ جِهَةِ البَحْرُ الأَبْيَضِ المَتَوَسِّطِ .
- * تَقَعُ مَدِينَةُ تَمَنْرَاسْتِ فِي الجَزَائِرِ .
- * تَقَعُ مَدِينَةُ تِلْمَسَانَ فِي الجَزَائِرِ .
- * تَقَعُ مَدِينَةُ الطَّارِفِ فِي الجَزَائِرِ .



تصحيح امتحان الفصل الأول في الجغرافيا رقم 2

حلّ السؤال الأول : (3 ن)

أكمل الفراغ بما يناسب : مُسَطَّحَةٌ ، مُسْتَوِيَةٌ ، مُرْتَفَعَةٌ

- * الجِبَالُ هي تَضَارِيسٌ **مُرْتَفَعَةٌ** .
- * الهَضَابُ هي أَرْضِي **مُسَطَّحَةٌ** .
- * السُّهُولُ هي أَرْضِي **مُسْتَوِيَةٌ** .

حلّ السؤال الثاني : (3 ن)

أضغ " صحيح " أو " خطأ " أمام كلِّ عبارة :

- * تُصنَّفُ الإِتِّجَاهَاتُ إِلَى إِتِّجَاهَاتٍ عَامَةٍ وَ أُخْرَى جُغْرَافِيَّةٍ
- * المَدُنُ السَّاحِلِيَّةُ هي المَدُنُ الَّتِي تَقَعُ فِي العَرَبِ الجَزَائِرِي
- * الصَّحْرَاءُ هي أَرْضِي شَاسِعَةٌ مِنَ الكُتْبَانِ الرَّمْلِيَّةِ
- * يُمَثِّلُ مَقَامُ الشَّهِيدِ فِي الجَزَائِرِ مَعْلَمًا مَكَانِيًّا مُهِمًّا
- * مِنْ نَشَاطَاتِ الإِنْسَانِ فِي الرِّيفِ صِنَاعَةُ الشَّاحِنَاتِ
- * تُشْرِقُ الشَّمْسُ فِي الصَّبَاحِ مِنْ جِهَةِ الجَبَلِ نُوبِ

حلّ السؤال الثالث : (2 ن)

تختلف نشاطات في المدينة عن الريف ، صنّف هذه الأنشطة حسب الجدول :

نشاطات الإنسان في الريف	نشاطات الإنسان في المدينة
* تَرْبِيَّةُ المَوَاشِي ، * لَزْرَاعَةِ * الصَّنَاعَةِ الفَخَّارِيَّةِ ، *	* الصَّنَاعَةُ المِيكَانِيكِيَّةِ * الإِدَارَاتُ المَحَلِّيَّةِ ، * الجَامِعَاتُ * المُسْتَشْفَيَاتِ ، * المَحَلَّاتُ الكُبْرَى .

حلّ السؤال الرابع : (2 ن)

أكمل حسب الخريطة بالجهات الأساسية :

- * يحدُّ الجَزَائِرَ مِنْ جِهَةِ الشَّمَالِ البَحْرُ الأَبْيَضُ المَتَوَسِّطِ .
- * تَقَعُ مَدِينَةُ تَمَنْرَاسْتِ فِي جَنُوبِ الجَزَائِرِ .
- * تَقَعُ مَدِينَةُ تِلْمَسَانَ فِي عَرَبِ الجَزَائِرِ .
- * تَقَعُ مَدِينَةُ الطَّارِفِ فِي شَرْقِ الجَزَائِرِ .
- * تَقَعُ مَدِينَةُ الطَّارِفِ فِي الجَزَائِرِ .



بالتوفيق

ابتدائية : فرهي رشيد
المقاطعة ع 05 بالأخضرية

السنة الدراسية : 2021/2020
الاسم : الثالث ابتدائي

امتحان الفصل الأول في الجغرافيا رقم 3

الاسم و اللقب :

السؤال الأول : (2,5 ن)

ضع علامة (x) أمام المعالم التاريخية :

- * ملعب 5 جويلية ، * جامع كتشاوة ، * الطريق الوطني رقم 5
* ممر الراجلين ، * عيد العمال ، * المسجد الأعظم
* عيد الأضحى ، * مقام الشهيد ، * عين الفورة

السؤال الثاني : (3,5 ن)

ضع " صحيح " أو " خطأ " أمام كل عبارة :

- * يُعتبر القطر من المعالم الجغرافية
* عندما أتوجه إلى مكان ما أختار الطريق الأيمن
* عدد الاتجاهات الجغرافية الرئيسية خمسة
* عند التنقل إلى مكان ما أستعمل المعالم
* يُطلق على مدينة قسنطينة بعاصمة الشرق الجزائري
* يُقسّم المناخ في الجزائر إلى مناخين
* يُمارس سكان الريف التجارة والصناعة

السؤال الثالث : (2 ن)

السؤال الثاني : (2 ن)

اربط كل جملة بالكلمة التي تناسبها :

- * أنا أنتزه و أتجول في
* أنا أدرس في قسم السنة
* أنا أشتري الأكوات المدرسية من
* أنا أسكن في مدينة
* الأخرية
* الغاية
* الثالثة
* المكتبة
* أنا أنتزه و أتجول في
* أنا أدرس في قسم السنة
* أنا أشتري الأكوات المدرسية من
* أنا أسكن في مدينة

السؤال الرابع : (2 ن)

املا الفراغ بالكلمة المناسبة : يساره ، خلف ، يميني ، أمام

- * رمى حارس المرمى الكرة فجري اللاعبون
* في السهرة تجلس العائلة
* ركبت سيارة أبي فجلست خلفه و جلست أمي على
* من آداب الأكل أن أكل ب و مما يليني

تصحيح امتحان الفصل الأول في الجغرافيا رقم 3

حلّ السؤال الأول : (2,5 ن)

ضع علامة (x) أمام المعالم التاريخية :

- * مَلْعَبُ 5 جَوِيلِيَّةُ ، * جَامِعُ كَنْشَاوَةُ ، * الطَّرِيقُ الْوَطْنِيُّ رَقْمُ 5 ،
 * مَمَرُ الرَّاجِلِينَ ، * عِيدُ الْعُمَالِ ، * الْمَسْجِدُ الْأَعْظَمُ ،
 * عِيدُ الْأَضْحَى ، * مَقَامُ الشَّهِيدِ ، * عَيْنُ الْفَوْرَةِ

حلّ السؤال الثاني : (3,5 ن)

ضع " صحيح " أو " خطأ " أمام كل عبارة :

- * يُعْتَبَرُ الْقِطْرُ مِنْ الْمَعَالِمِ الْجُغْرَافِيَّةِ **خطأ**
 * عِنْدَمَا أَتَوَّجَهُ إِلَى مَكَانٍ مَا أَخْتَارُ الطَّرِيقَ الْأَمْنُ **صحيح**
 * عَدَدُ الْإِتْجَاهَاتِ الْجُغْرَافِيَّةِ الرَّئِيسِيَّةِ خَمْسَةٌ **خطأ**
 * عِنْدَ التَّنَقُّلِ إِلَى مَكَانٍ مَا اسْتَعْمَلُ الْمَعَالِمَ **صحيح**
 * يُطْلَقُ عَلَى مَدِينَةِ قَسَنْطِينِيَّةٍ بِعَاصِمَةِ الشَّرْقِ الْجَزَائِرِيِّ **صحيح**
 * يَنْقَسِمُ الْمُنَاخُ فِي الْجَزَائِرِ إِلَى مَنَآخِيْنِ **صحيح**
 * يُمَارَسُ سُكَّانُ الرَّيفِ التَّجَارَةَ وَ الصَّنَاعَةَ **خطأ**

حلّ السؤال الثالث : (2 ن)

اربط كل جملة بالكلمة التي تناسبها :

- * أَنَا أَتَنَزَّهُ وَ أَتَجَوَّلُ فِي • الأَخْضَرِيَّةِ
 * أَنَا أَدْرُسُ فِي قِسْمِ السَّنَةِ • الغَابِيَّةِ
 * أَنَا أَشْتَرِي الْأَتَوَاتِ الْمَدْرَسِيَّةَ مِنْ • الثَّلَاثَةِ
 * أَنَا أَسْكُنُ فِي مَدِينَةٍ • الْمَكْتَبَةِ

حلّ السؤال الرابع : (2 ن)

املأ الفراغ بالكلمة المناسبة : يَسَارِهِ ، خَلْفَ ، يَمِينِي ، أَمَامَ

* رَمَى حَارِسُ الْمَرْمَى الْكُرَةَ فَجَرَى اللَّاعِبُونَ **خلفها** .

* فِي السَّهْرَةِ تَجَلَسُ الْعَائِلَةُ **أمام** التَّلْفَازِ .

* رَكِبْتُ سَيَّارَةَ أَبِي فَجَلَسْتُ خَلْفَهُ وَ جَلَسَتْ أُمِّي عَلَى **يساره** .

* مِنْ آدَابِ الْأَكْلِ أَنْ أَكُلَ بـ **يميني** وَ مِمَّا يَلِينِي .

امتحان الفصل الأول في الجغرافيا رقم 4

الاسم و اللقب :

السؤال الأول : (3 ن)

- أكمل الفراغ بالكلمة المناسبة : الشمال ، المناخ ، الصخور ، الطقس ، الثلوج ، معتدلة
- * هو حالة الجو لمدة يوم أو أسبوع ، بينما هو حالة الجو لمدة سنة كاملة في منطقة معينة .
- * يتميز المناخ السائد في بأمطار غزيرة و درجة حرارة ، على عكس المناخ السائد في و الذي يتميز بندرة الأمطار و درجة حرارة مرتفعة .
- * تتساقط في المرتفعات و تغطي الجبال بكثافة .

السؤال الثاني : (2 ن)

اربط كل نشاط بمكان تواجده :

الجامعات و المعاهد

زراعة الخضار و الفواكه

تربية الأبقار و الغنم

صناعة الأواني الفخارية

المدينة

الريف

المحلات الكبرى

تربية النحل

صناعة السفن

صناعة الزرابي

السؤال الثالث : (2 ن)

اختر عنواناً مناسباً لكل صورة من بين العناوين التالية :

المحلات الكبرى ، الصحراء ، الرعي ، تركيب الآلات ، الحرف اليدوية ، مقام الشهيد



.....

.....

.....

.....

.....

.....

السؤال الرابع : (3 ن)

- أكمل التّضاريس بالتّعريف المناسب من بين التّعريفات التالية :
- * المرتفع صغير ، إلقاء البحر باليابسة ، مرتفع كبير ، رمال كثيرة ، أرض منبسطة ، أعلى نقطة في الجبل
- * السهل هو :
- * الشاطئ هو :
- * الكُتبان هي :
- * الجبل هو :
- * القمة هي :
- * الهضبة هي :

بالتوفيق

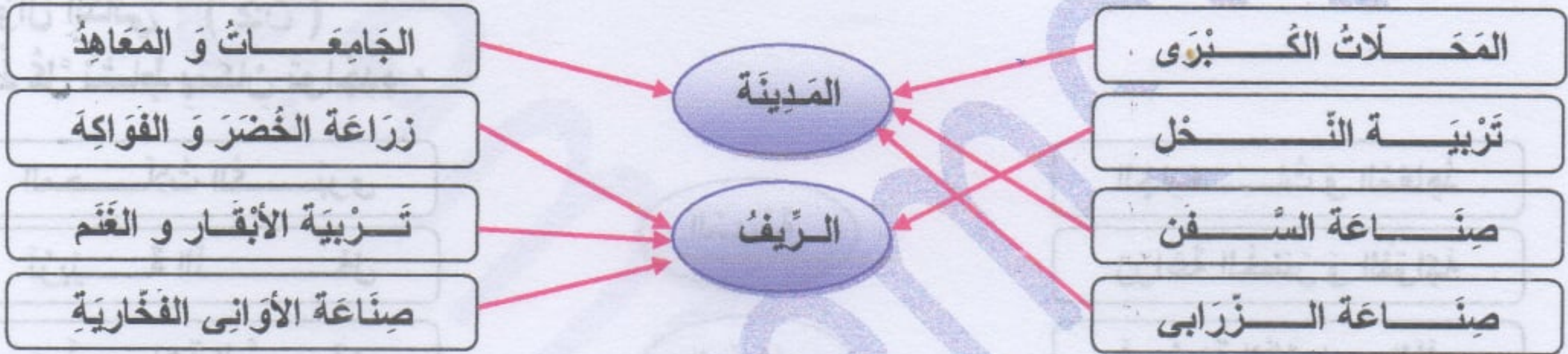
تصحيح امتحان الفصل الأول في الجغرافيا رقم 4

حلّ السؤال الأول : (3 ن)

- أكمل الفراغ بالكلمة المناسبة : الشمال ، المناخ ، الصحراء ، الطقس ، الثلوج ، معتدلة ، مُعدّلة
- * **الطقس** هو حالة الجو لمدة يوم أو أسبوع ، بينما **المناخ** هو حالة الجو لمدة سنة كاملة في منطقة معينة .
 - * يتميز المناخ السائد في **الشمال** بمطر غزيرة و درجة حرارة **معتدلة** ، على عكس المناخ السائد **الصحراء** في و الذي يتميز بندرة الأمطار و درجة حرارة مرتفعة .
 - * تتساقط **الثلوج** في المرتفعات و تغطي الجبال بكثافة .

حلّ السؤال الثاني : (2 ن)

أربط كل نشاط بإمكان تواجده :



حلّ السؤال الثالث : (2 ن)

اختر عنواناً مناسباً لكل صورة من بين العناوين التالية :



السؤال الرابع : (3 ن)

أكمل التّضاريس بالتّعريف المناسب من بين التّعريفات التالية :

- مرتفع صغير ، إلقاء البحر باليابسة ، مرتفع كبير ، رمال كثيرة ، أرض منبسطة ، أعلى نقطة في الجبل
- * **السّهْل** هو : أرض منبسطة .
- * **الشّاطِئ** هو : إلقاء البحر باليابسة .
- * **الكُتبان** هي : رمال كثيرة .
- * **الجبل** هو : مرتفع كبير .
- * **القمة** هي : أعلى نقطة في الجبل .
- * **الهضبة** هي : مرتفع صغير .