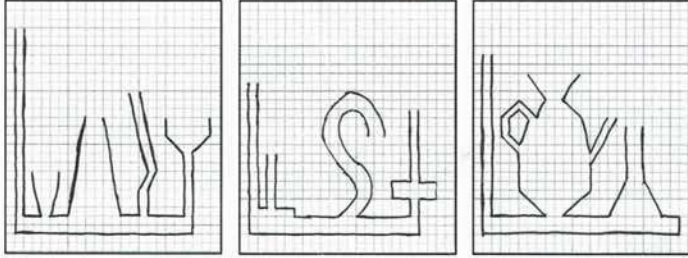
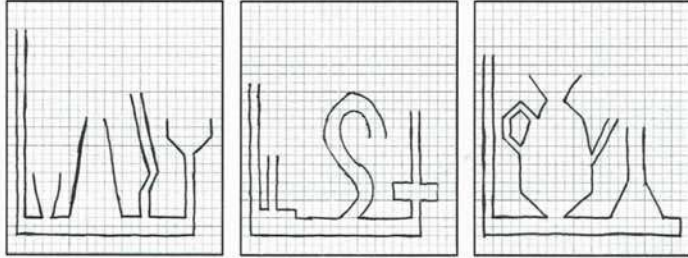


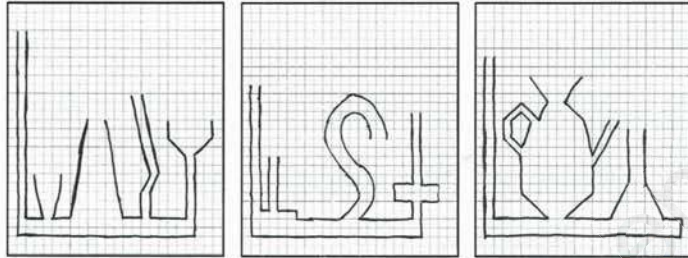
ورقة العمل



ورقة العمل



ورقة العمل



الخرائط العالمية
انقل على كراس الاختبارات و رتب مراحل دورة
الماء في الطبيعة بوضع الرقم المناسب:
3 ن

- ✳ تساقط الأمطار و الثلوج و البرد.
- ✳ تسرب مياه الأمطار و الثلوج و البرد إلى جوف الأرض.
- ✳ تبخر الماء.
- ✳ تجمع المنابع و تكوين الوديان و الأنهار.
- ✳ تكاثف الماء في الجو و تكوين السحب.
- ✳ صب الوديان و الأنهار في البحر.



المدرسة الابتدائية: **رواقى ٥٥٥ عمارت**
الفترة المستهدفة: **صفحة ورقة العمل**
الموسم الدراسي: **2019 / 2018**

الخرائط الأولى
انقل على كراس الاختبارات و اكمل الفراغات:
2,5 ن
✳ يحتاج النبات الأخضر في _____ إلى _____ تُوفِّقها له التربة.
✳ تؤدي _____ أو _____ عنصر _____ إلى ظهور _____ في نمو
النبات الأخضر.
✳ الآتية المستطرفة تتكون من _____ ببعضها البعض، و فيما تكون للماء
في فروعها ذاتها في نفس _____.
3,75 ن
الخرائط الثانية
انقل على كراس الاختبارات و اجب عن التعليمات:



✳ يمكن تحديد الجهات الأربع باستخدام الأداة المقابلة
في الصورة المقابلة.
التعليمات: سم هذه الأداة. اذكر مكوناتها.
- ماذا تعني الرموز: N, S, E, W ؟
- كيف نسمي هذه الجهات؟
- ماذا تعني الرموز: NE, SE, NW, SW ؟
كيف نسمي هذه الجهات؟

الخرائط الثالثة
انقل على كراس الاختبارات و ارسم مستوى الماء في
الأواني على ورقة العمل:
0,75 ن

