

السنة الدراسية 2018/2017  
المقاطعة ع 29 بالأخصرية

ابتدائية فرهي رشيد  
السنة الرابعة ابتدائي

### امتحان الفصل الثاني المقترح في التربية العلمية رقم 3

السؤال الأول : ( 3,5 ن )

ضع علامة  أمام " التصرف الصحيح " و علامة  أمام " التصرف الخاطي "

التصرف الخاطي	التصرف الصحيح	التصرفات
.....	.....	التأخر في إصلاح التوصيلات التي تضيع الماء .
.....	.....	التأكد من صلاحية الماء قبل شربه .
.....	.....	الحنفية فاسدة تقطر باستمرار و لا نصلحها أو نستبدلها .
.....	.....	ترك خرطوم الماء يسيل في الساحة .
.....	.....	استعمال الدلو لتنظيف البلاط .
.....	.....	استعمال الدلو لسقي الأشجار بدل خرطوم الماء .
.....	.....	غسل الأواني و الحنفية تسيل .

السؤال الثاني : ( 3 ن )

أربط بسهم بين المخزون المائي و الحالة التي يكون عليها :

رطوبة الجو	صائب	القطب المتجمد
البخر	سائل	المياه الجوفية
الثانج	غاز	البرك


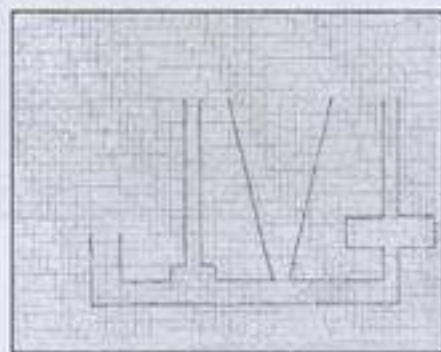

السؤال الثالث : ( 2 ن )

أكمل الفراغ :

مصادر الماء في الطبيعة عديدة و ..... فالماء يوجد في البحار و ..... و  
..... و في .....

السؤال الرابع : ( 1,5 ن )

أرسم مستوى الماء في هذه الأواني :



### تصحيح امتحان الفصل الثاني المقترح في التربية العلمية رقم 3

السؤال الأول : ( 3,5 ن )

ضع علامة  أمام " التصرف الصحيح " و علامة  أمام " التصرف الخاطئ "

التصرف الخاطئ	التصرف الصحيح	التصرفات
<input type="checkbox"/>	<input checked="" type="checkbox"/>	التأخر في إصلاح التوصيلات التي تضيع الماء .
<input checked="" type="checkbox"/>	<input type="checkbox"/>	التأكد من صلاحية الماء قبل شربه .
<input type="checkbox"/>	<input checked="" type="checkbox"/>	الحنفية فاسدة تقطر باستمرار و لا نصلحها أو نستبدلها .
<input type="checkbox"/>	<input checked="" type="checkbox"/>	ترك خرطوم الماء يسيل في الساحة .
<input checked="" type="checkbox"/>	<input type="checkbox"/>	استعمال الدلو لتنظيف البلاط .
<input checked="" type="checkbox"/>	<input type="checkbox"/>	استعمال الدلو لسقي الأشجار بدل خرطوم الماء .
<input type="checkbox"/>	<input checked="" type="checkbox"/>	غسل الأواني و الحنفية تسيل .

السؤال الثاني : ( 3 ن )

أربط بسهم بين المخزون المائي و الحالة التي يكون عليها :



السؤال الثالث : ( 2 ن )

أكمل الفراغ :

مصادر الماء في الطبيعة عديدة و متنوعة فالماء يوجد في البحار و السدود و الأنهار و في جوف الأرض .

السؤال الرابع : ( 1,5 ن )

أرسم مستوى الماء في هذه الأواني :

