

السنة الدراسية 2017/2018  
المقاطعة ع 29 بالأخضرية

ابتدائية فرهي رشيد  
السنة الرابعة ابتدائي

### امتحان الفصل الثالث المقترح في الرياضيات رقم 5

التمرين الأول : ( 1,5 ن )  
أكمل ملء الفراغ بالعدد العشري المناسب :

$7 \text{ dg } 5 \text{ cg} = \dots \text{ dg}$	$3 \text{ m } 5 \text{ dm} = \dots \text{ m}$	$4 \text{ km } 2 \text{ dag} = \dots \text{ km}$
$3 \text{ cl } 2 \text{ ml} = \dots \text{ cl}$	$10 \text{ l } 3 \text{ dl} = \dots \text{ l}$	$5 \text{ dal } 8 \text{ l} = \dots \text{ dal}$

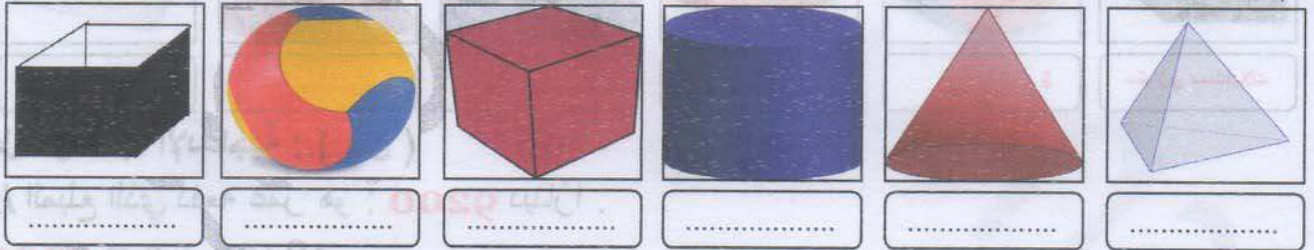
التمرين الثاني : ( 1,5 ن )  
أحسب بوضع العملية :

$$0,145 + 23 + 81,689 \quad , \quad 61 + 401,47 \quad , \quad 35 + 7,52$$

التمرين الثالث : ( 1,5 ن )  
ضع علامة ( x ) أمام الإجابة الصحيحة :

* مدة العطلة الربيعية هي : <input type="checkbox"/> 16 شهرًا . <input type="checkbox"/> 16 أسبوعًا . <input type="checkbox"/> 16 يومًا .	* تدوم الفترة الصباحية للدراسة : <input type="checkbox"/> ساعتان و ربع . <input type="checkbox"/> ساعة و ربع . <input type="checkbox"/> ربع ساعة .	* مدة العمرة هي : <input type="checkbox"/> 15 شهرًا . <input type="checkbox"/> 15 يومًا . <input type="checkbox"/> 15 دقيقة .
---	---	--

التمرين الرابع : ( 1,5 ن )  
سم كلا من المجسمات الآتية :



الوضعية الإدماجية : ( 4 ن )

اشترك ثلاثة إخوة عمر و بشير و أمينة في مبلغ لشراء هدية لأهمهم بمناسبة عيد الأم قيمتها 18400 دينارًا ، فدفع عمر نصف المبلغ ، و دفع بشير ربع المبلغ ، و دفعت أمينة خمس المبلغ ، و أكمل الأب باقي المبلغ .

1/ ما هو المبلغ الذي دفعه عمر ؟

2/ ما هو المبلغ الذي دفعه بشير ؟

3/ ما هو المبلغ الذي دفعته أمينة ؟

4/ ما هو باقي المبلغ الذي أكمله الأب ؟

بالتوفيق

## تصحيح امتحان الفصل الثالث المقترح في الرياضيات رقم 5

حل التمرين الأول : ( 1,5 ن )  
أكمل ملء الفراغ بالعدد العشري المناسب :

$7 \text{ dg } 5 \text{ cg} = 7,5 \text{ dg}$	$3 \text{ m } 5 \text{ dm} = 3,5 \text{ m}$	$4 \text{ km } 2 \text{ dag} = 4,2 \text{ km}$
$3 \text{ cl } 2 \text{ ml} = 3,2 \text{ cl}$	$10 \text{ l } 3 \text{ dl} = 10,3 \text{ l}$	$5 \text{ dal } 8 \text{ l} = 5,8 \text{ dal}$

حل التمرين الثاني : ( 1,5 ن )

$23,000$	$61,00$	$35,00$
$+ 81,689$	$+ 401,47$	$+ 7,52$
$0,145$	$= 462,47$	$= 42,52$
$= 104,834$		

حل التمرين الثالث : ( 1,5 ن )

ضع علامة ( x ) أمام الإجابة الصحيحة :

* مدة العطلة الربيعية هي : <input type="checkbox"/> 16 شهرًا . <input type="checkbox"/> 16 أسبوعًا . <input checked="" type="checkbox"/> 16 يومًا .	* تدوم الفترة الصباحية للدراسة : <input checked="" type="checkbox"/> - ساعتان و ربع . <input type="checkbox"/> - ساعة و ربع . <input type="checkbox"/> - ربع ساعة .	* مدة العمرة هي : <input type="checkbox"/> 15 شهرًا . <input checked="" type="checkbox"/> 15 يومًا . <input type="checkbox"/> 15 دقيقة .
--	--	---

حل التمرين الرابع : ( 1,5 ن )

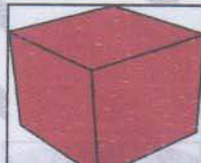
سم كلا من المجسمات الآتية :



متوازي مستطيلات



كرة



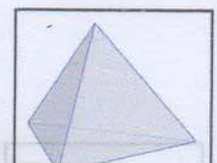
مكعب



اسطوانة



مخروط



هرم ثلاثي القاعدة

حل الوضعية الإدماجية : ( 4 ن )

1/ المبلغ الذي دفعه عمر هو : **9200** دينارًا .

$$18400 \div 2 = 9200$$

2/ المبلغ الذي دفعه بشير هو : **4600** دينارًا .

$$18400 \div 4 = 4600$$

3/ المبلغ الذي دفعته أمينة هو : **3680** دينارًا .

$$18400 \div 5 = 3680$$

مجموع ما دفعه الإخوة الثلاثة هو : **17480** دينارًا .

$$9200 + 4600 + 3680 = 17480$$

4/ باقي المبلغ الذي أكمله الأب هو : **920** دينارًا .

$$18400 - 17480 = 920$$