

S.A.L.I.M

الجمهورية الجزائرية الديمقراطية الشعبية
وزارة التربية الوطنية

مؤسسة التربية والتعليم الخاصة - سليم -

ETABLISSEMENT PRIVE D'EDUCATION ET D'ENSEIGNEMENT - SALIM -

أعتماء رقم 40 بتاريخ 23 جوان 2015

تحضيري - ابتدائي - متوسط - ثانوي

رخصة فتح رقم 1094 بتاريخ 02 سبتمبر 2015

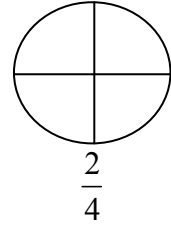
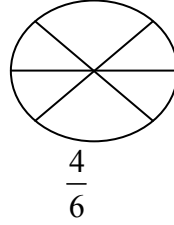
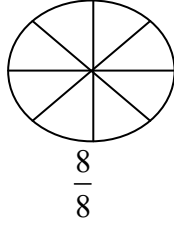
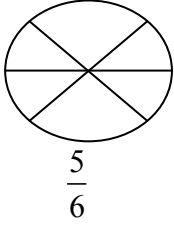
ماي 2018

المستوى: الرابعة ابتدائي (4AP)

اختبار الفصل الثالث في مادة الرياضيات

التمرين الأول: 1.5

ألون حسب الكسر ، ثم أجب على السؤال



- الكسر الذي يمثل الوحدة هو :

- الكسر الذي يساوي هو :

التمرين الثاني:

اقرأ الجدول ثم أكمل الفراغات بما يناسب :

عدد أكياس الحليب	3	15	20	6	10
السعر (بالدينار)	75

التمرين الثالث : 1.5

يقطع سائق مسافة 175km في الساعة الواحدة ، إذا علمت أن هذا السائق يتنقل مدة 6 ساعات في اليوم .

- ما هي المسافة التي يقطعها في اليوم ؟

- احسب المسافة المقطوعة خلال أسبوع .

الصفحة 2/1

حي قعلول - برج البحري - الجزائر

Web site : www.ets-salim.com / Fax 023.94.83.37 : الفاكس : Tel : 0560.94.88.02/05.60.91.22.41/05.60.94.88.05

التمرين الرابع :

- ارسم مستقيمين متعامدين في النقطة (o).
- أنشئ الدائرة التي مركزها (o) و طول نصف قطرها 3cm.
- عين النقط A,B,C,D، نقاط تقاطع الدائرة مع المستقيمين .
- ما نوع الرباعي الذي تحصلت عليه ؟
- ما عدد محاور تناظره ؟

الوضعية :

بمناسبة حلول شهر رمضان ، قام سكان الحيّ بإجراء بعض التغييرات على مسجد الحيّ فاشترىوا 50 سجادة ، و 10 مكيفات و 9 ثريّات بالأثمان المبينة في الجدول التالي :

ثمن ثرية واحدة	ثمن مكيف واحد	ثمن سجادة واحدة
7000 دينار	25000 دينار	9000 دينار

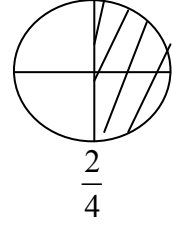
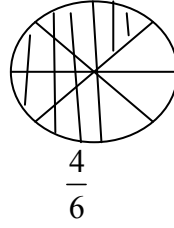
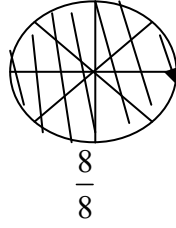
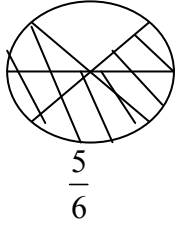
- أوجد ثمن كل المشتريات.
- احسب المبلغ الذي يتبقى إذا علمت أن المبلغ الذي جمع 800000 ديناراً.

بالتوفيق

تصحيح اختبار الفصل الثالث في مادة الرياضيات

التمرين الأول: 1.5ن

ألون حسب الكسر ، ثم أجب على السؤال



- الكسر الذي يمثل الوحدة هو: $\frac{8}{8}$

- الكسر الذي يساوي النصف هو: $\frac{2}{4}$

التمرين الثاني:

اقرأ الجدول ثم أكمل الفراغات بما يناسب :

عدد أكياس الحليب	3	15	20	6	10
السعر (بالدينار)	75	375	500	150	250

التمرين الثالث : 1.5ن

- يقطع في اليوم : كيلومتر $375 \times 6 = 1050$

- يقطع في أسبوع : كيلومتر $1050 \times 7 = 7350$

التمرين الرابع :

- نتحصل على مربع

- عدد محاوره : 4 محاور

الوضعية :

$$(50 \times 9000) + (10 \times 25000) + (9 \times 7000) = 763000$$

ثمن المشتريات : 763000 دينار

$$800000 - 763000 = 37000$$

يبقى 37000 دينار