



الاسم واللقب:

مراجعة عطلة الربيع

4



احسب العمليات التالية بدقة

التمرين 1:

$140 \times 1000 = \dots$



$670 \times 1000 = \dots$

$26\ 560 \times 10 = \dots$

$6400 \times 100 = \dots$

ارسم محور تناظر هذه الاشكال

التمرين 2:



أحسب الجداءات التالية

التمرين 3:

$10 \times 9 = \dots$

$2 \times 7 = \dots$

$3 \times 9 = \dots$

$5 \times 7 = \dots$

$6 \times 9 = \dots$

$8 \times 7 = \dots$

أوجد حاصل وبقاى قسمة العمليات التالية

التمرين 4:

$23 \div 7$


$41 \div 5$

$35 \div 4$

$57 \div 7$

$34 \div 5$

12 cm



6 cm

أكمل بما يناسب

التمرين 5:

1- احسب مساحة الشكل المقابل

2- احسب محيط الشكل المقابل



الاسم واللقب:

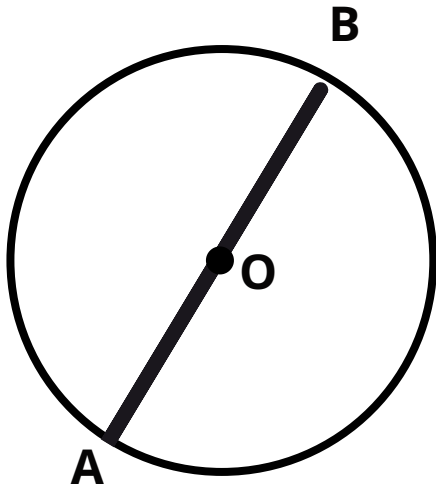
مراجعة عطلة الربيع

4



التمرين 6:

لاحظ الشكل واكمل مايلي



• النُقطة O هي الدَائِرَة

• قِطْعَة المُسْتَقِيم (OB) هي الدَائِرَة

• قِطْعَة المُسْتَقِيم (AB) هي الدَائِرَة

أرسم الشكل الاتي

التمرين 7:

• أرسم قِطْعَة مُسْتَقِيم AB طولها 3 cm

• عَيِّن النُقطة c مُنْتَصَف AB

• ارسم الدَائِرَة التي مَر كُزْها B و التي تمر من C

• ارسم الدَائِرَة التي مَر كُزْها A ونصف قطرها AB

• ارسم الدَائِرَة التي قطرها AB و مَاهُ مَر كُزْها ؟

أكمل الجدول الاتي

التمرين 8:

عدد الخرفان	4	25	
عدد الارجل	16	80	200

الوضعية:

نجح أمين في شهادة البكالوريا ، فأعطته عائلته مبلغ 60000 دج فاشترى بها حاسوباً ثمنه

25000 دج و هاتف ثمنه 15000 دج و شاحن ب 700 دج .

• ما هو ثمن كل المشتريات ؟

• ما هو المبلغ المتبقي عنده ؟

اتصل أمين باصدقائه فكلهم لمدة 75 دقيقة ثمن المكالمة الواحدة 10 دينار.

• ما هو ثمن كل المكالمة الهاتفية