

الجمهورية الجزائرية الديمقراطية الشعبية

المدرسة الابتدائية : بريك لحسن

القسم : السنة الرابعة ابتدائي

السنة الدراسية : 2024 / 2023

المدة : ساعة و نصف

المقاطعة : غزوات - 4 .

اسم التلميذ :

اختبار الفصل الثالث في التاريخ و الجغرافيا

أولاً : التاريخ :

1 (أجب عن الأسئلة التالية :



• متى صارت الجزائر معرّضةً للتحرّشات الإسبانية ؟

.....

• بعد سقوط دولة الموحّدين ، انقسمت بلاد المغرب إلى ثلاث دويلات ، سمّها .


.....

• من هو القائد الذي حرّر السواحل الجزائرية من قبضة الإسبان ؟

.....

1 (أربط الأحداث بتاريخ وفوعه :

- | | |
|-------|-----------------------|
| 1515م | • معركة لبيانت |
| 1818م | • معركة نفارين |
| 1827م | • مؤتمر فيينا |
| 1269م | • مؤتمر إكس لا شابيل |
| 1571م | • سقوط دولة الموحّدين |



2 (أكمل بما يناسب :

• الإتاوات هي

• عوامل تطوّر القوّة البحرية الجزائرية هي :

..... ✓

..... ✓

..... ✓



1 (أَجِبْ عَنِ الْأَسْئَلَةِ التَّالِيَةِ :
• لِمَاذَا تُقَامُ الْمَحْمِيَّاتُ الطَّبِيعِيَّةُ ؟

.....
.....
.....

• مَا هُوَ عَدَدُ الْمَحْمِيَّاتِ الطَّبِيعِيَّةِ فِي الْجَزَائِرِ ؟



.....

2 (أَكْمِلْ مَلَأَ الْجَدْوَلَيْنِ :

المساحة	سنة التأسيس	الولاية	المحمية
.....	القالمة
.....	ثنية الحد

سنة وقوعها	الكارثة الطبيعية
.....	زلزال بومرداس
.....	فيضان باب الوادي

3 (اذكر طرق الوقاية من مخاطر الحرائق .

العلامة		عناصر الإجابة	محاور الموضوع
المجموع	مجزأة		
03	1 1 1	 <p>أَجِبْ عَنِ الْأَسْئَلَةِ التَّالِيَةِ :</p> <ul style="list-style-type: none"> • صارت الجزائر معرّضة للتّحرّشات الإسبانية بعد سقوط الأندلس . • إنقَسَمَتِ بِلَادُ الْمَغْرِبِ إِلَى ثَلَاثِ دَوْلَاتٍ هِيَ : الحفصيون ، الزيانيون ، المرينيون • الْقَائِدُ الَّذِي حَرَّرَ السَّوَاحِلَ الْجَزَائِرِيَّةَ مِنْ قَبْضَةِ الْإِسْبَانِ هُوَ خَيْرُ الدِّينِ بَرْبُوسِ . 	1
3.75	5×0.75	<p>أَرِطُ الْوَحْدَةَ بِتَارِيخِ وَقُوعِهِ :</p> <ul style="list-style-type: none"> • معركة ليبانت ← 1515م • معركة نفارين ← 1818م • مؤتمر فيينا ← 1827م • مؤتمر إكس لا شايل ← 1269م • سقوط دولة الموحدين ← 1571م 	2
3.25	1 3×0.75	<p>أَكْمِلْ بِمَا يُنَاسِبُ :</p> <ul style="list-style-type: none"> • الْإِتَاوَاتُ هِيَ مَبَالِغٌ مَالِيَّةٌ تَدْفَعُهَا الدُّوَلُ الْأُورِيبِيَّةُ مَقَابِلَ حِمَايَتِهَا مِنَ الْقِرَاصِنَةِ . • عَوَامِلُ تَطَوُّرِ الْقُوَّةِ الْبَحْرِيَّةِ الْجَزَائِرِيَّةِ هِيَ : <ul style="list-style-type: none"> ✓ وفرة الموارد الطبيعية خاصة الخشب . ✓ شريط ساحلي طويل 1200 كلم . ✓ كثرة الموانئ و كثرة ورش صناعة السفن . ✓ 	3



أَجِبْ عَنِ الْأَسْئَلَةِ التَّالِيَةِ :

• لِمَاذَا تُقَامُ الْمَحْمِيَّاتُ الطَّبِيعِيَّةُ ؟

- ✓ حماية الموارد الطبيعية .
- ✓ مكافحة التلوث و المحافظة على البيئة
- ✓ تحسين نوعية حياة الحيوان و النبات
- ✓

1

أَكْمِلْ مَلَأَ الْجُدُولَيْنِ :

المساحة	سنة التأسيس	الولاية	المحمية
86438 هـ	1983	الطارف	القاله
3425 هـ	1983	تيسمسيلت	ثنية الحد

سنة وقوعها	الكارثة الطبيعية
2003	زلزال بومرداس
2001	فيضان باب الوادي



2

طُرُقَ الْوَقَايَةِ مِنْ مَخَاطِرِ الْحَرَائِقِ هِيَ :

- إقامة مراكز طوارئ لمكافحة الحرائق تكون مجهزة بالوسائل الضرورية .
- عدم إقامة أحياء سكنية بالقرب من الغابات للتقليل من الخسائر .
- إقامة مسالك عبر الغابات تسمح بتنقل فرق الإطفاء ، و تمنع من انتقال التيار بين مختلف أجزاء الغابة .
-

3

الجغرافيا

إعداد الأستاذ : عبد الكريم دهم