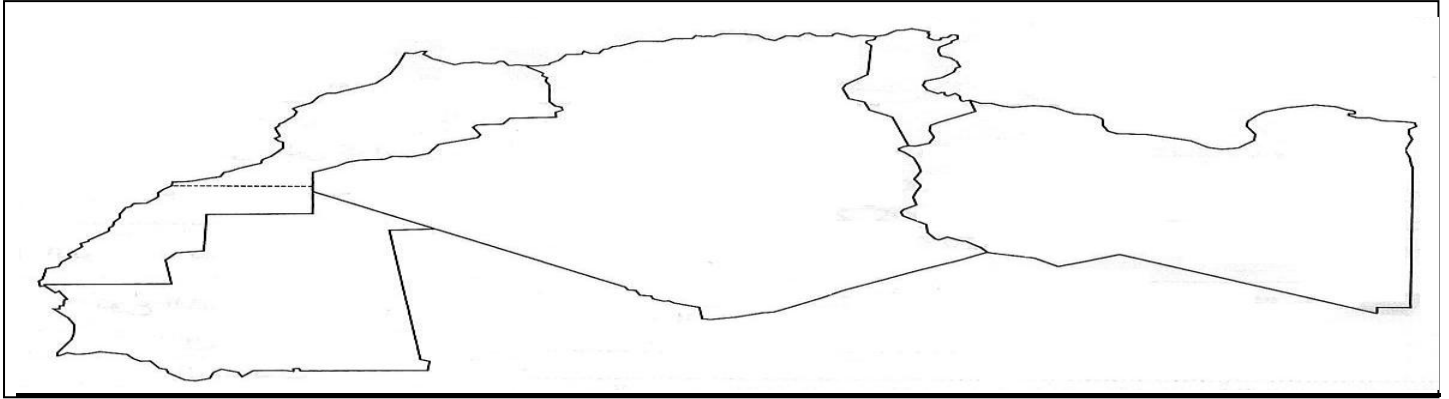


الجغرافيا:

التمرين الأول : أكتب اسم كل دولة من دول المغرب العربي على الخريطة التالية



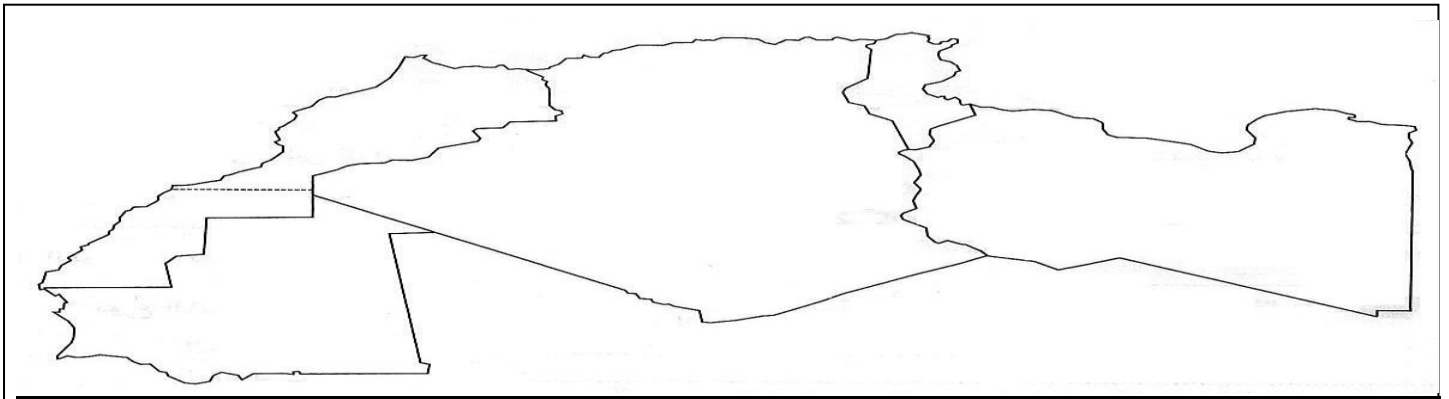
التمرين الثاني : مكونات الخريطة هي : 1..... 2..... 3..... 4.....

التمرين الثالث : أكمل كل عبارة من العبارات الآتية :

الجَزَائِرُ دَوْلَةٌ مِنْ دَوْلِ قَارَةِ ..... / الجَزَائِرُ دَوْلَةٌ مِنْ دَوْلِ المَغْرِبِ ..... /الجَزَائِرُ تُطَلُّ عَلَى البَحْرِ .....  
 الجَزَائِرُ أَكْبَرُ بَلَدٍ ..... وَالْعَاشِيرُ ..... / الجَزَائِرُ لَهَا حُدُودٌ مَعَ ..... دَوْلٍ وَهِيَ بَوَابَةُ إِفْرِيقِيَا مِنْ جِهَةِ  
 ..... / تَبْلُغُ مِسَاحَةُ الجَزَائِرِ ..... /تَبْلُغُ مِسَاحَةُ الوَطَنِ العَرَبِيِّ ..... /خَطُّ غرينيتش خَطُّ .....

الجغرافيا:

التمرين الأول : أكتب اسم كل دولة من دول المغرب العربي على الخريطة التالية



التمرين الثاني : مكونات الخريطة هي : 1..... 2..... 3..... 4.....

التمرين الثالث : أكمل كل عبارة من العبارات الآتية :

الجَزَائِرُ دَوْلَةٌ مِنْ دَوْلِ قَارَةِ ..... / الجَزَائِرُ دَوْلَةٌ مِنْ دَوْلِ المَغْرِبِ ..... /الجَزَائِرُ تُطَلُّ عَلَى البَحْرِ .....  
 الجَزَائِرُ أَكْبَرُ بَلَدٍ ..... وَالْعَاشِيرُ ..... / الجَزَائِرُ لَهَا حُدُودٌ مَعَ ..... دَوْلٍ وَهِيَ بَوَابَةُ إِفْرِيقِيَا مِنْ جِهَةِ  
 ..... / تَبْلُغُ مِسَاحَةُ الجَزَائِرِ ..... /تَبْلُغُ مِسَاحَةُ الوَطَنِ العَرَبِيِّ ..... /خَطُّ غرينيتش خَطُّ .....

## التاريخ:

**التمرين الأول:** أكمل كل عبارة باختصار:

يُرْتَبَطُ التَّقْوِيمُ المِيلَادِيُّ بِمِيلَادٍ .....

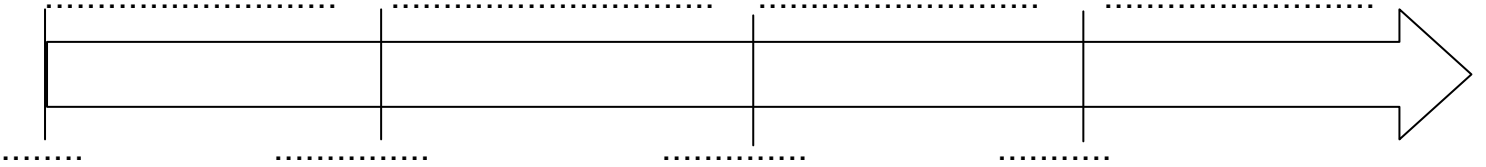
يُرْتَبَطُ التَّقْوِيمُ الهِجْرِيُّ بِهَجْرَةِ .....

إِنْدَلَعَتِ الثَّوْرَةُ التَّحْرِيرِيَّةُ الجَزَائِرِيَّةُ يَوْمَ .....

إِسْتَرْجَعَ الشَّعْبُ الجَزَائِرِيُّ سِيَادَتَهُ فِي .....

**التمرين الثاني:** يَفْصِلُ بَيْنَ كُلِّ مَرَحَلَةٍ مِنَ المَرَاكِجِ التَّارِيخِيَّةِ أَحْدَاثٌ بَارِزَةٌ، بَدَأَتْ مِنْ إِكْتِشَافِ الكِتَابَةِ ثُمَّ سُقُوطِ رُومًا ثُمَّ فَتْحِ القُسْطَنْطِينِيَّةِ ثُمَّ قِيَامِ الثَّوْرَةِ الفِرَنْسِيَّةِ .

ضَعْ عَلَى المُخَطَّطِ التَّالِي كُلاً مِنَ المَرَاكِجِ التَّارِيخِيَّةِ وَهَذِهِ الأَحْدَاثُ :



## التاريخ:

**التمرين الأول:** أكمل كل عبارة باختصار:

يُرْتَبَطُ التَّقْوِيمُ المِيلَادِيُّ بِمِيلَادٍ .....

يُرْتَبَطُ التَّقْوِيمُ الهِجْرِيُّ بِهَجْرَةِ .....

إِنْدَلَعَتِ الثَّوْرَةُ التَّحْرِيرِيَّةُ الجَزَائِرِيَّةُ يَوْمَ .....

إِسْتَرْجَعَ الشَّعْبُ الجَزَائِرِيُّ سِيَادَتَهُ فِي .....

**التمرين الثاني:** يَفْصِلُ بَيْنَ كُلِّ مَرَحَلَةٍ مِنَ المَرَاكِجِ التَّارِيخِيَّةِ أَحْدَاثٌ بَارِزَةٌ، بَدَأَتْ مِنْ إِكْتِشَافِ الكِتَابَةِ ثُمَّ سُقُوطِ رُومًا ثُمَّ فَتْحِ القُسْطَنْطِينِيَّةِ ثُمَّ قِيَامِ الثَّوْرَةِ الفِرَنْسِيَّةِ .

ضَعْ عَلَى المُخَطَّطِ التَّالِي كُلاً مِنَ المَرَاكِجِ التَّارِيخِيَّةِ وَهَذِهِ الأَحْدَاثُ :

