

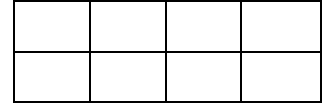




المستوى: الخامس ابتدائي (5AP) جانفي 2022

فرض منزلي في الرياضيات

التمرين الأول: (1.5ن)

لاحظ الأشكال و لون الأجزاء المناسبة ثم اكتب الكسر المناسب.



ثلاثة أسداس: _____

نصف : _____

ثلاثة أثمان: _____

- احسب ما يلي :

$$8 + \frac{4}{5} = \underline{\hspace{2cm}}$$

$$6 + \frac{3}{4} = \underline{\hspace{2cm}}$$

التمرين الثاني: (1.5ن)

أ- اكتب كل كسر على شكل عدد عشري:

$$\frac{8500}{100}$$

$$\frac{5008}{1000}$$

$$\frac{58}{10}$$

ب- اكتب كلاً من الأعداد العشرية على شكل كسور عشرية:

85.005

10.1

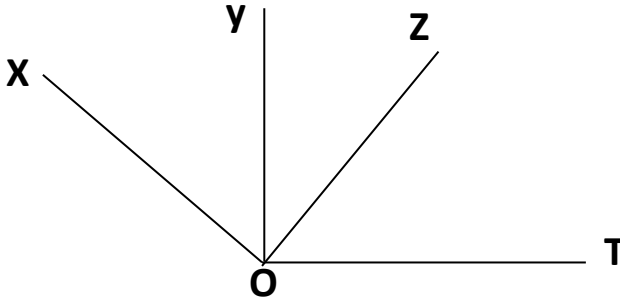
5.08

التمرين الثالث: (1.5ن)

اشترى والدك من الصيدلية دواء ب 1576 دينارا، إذا علمت أن الصيدلي أزرع له 424 دينارا.
- ما هو المبلغ الذي أعطاه والدك للصيدلي؟

التمرين الرابع: (1.5ن)

تَمَعَّنْ فِي الشُّكْلِ ثُمَّ اسْتَخْرِجْ:



- زَاوِيَّةٌ مُنْفَرَجَةٌ.
- زَاوِيَّةٌ حَادَّةٌ.
- زَاوِيَّةٌ قَائِمَةٌ.

الوضعية الإدماجية: (4ن)

بِمُنَاسَبَةِ الدُّخُولِ الْمَدْرَسِيِّ اشْتَرَى مُدِيرُ مَدْرَسَتِكَ كُتُبًا لِلْمَكْتَبَةِ فِي الْمَوَادِّ الْأَسَاسِيَّةِ الْمُبَيَّنَةِ فِي الْجَدُولِ الْآتِي:

العدد	ثمن الوحدة
رياضيات	40
لغة	35
فرنسية	37

- أَحْسَبْ ثَمَنَ كُلِّ الْكُتُبِ الْمَقْتَنَاءِ.
- اسْتَفَادَ مُدِيرُ مَدْرَسَتِكَ مِنْ تَخْفِيزٍ قِيمَتُهُ 3550 دِينَارًا. كَمْ دَفَعَ لِلْبَائِعِ؟

بالتوفيق.