



الجمهورية الجزائرية الديمقراطية الشعبية  
وزارة التربية الوطنية  
مؤسسة التربية و التعليم الخاصة **سليم**

ETABLISSEMENT PRIVE D'EDUCATION ET D'ENSEIGNEMENT **SALIM**

www.ets-salim.com 021 87 10 51 021 87 16 89 Hai Galloul - bordj el-bahri alger

رخصة فتح رقم 1088 بتاريخ 30 جانفي 2011

ثانوي - ابتدائي - متوسط - ثانوي

إعتماد رقم 67 بتاريخ 06 سبتمبر 2010

فيفري 2014

المستوى الخامس ابتدائي 5AP

الإختبار رقم 2 للفصل الثاني في مادة الرياضيات

### التمرين الأول:

أنجز عموديا العمليات الآتية

$$43,15 + 65,55 =$$

$$871,22 + 15,09 =$$

$$314,81 - 168,47 =$$

$$432 - 217,28 =$$

### التمرين الثاني:

أحصر العدد العشري بين عددين طبيعيين متتاليين

..... < 54,13 < .....

..... < 15,26 < .....

..... < 8,01 < .....

..... < 27,87 < .....

الصفحة 2/1

حي قعلول - برج البحري - الجزائر

Web site : [www.ets-salim.com](http://www.ets-salim.com) /021.87.16.89 : الفاكس : 021.87.10.51 : Tel-Fax

## التمرين الثالث:

جمع رجل مبلغا من المال قيمته 8000 دينار صرف في المرة الأولى  $\frac{1}{4}$  المبلغ ثم صرف منه في المرة الثانية  $\frac{2}{4}$  المبلغ - ما هو المبلغ الكلي الذي صرفه الرجل؟

## التمرين الرابع:

- ارسم مستقيما (d) وعلم النقطة A تبعد عنه ب: 4 سم .
  - ارسم مستقيما يشمل النقطة A ويكون عموديا على المستقيم (d) ويقطعه في النقطة C.
  - ارسم مستقيما يشمل النقطة A ويقطع المستقيم (d) في النقطة B.
- ماذا نسمي الشكل الناتج عن تقاطع هذه المستقيمات.

## الوضعية الإدماجية:

اشترى جدك بستان شكله كما هو مبين في الشكل.

15m


25M

- احسب محيط هذا البستان .
  - أحيط بسيياج حيث ترك مدخل عرضه 3m.
  - أوجد طول السياج المستعمل .
- إذا كان ثمن المتر الواحد من السياج هو 9,5 دينار وتكلفة العمال تقدر ب 7855,52 دينار.
- ما هو المبلغ الإجمالي لتسييج البستان؟
  - غرست أشجار الزيتون على محيط البستان حيث المسافة بين شجرة وأخرى 5m.
  - ما هو عدد أشجار الزيتون المغروسة؟

بالتوفيق

الصفحة 2/2

حي قعلول - برج البحري - الجزائر



الجمهورية الجزائرية الديمقراطية الشعبية

وزارة التربية الوطنية

مؤسسة التربية و التعليم الخاصة سليم

ETABLISSEMENT PRIVE D'EDUCATION ET D'ENSEIGNEMENT SALIM



www.ets-salim.com



021 87 10 51



021 87 16 89



Hai Galloul - bordj el-bahri alger

رخصة فتح رقم 1088 بتاريخ 30 جانفي 2011

تخصيري - ابتدائي - متوسط - ثانوي

إعتماد رقم 67 بتاريخ 06 سبتمبر 2010

فيفري 2014

المستوى الخامس ابتدائي 5AP

تصحيح الإختبار رقم 2 للفصل الثاني في مادة الرياضيات

### التمرين الأول:

432,00	314,81	871,22	43,15
-	-	+	+
217,28	168,47	15,09	65,55
<hr/>	<hr/>	<hr/>	<hr/>
214,72	146,34	886,31	108,70

### التمرين الثاني:

$$54 < 54,13 < 55$$

$$15 < 15,26 < 16$$

$$8 < 8,01 < 9$$

$$27 < 27,87 < 28$$

### التمرين الثالث:

المبلغ الكلي الذي صرفه الرجل هو : 6000 دج

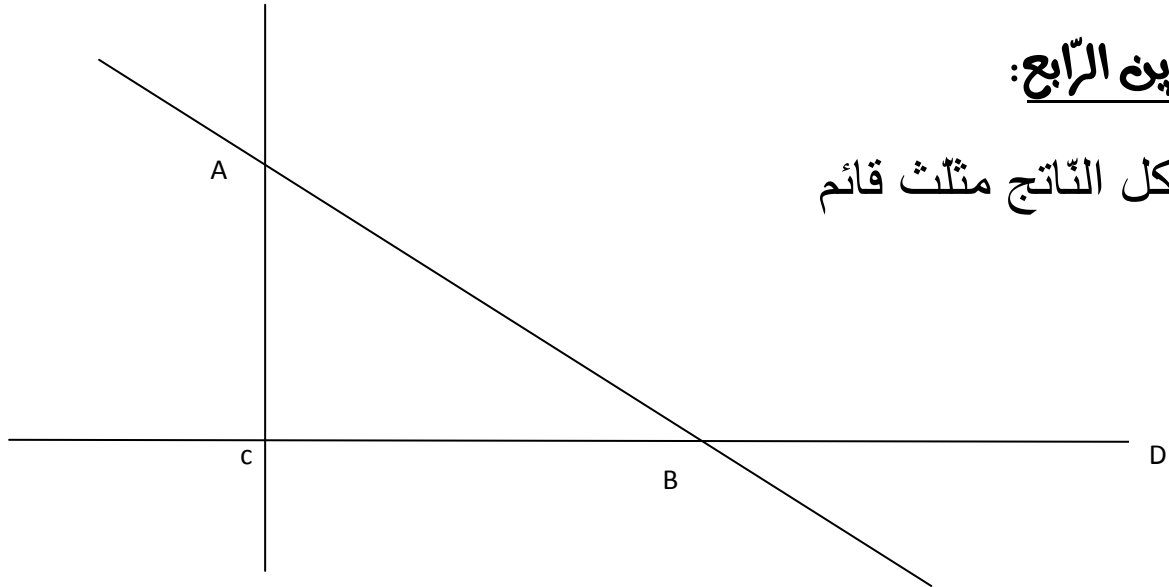
$$(8000 \times \frac{1}{4}) + (8000 \times \frac{2}{4}) = 6000$$

الصفحة 2/1

حي قعلول - برج البحري - الجزائر


## التمرين الرابع:

الشكل الناتج مثلث قائم



## الوضعية الإدماجية:

اشترى جدك بستان شكله كما هو مبين في الشكل.



محيط هذا البستان 80 متر

$$(25 + 15) \times 2 = 80$$

طول السياج المستعمل: 77 متر

$$80 - 3 = 33$$

- المبلغ الإجمالي لتسييج البستان هو: 8597,02 دج

$$(9.5 \times 77) + 7855,52 = 8795,02$$

- عدد أشجارا لزيتون المغروسة هو: 16 شجرة

$$80 \div 5 = 16$$

الصفحة 2/2

حي قعلول - برج البحري - الجزائر