

التمرين الأول (3 ن): املأ كل فراغ في السلم الزمني بما يناسبه.

التاريخ المعاصر				
يومنا هذا				اكتشاف الكتابة

التمرين الثاني (2 ن): صنف ما يلي في الجدول:

- اكتشاف الكتابة - قيام النهضة الأوروبية - ظهور الثورة الصناعية - ظهور الديانات السماوية
- ظهور الحركات الاستعمارية - غرق أوروبا في الجهل و الظلام - الحربين العالميتين
- توسع الحضارة الإسلامية وازدهارها في كل المجالات.

التاريخ القديم	التاريخ الوسيط	التاريخ الحديث	التاريخ المعاصر
_____	_____	_____	_____
_____	_____	_____	_____
_____	_____	_____	_____
_____	_____	_____	_____

التمرين الثالث (2 ن): أكمل الفراغ بما يناسب

- عاش يوغرطة في العصر _____ - عاش الأمير عبد القادر في العصر _____
- عاش خير الدين بربروس في العصر _____ - عاش طارق بن زياد في العصر _____

التمرين الرابع (3 ن): خلال مراحل التاريخ المختلفة تعاقب على الجزائر عدة شخصيات.

- تحدث على إحدى الشخصيات التي تعرفها والذي عاش خلال مرحلة التاريخ المعاصر.

التمرين الأول (3 ن): اربط كل مناخ بالوصف المناسب:

تعيش به حيوانات مختلفة منها الأبقار والماعز والخنازير.
تعيش به حيوانات عديدة منها: الأغنام ، الأبقار ، الدجاج ...
تنمو به أشجار الأرز ، والصنوبر ، والرمان ...
تعيش به الحيوانات التي تتحمل العطش.
يُزرع في هذا المناخ الشجر بكثرة.
يُزرع في هذا المناخ الحبوب خاصة القمح والشعير.

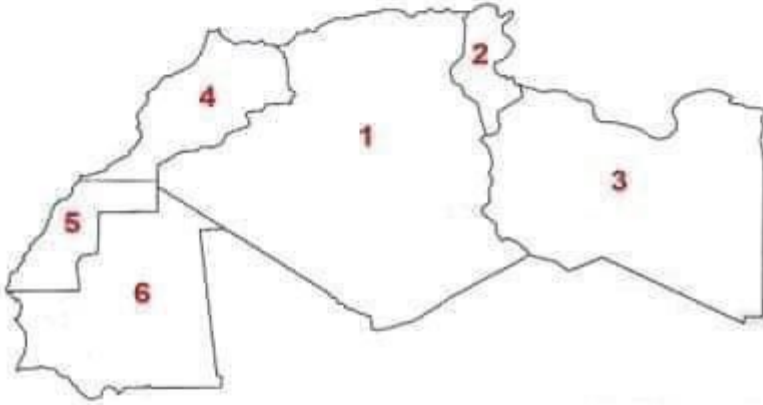
المناخ القاري

المناخ الصحراوي

مناخ البحر الأبيض المتوسط

التمرين الثاني (3 ن):

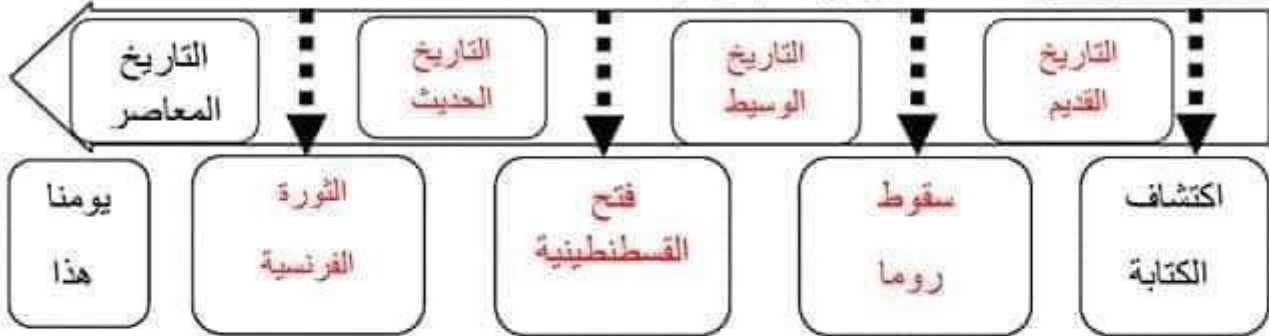
يمثل السند المقابل خريطة صماء لدول المغرب العربي.
سم الدول المرقمة في السند :



- _____ (1)
- _____ (2)
- _____ (3)
- _____ (4)
- _____ (5)
- _____ (6)

التمرين الثالث (4 ن): يُعدّ الجفاف والتصحر كوارث طبيعية تهدد الأرض والبشرية، وقد سعت الدولة الجزائرية جاهدة في وضع حلول للحد من هذه الظواهر.
اكتب فقرة لا تقل عن 5 أسطر تُعرف فيها الجفاف والتصحر مُقترحاً حلولاً تراها مناسبة للحد منها.

التمرين الأول (3 ن): املأ كل فراغ في السلم الزمني بما يناسبه.



التمرين الثاني (2 ن): صنّف ما يلي في الجدول:

- اكتشاف الكتابة - قيام النهضة الأوروبية - ظهور الثورة الصناعية - ظهور الديانات السماوية
- ظهور الحركات الاستعمارية - غرق أوروبا في الجهل و الظلام - الحربين العالميتين
- توسع الحضارة الإسلامية وازدهارها في كل المجالات.

التاريخ القديم	التاريخ الوسيط	التاريخ الحديث	التاريخ المعاصر
- اكتشاف الكتابة. - ظهور الديانات السماوية.	- غرق أوروبا في الجهل و الظلام. - توسع الحضارة الإسلامية وازدهارها في كل المجالات.	- ظهور الثورة الصناعية. - قيام النهضة الأوروبية.	- ظهور الحركات الاستعمارية. - الحربين العالميتين.

التمرين الثالث (2 ن): أكمل الفراغ بما يناسب

- عاش يوغرطة في العصر القديم
- عاش خير الدين بربروس في العصر الحديث
- عاش الأمير عبد القادر في العصر المعاصر
- عاش طارق بن زياد في العصر الوسيط

التمرين الرابع (3 ن): خلال مراحل التاريخ المختلفة تعاقب على الجزائر عدة شخصيات.

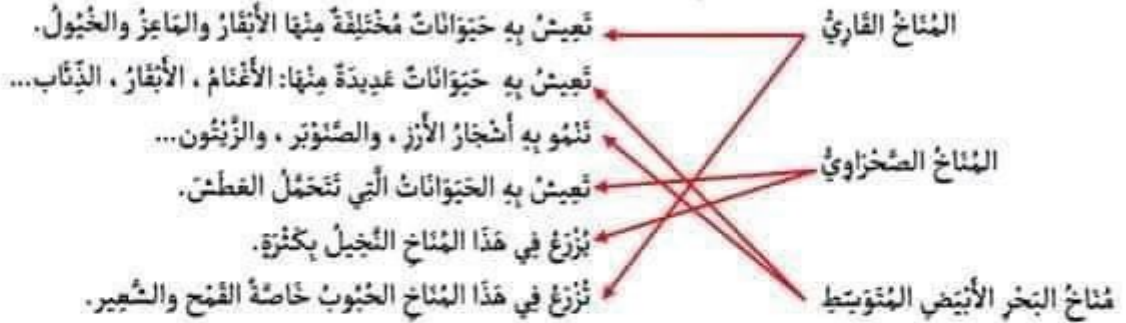
- تحدث على إحدى الشخصيات التي تعرفها والذي عاش خلال مرحلة التاريخ المعاصر.

يكتب فقرة قصيرة يتحدث فيها عن الأمير عبد القادر، استنادا من

مكتسباته وفهمه للدرس وشرح المعلم.

يأخذ بعين الاعتبار الانسجام وسلامة اللغة، والتحدث في صلب

الموضوع، والإتقان (وضوح الخط...)

التمرين الأول (3 ن): اربط كل مناخ بالوصف المناسب:**التمرين الثاني (3 ن):**

يمثل السند المقابل خريطة صماء

لدول المغرب العربي.

سم الدول المرقعة في السند :

(1) الجزائر

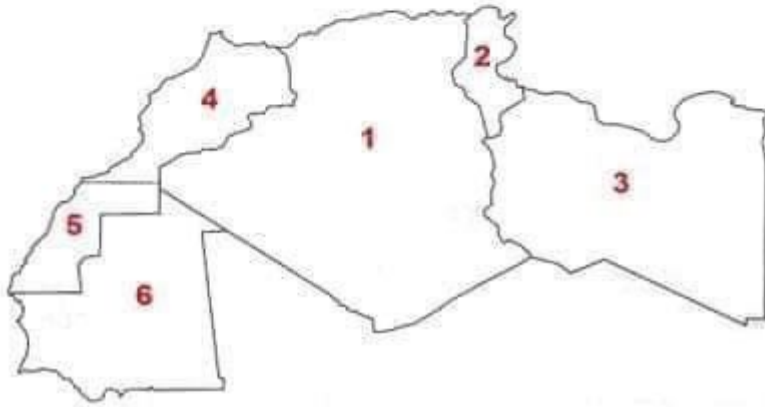
(2) تونس

(3) ليبيا

(4) المغرب (المملكة المغربية)

(5) الصحراء الغربية

(6) موريتانيا

**التمرين الثالث (4 ن):** يُعدّ الجفاف والتصحر كوارث طبيعية تهدد الأرض والبشرية، وقد سعت الدولة

الجزائرية جاهدة في وضع حلول للحد من هذه الظواهر.

اكتب فقرة لا تقل عن 5 أسطر تُعرف فيها الجفاف والتصحر مُقترِحًا حلولاً تراها مناسبة للحد منها.

يكتب فقرة قصيرة لا تقل عن 5 أسطر تتضمن تعريف الجفاف

والتصحر مع تقديم بعض الحلول، استنادا من مكتسياته وفهمه للدرس

وشرح المعلم.

يأخذ بعين الاعتبار الانسجام وسلامة اللغة، والتحدث في صلب

الموضوع و الإتقان (وضوح الخط...)