

السنة الدراسية : 2019/2018
القسم : الخامس ابتدائي

ابتدائية : فرهي رشيد
المقاطعة ع 29 بالأخضرية

اختبار الفصل الأول في مادة التاريخ رقم 1

السؤال الأول : (2 ن)

أربط كل مرحلة تاريخية بتاريخها :

- مرحلة التاريخ القديم
- مرحلة التاريخ الوسيط
- مرحلة التاريخ الحديث
- مرحلة التاريخ المعاصر
- 1453 م
- 476 م
- 1789 م
- 3200 ق . م

السؤال الثاني :

ضع أمام كل معلم تاريخي مكان تواجدده :

- مقام الشهيد :

- جامع كتشاوة :





- أهرامات الجيزة :

- صور الصين العظيم :

السؤال الثالث :

ضع فوق كل صورة اسم الشخصية المناسبة لها من بين الشخصيات التالية :

خير الدين بربروس ، الرايس حميدو ، الأمير عبد القادر ، لويس الرابع عشر ، عقبة بن نافع



السؤال الرابع :

أكمل :

احتلت الجزائر ابتداءً من أواخر القرن السادس عشر مكانة دولية مرموقة بفضل :

..... /1

..... /2

..... /3

..... /4

بالتوفيق

تصحيح اختبار الفصل الأول في مادة التاريخ رقم 1

جواب السؤال الأول : (2 ن)
أربط كل مرحلة تاريخية بتاريخها :

- | | |
|--------------|-------------------------|
| ● 476 م | ● مرحلة التاريخ القديم |
| ● 1453 م | ● مرحلة التاريخ الوسيط |
| ● 1789 م | ● مرحلة التاريخ الحديث |
| ● 3200 ق . م | ● مرحلة التاريخ المعاصر |

جواب السؤال الثاني :

أضع أمام كل معلم تاريخي مكان تواجدده :

- مقام الشهيد : الجزائر
- جامع كتشاوة : الجزائر
- أهرامات الجيزة : مصر العربية
- صور الصين العظيم : الصين

جواب السؤال الثالث :

ضع تحت كل صورة اسم الشخصية المناسبة لها من بين الشخصيات التالية :

لويس الرابع عشر الرئيس حميدو الأمير عبد القادر خير الدين بربروس



جواب السؤال الرابع :

أكمل :

احتلت الجزائر ابتداءً من أواخر القرن السادس عشر مكانة دولية مرموقة بفضل :

- 1/ موقعها الهام .
- 2/ قوة أسطولها .
- 3/ شجاعة بحارتها .
- 4/ كثرة ثرواتها .