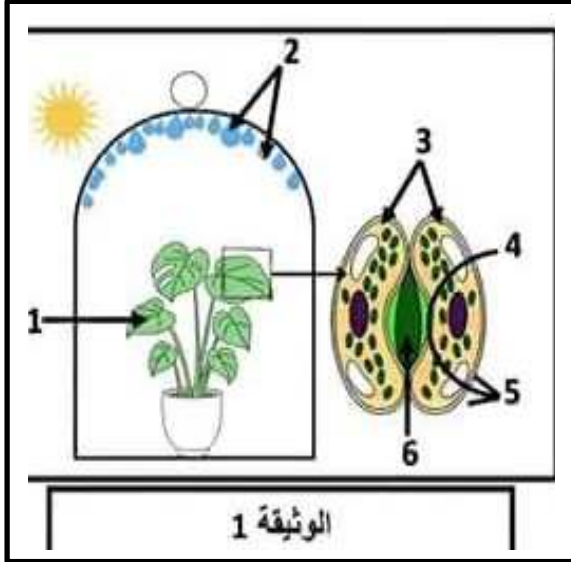


.....الاسم.....
.....اللقب.....
.....القسم.....

التمرين الأول: 6ن



يقوم النبات الأخضر بعدة وظائف حيوية منها المبينة في الوثيقة 1

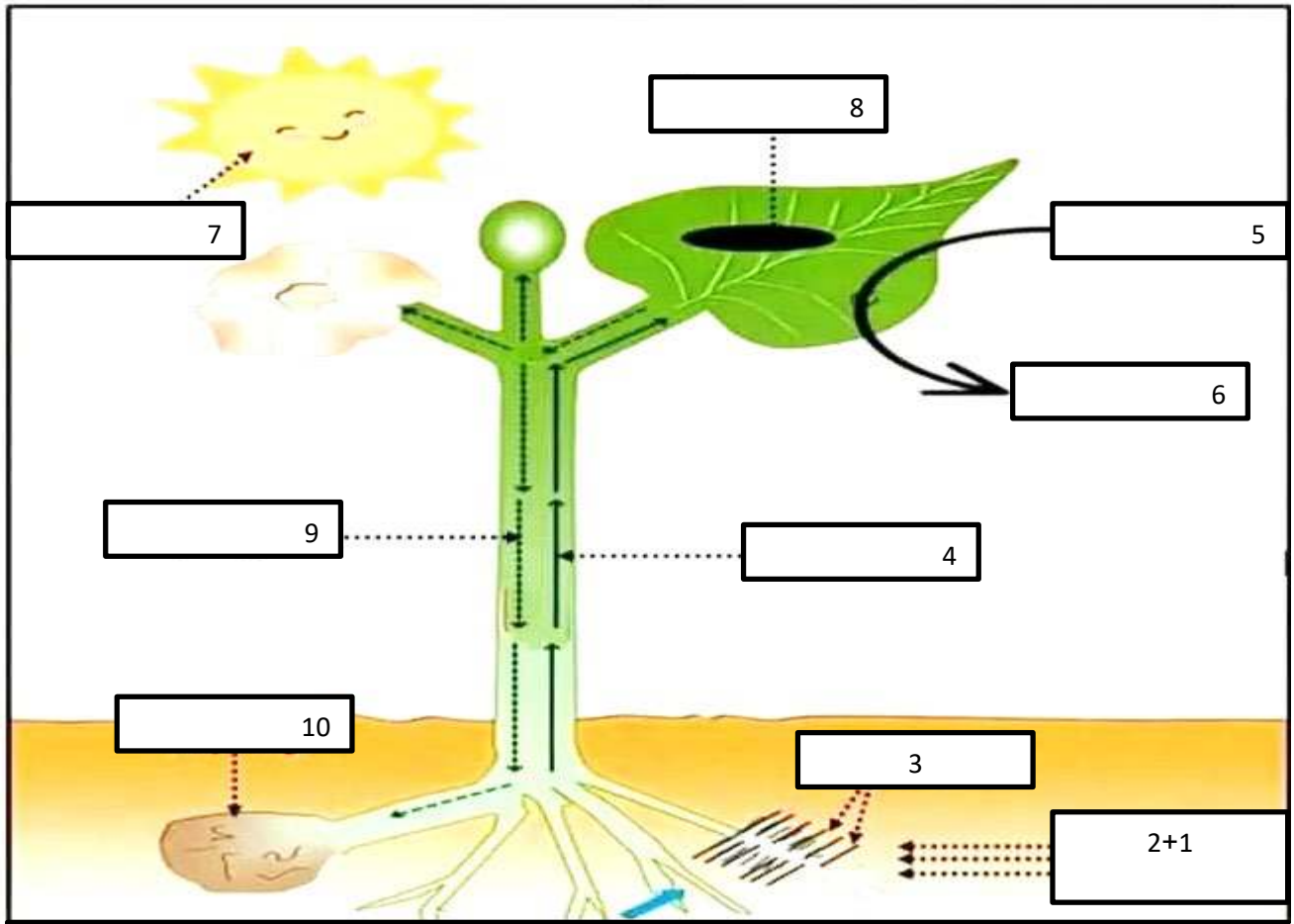
1. اكتب البيانات على الوثيقة

2. اكتب الملاحظة المبينة في الوثيقة 1

3. عرف الظاهرة المدروسة وبين أهميتها بالنسبة للنبات:

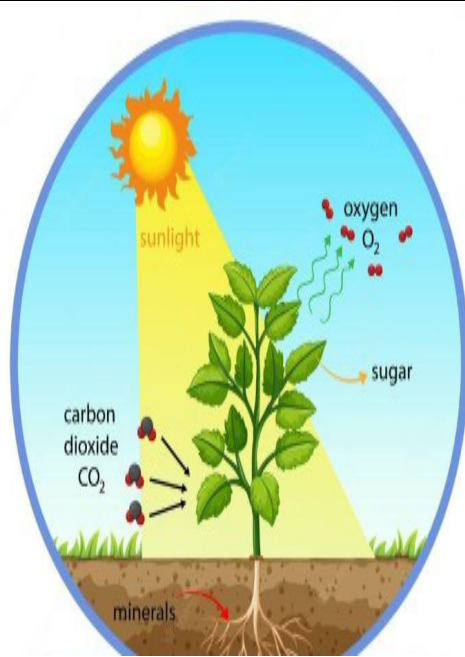
التمرين الثاني: 6ن

اكتب البيانات المرقمة مع تلوين مسار النسغ الناقص والكامل بلونين مختلفين



التمرين الثالث: 8ن

اثناء تناولك للغذاء مع اخيك الصغير وإذ به يسألك عن مصدر المذاق الحلو الموجود في البطيخ الأصفر(الشمام) وعن سبب تواجده في الشتاء بالرغم انه فاكهة موسمية صيفية



السند 3: بعض العمليات التي تتدخل في التغذية عند النبات الاخضر

السند 2: الشمام فاكهة صيفية تحتاج لنموها الى: تربة رملية وحرارة وتهوية وضاءة عالية

السند 1: تقنية البيوت البلاستيكية

باستعمال السندات والسياق ، واستغلال مكتسباتك أجب عن التعليمات:

(1) فسر كيف وصل المذاق الحلو إلى البطيخ الأصفر

.....
.....
.....
.....

(2) اشرح لأخيك سبب تواجد محصول البطيخ في غير موسمه

.....
.....
.....

(3) اذكر بغض السلوكيات الإيجابية للإنسان اتجاه النبات الاخضر

.....
.....

1ن للتنظيم
بالتوفيق