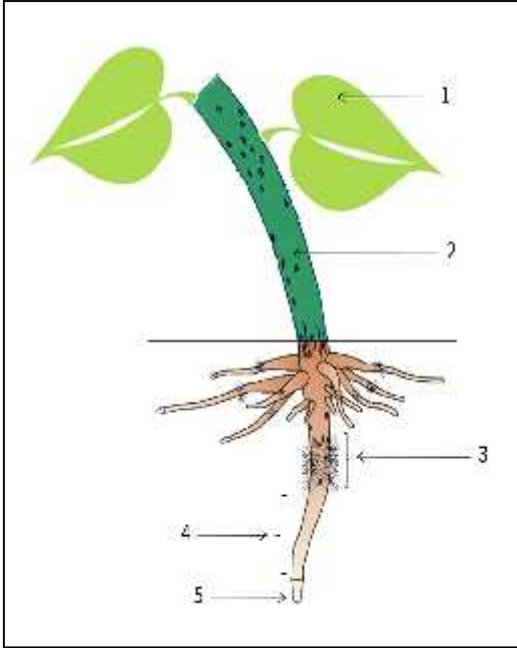


في مادة علوم الطبيعة والحياة

( 12 ) :



التمرين الأول 6 : الوثيقة المقابلة تمثل رسما تخطيطيا.

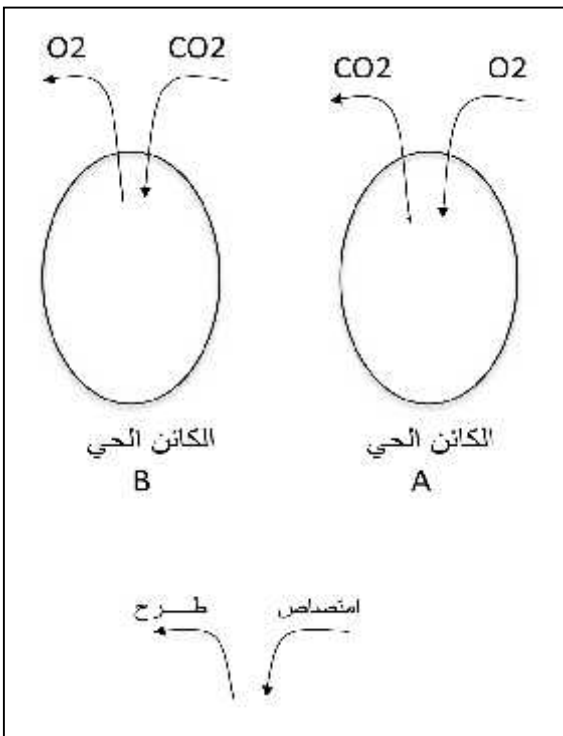
1 - اقترح عنوانا للوثيقة؟

2 طيات الوثيقة ثم أجب عما يلي:  
في الوثيقة.

(+)

الوثيقة	CO2	تركيب العضوية	تفتيت
1			( )
2			
3			
4			
5			

التمرين الثاني 6 :



الوثيقة تبين تمثيلا افتراضيا لكائنين حيين أحدهما يقوم بعملية التنفس والآخر بعملية التركيب.

1 الكائنين يمثل الحيوان وأيها يمثل النبات

2 بين التنفس والتركيب الضوئي

:


التركيب الضوئي	

3 تعريفا كاملا؟


4 - ما الهدف من التنفس؟

( ) 1/2


خلال زيارة أحد تلاميذ السنة الأولى متوسط لمعرض نظمته الكشافة الإسلامية أقيم خصيصاً كحملة تحسيسية ووقائية من بعض الأمراض الكثيرة ببلادنا ، تفاجأ هذا التلميذ داخل قاعة المعرض بصور كثيرة من بينها تلك المقترحة عليك .



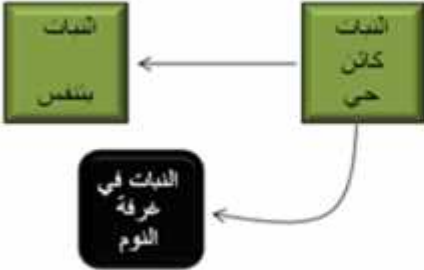
التدخين



الرياضة



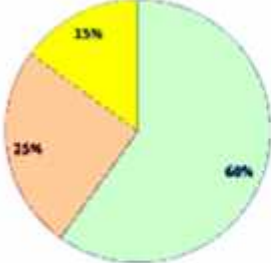
استنشاق دخان




التدخين  
كثير  
حي

التدخين  
بنفس

التدخين في  
غرفة  
الدوم



التغذية المتوازنة



ارتداء ثياب مجل

:

السياق و

التعليمات:

- 1 - ميّز في جدول من خانتين بين ات السوية وغير السوي
- 2 - ما هي الوظيفة الحيوية المرتبطة بهذه السلوكات .
- 3 جهاز الذي يؤمن هذه الوظيفة الحيوية؟

بالتوقيع ..... أستاذ المادة.