


الفرض المحروس الأول للفصل الأول في الرياضيات موضوع ①



الاسم واللقب:
قسم: سنة أولى رقم:

✓ ملاحظة: ممنوع استعمال الآلة الحاسبة

التمرين الأول: (9 نقاط)

1- أكمل الجدول

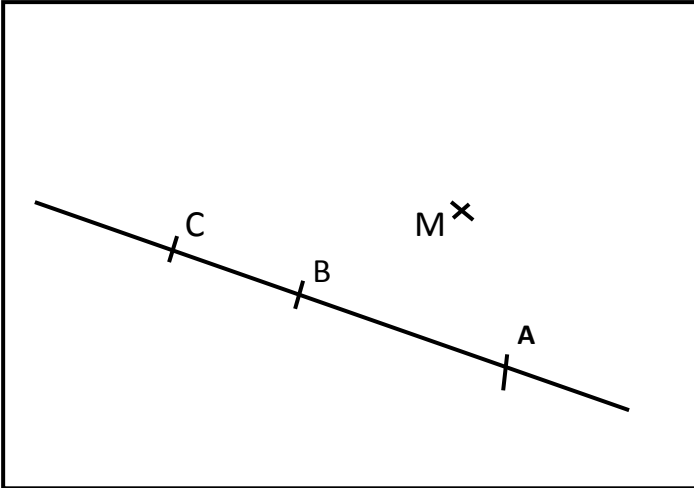
الكتابة العشرية	الكتابة الكسرية	الكتابة التفكيكية
18,56		
	$\frac{57}{100}$	
		$15 + \frac{7}{10} + \frac{6}{1000}$

2- ضع احد الرموز: < > =

15,2 15,20 | 16,04 16,7 | 25,12 25,100 | 10 10,01

التمرين الثاني: (7 نقاط)

- ارسم المستقيم (H) الذي يشمل C ويعامد (d)
- ارسم المستقيم (G) الذي يشمل M ويوازي (d)
- أنشئ الدائرة (C) التي مركزها M ونصف قطرها [MA]
- اكمل باستعمال الرموز التالية: \perp ، \parallel ، \in ، \notin



M	(d)	A	[AC]
A	[BC]	B	[AB]
C	[BA]	(H)	(G)
(AC)	(d)	B	[AC]

التمرين الثالث: (4 نقاط)


تضامنا مع الشعب الفلسطيني بعد القصف اليهودي قام الهلال الأحمر الجزائري بشراء معدات طبية

- 231 قارورة مطهر بثمان 25.12DA للقارورة الواحدة
- 100 علبة ضمادات بثمان 561,165DA للعلبة الواحدة
- ادوية مختلفة بثمان 54783,43DA

- 1- ما هو ثمن قارورات المطهر؟
- 2- ما هو ثمن علب الضمادات؟
- 3- اوجد رتبة مقدار ما اشتراه الهلال الأحمر الجزائري
- 4- احسب ثمن ما اشتراه الهلال الأحمر الجزائري

✓ ملاحظة: حل التمرين الثالث يكتب على ظهر الورقة (العمليات العمودية ضرورية)

الفرض المحروس الأول للفصل الأول في الرياضيات موضوع ②



الاسم واللقب:

قسم: سنة أولى رقم:

✓ ملاحظة: ممنوع استعمال الآلة الحاسبة

التمرين الأول: (9 نقاط)

1- أكمل الجدول

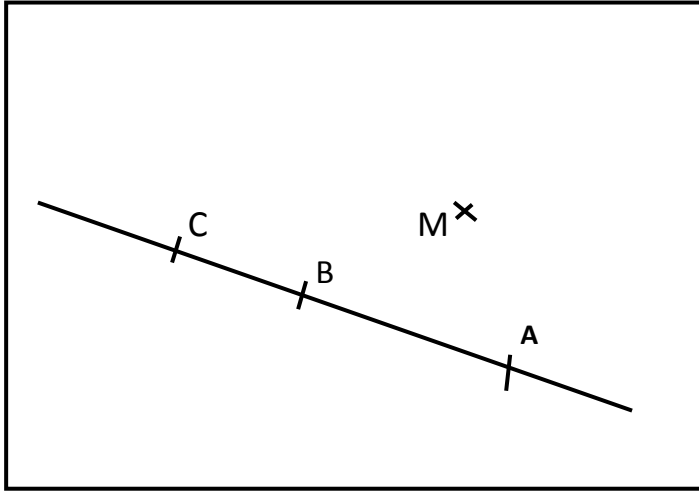
الكتابة العشرية	الكتابة الكسرية	الكتابة التفكيكية
65,98		
	$\frac{524}{1000}$	
		$78 + \frac{6}{100} + \frac{3}{1000}$

2- ضع احد الرموز: < > =

15 15,01 | 16,12 16,100 | 25,04 25,7 | 10,2 10,20

التمرين الثاني: (7 نقاط)

- ارسم المستقيم (H) الذي يشمل C ويعامد (d)
- ارسم المستقيم (G) الذي يشمل M ويوازي (d)
- أنشئ الدائرة (C) التي مركزها M ونصف قطرها [MA]
- اكمل باستعمال الرموز التالية: \perp ، // ، \notin ، \in



M	(d)	A	[AC]
A	[BC]	B	[AB]
C	[BA]	(H)	(G)
(AC)	(d)	B	[AC]

التمرين الثالث: (4 نقاط)

تضامنا مع الشعب الفلسطيني بعد القصف اليهودي قام الهلال الأحمر الجزائري بشراء معدات طبية

- 231 قارورة مطهر بثمان 25.12DA للقارورة الواحدة
- 100 علبة ضمادات بثمان 561,165DA للعلبة الواحدة
- ادوية مختلفة بثمان 54783,43DA

- 1- ما هو ثمن قارورات المطهر؟
- 2- ما هو ثمن علب الضمادات؟
- 3- اوجد رتبة مقدار ما اشتراه الهلال الأحمر الجزائري
- 4- احسب ثمن ما اشتراه الهلال الأحمر الجزائري

✓ ملاحظة: حل التمرين الثالث يكتب على ظهر الورقة (العمليات العمودية ضرورية)