

السنة الدراسية: 2022 - 2023

المستوى: أولى متوسط

المدة: 02 ساعة / المعامل: 02



مديرية التربية لولاية برج بوعريريج

متوسطة بلعربي بعبوش

— برج بوعريريج —

اختبار الثلاثي الثاني في مادة الرياضيات

التمرين الأول: 04 ن

1. انجز القسمة الاقليدية: $8 \div 128$ ثم اكتب المساواة الموافقة لها *
2. انجز القسمة العشرية للعدد 139 على 7
3. اكمل ماييلي:
4. 20 هو حاصل القسمة المقرب
.....
5. حاصل القسمة المقرب للعدد 139 على 7 هو 9,19
6. حاصل القسمة المقرب بالنقصان الى $\frac{1}{1000}$ للعدد 139 على 7 هو

التمرين الثاني: ضع علامة (X) في الخانة المناسبة : 03 ن

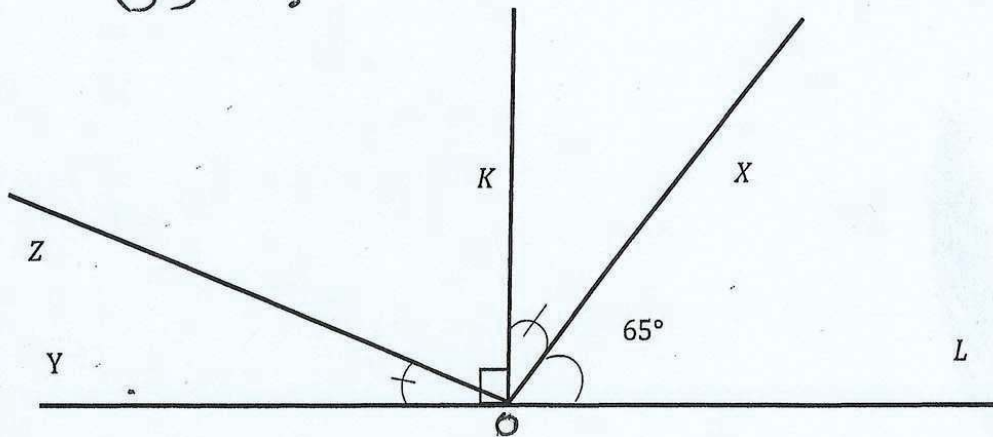
يقبل القسمة على					العدد
9	5	4	3	2	
					3182
					7964
					3600
					2187
					4005

التمرين الثالث: 03 ن

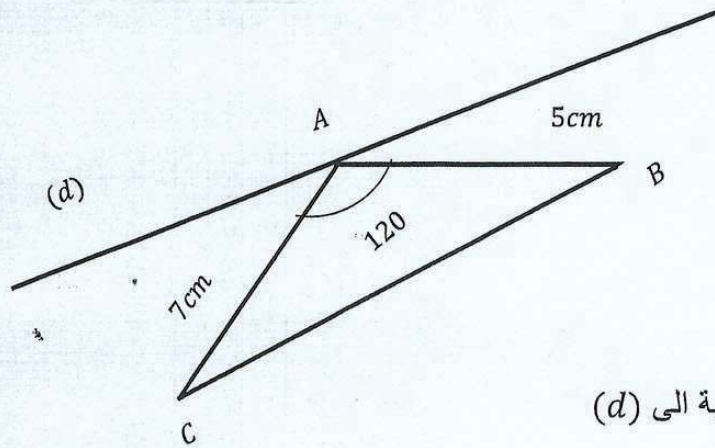
اليك الشكل: 1- أعد رسمه بالاقياس الحقيقية باستعمال الأدوات الهندسية:

2- احسب قيس الزاويتين: $K\hat{O}X$, $X\hat{O}Y$ مع ذكر نوعها.

3- ارسم نصف المستقيم (OM) منصف الزاوية $X\hat{O}L$. « يالمدون »



التمرين الرابع: إليك الشكل اعد رسمه بالأطوال الحقيقية: 04 ن



١- أنشئ نظير ABC بالنسبة الى (d)

٢- اكمل مايلي:

- نظيرة $[AB]$ بالنسبة الى (d) هي.....
 نظيرة..... بالنسبة الى.....
 قس الزاوية \widehat{BAC} هو..... لأنها.....
 المثلثان ABC و $A'B'C'$ فهما.....

الوضعية الادماجية: 06 ن

الشكل المقابل يمثل مخطط قطعة أرض لفلح يريد تهيئتها للغرس

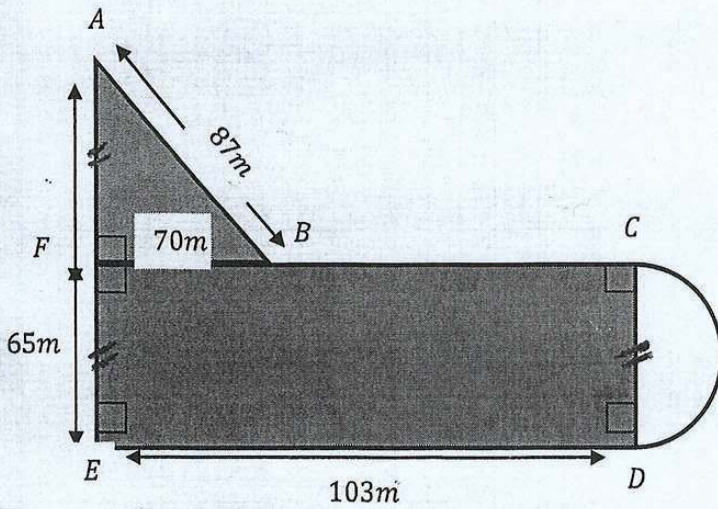
قام الفلاح بحرث الجزء الملون

١/ احسب S مساحة الارض المحروثة

٢/ احسب P محيط قطعة الأرض

التي يمتلكها الفلاح (كل الشكل)

علي أن : $FB = 70m$



بالتوفيق

الموقع الأول لتحضير الفروض والاختبارات في الجزائر

<https://www.dzexams.com>

https://www.dzexams.com/ar/0ap	القسم التحضيري
https://www.dzexams.com/ar/1ap	السنة الأولى ابتدائي
https://www.dzexams.com/ar/2ap	السنة الثانية ابتدائي
https://www.dzexams.com/ar/3ap	السنة الثالثة ابتدائي
https://www.dzexams.com/ar/4ap	السنة الرابعة ابتدائي
https://www.dzexams.com/ar/5ap	السنة الخامسة ابتدائي
https://www.dzexams.com/ar/bep	شهادة التعليم الابتدائي
https://www.dzexams.com/ar/1am	السنة الأولى متوسط
https://www.dzexams.com/ar/2am	السنة الثانية متوسط
https://www.dzexams.com/ar/3am	السنة الثالثة متوسط
https://www.dzexams.com/ar/4am	السنة الرابعة متوسط
https://www.dzexams.com/ar/bem	شهادة التعليم المتوسط
https://www.dzexams.com/ar/1as	السنة الأولى ثانوي
https://www.dzexams.com/ar/2as	السنة الثانية ثانوي
https://www.dzexams.com/ar/3as	السنة الثالثة ثانوي
https://www.dzexams.com/ar/bac	شهادة البكالوريا