

# الجمهورية الجزائرية الديمقراطية الشعبية

## وزارة التربية الوطنية

مديرية التربية لولاية الطارف

إختبار الثلاثي الأول

ثانوية: بوسنة عمار بن شابي. زريزر

الاستاذة: بوناصري نجوى

الشعبة: نهائي تسيير واقتصاد

2015 / 12 / 02

المدة : 02 ساعة

المادة : تاريخ و جغرافيا

التاريخ

الجزء الأول ( 06 نقاط )

السند: "...وتصاعد تأزم العلاقات بين الشرق والغرب لما تجاوز الفكر الشيوعي الستار الحديدي... وهو ما جعل الولايات المتحدة تسارع للالتزام بالتصدي للمد الشيوعي والنفوذ السوفييتي...، جاء ذلك على لسان الرئيس الأمريكي... والذي أعلن فيه عن سياسة أمريكية جديدة تجاه أوروبا عرفت «بمبدأ ترومان» وكان الرد السوفييتي إنشاء هيئة «الكومنفرم» kominform، في نفس السنة"

الكتاب المدرسي ص 18 .

المطلوب:

- 1- اشرح ما تحته خط في السند. (1.5 ن)
- 2- عرف بالشخصيات الآتية : جون كينيدي - ميخائيل غورباتشوف - جمال عبد الناصر - ونستون تشرشل. (02 ن)
- 3- أكمل جدول الأحداث بذكر التاريخ أو تاريخه : (1.5 ن)

التاريخ	الحدث
.....	مؤتمر يالطا
1947/03/12	.....
.....	تأسيس حركة عدم الإنحياز
1989/12/03	.....

- 4- علق على خريطة: أهم أزمات الحرب الباردة (1950-1962).

الجزء الثاني (04 نقاط)

هيمن نظام الثنائية القطبية على العالم خلال الفترة (1945-1989)، حيث انتهى بانهيان المعسكر الشيوعي وزوال الاتحاد السوفيياتي، فبقيت الولايات المتحدة الأمريكية كقطب واحد مسيطر ومهيمن عليه.

المطلوب : انطلاقا من العبارة واعتمادا على ما درست أكتب مقالا تاريخيا تبين فيه :

- 1- عوامل تفكك المعسكر الشيوعي.
- 2- أهداف النظام الدولي الجديد وانعكاساته على دول العالم الثالث .

## الجغرافيا

### الجزء الأول (06 نقاط)

#### السند:

... ففي الجانب الزراعي تحقق دول الشمال إنتاجا ضخما رغم ضعف نسبة السكان، وبالمقابل نجد دول الجنوب.... لا تحقق الاكتفاء الذاتي... أما في الجوانب التجارية فترتبط دول الشمال ودول الجنوب بعلاقات غير متكافئة... وقد تراكمت لدى بنوك دول الشمال أرصدة مالية مهمة خاصة بعد أزمة البترول سنة 1973م، وتم إستثمارها بتقديم قروض لدول الجنوب...

مجلة جامعة دمشق-المجلد 27-العدد الأول+الثاني 2011 مصطفى محمد علي / ص 417

(02ن)

1- حدد مفهوم المصطلحات التي تحتها خط في السند.

2- إليك جدولاً لأكبر الدول المصدرة للقمح في العالم :

الدولة	تقديرات الموسم (2013-2014)	توقعات الموسم (2014-2015)
أمريكا	27	26.6
الإتحاد الأوروبي	30,4	25.5
كندا	21.9	22.6
استراليا	18.3	18.9
روسيا	18,6	17.2
أوكرانيا	9.5	8.2
كازاخستان	8.2	7.5
الأرجنتين	1.3	6.3
باقي دول العالم	17	11.4

التقرير الشهري لمجلس الحبوب الدولي: يونيو 2014

الوحدة=مليون طن

(0.5 ن)

❖ أذكر التمثيل البياني المناسب لهذا الجدول.

(1.5 ن)

3- علق على الجدول "الموسم (2013-2014)"

(02 ن)

4- على خريطة العالم الصماء وقع أسماء الدول الواردة في الجدول.

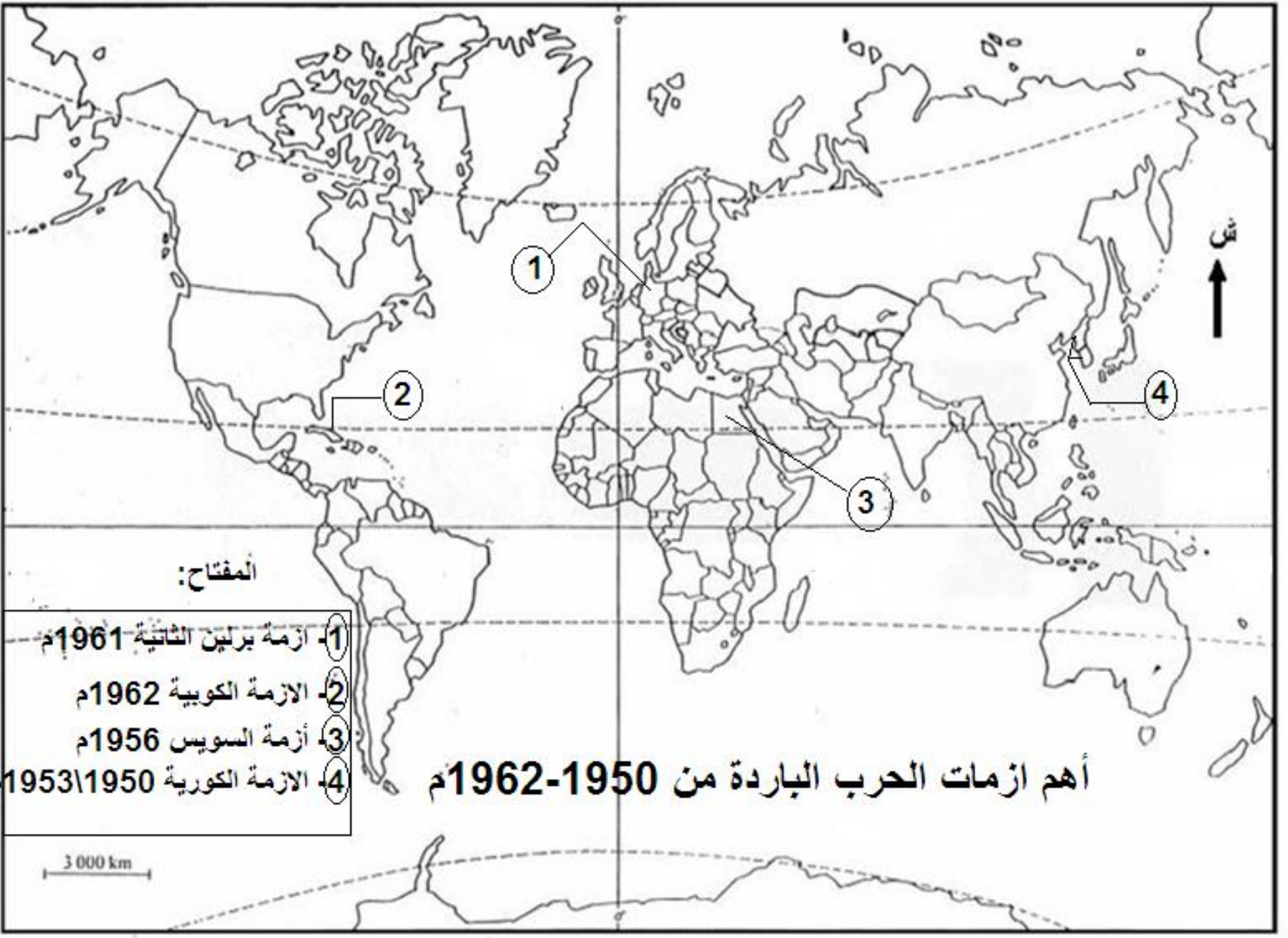
### الجزء الثاني(04 نقاط)

شهد النصف الثاني من العام 2014 والعام 2015 تخمة من البترول الخام المعروض في الأسواق، وهو ما أدى إلي تراجع أسعار النفط بشكل كبير خلال العام 2015، ما اثار بشدة على ميزانيات الدول ذات الإقتصاد المعتمد على مداخل البترول.

المطلوب : انطلاقاً من الفقرة واعتماداً على ما درست أكتب مقالا جغرافيا تبين فيه :

1- العوامل المتحركة في أسعار البترول .

2- أثر انخفاض أسعار البترول على الدول التي يعتمد اقتصادها على مداخل البترول .

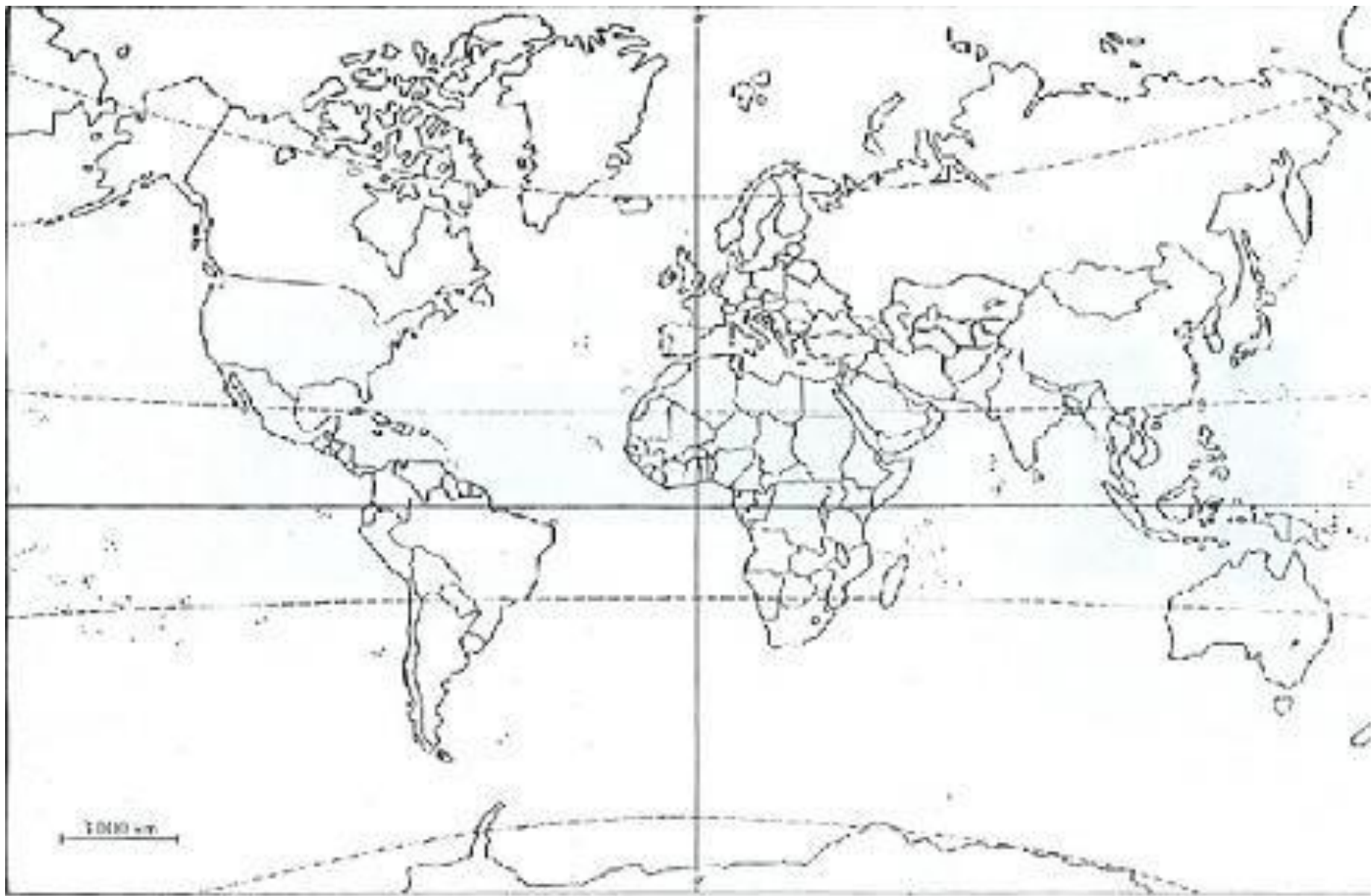


المفتاح:

- 1- أزمة برلين الثانية 1961م
- 2- الأزمة الكويتية 1962م
- 3- أزمة السويس 1956م
- 4- الأزمة الكورية 1950\1953م

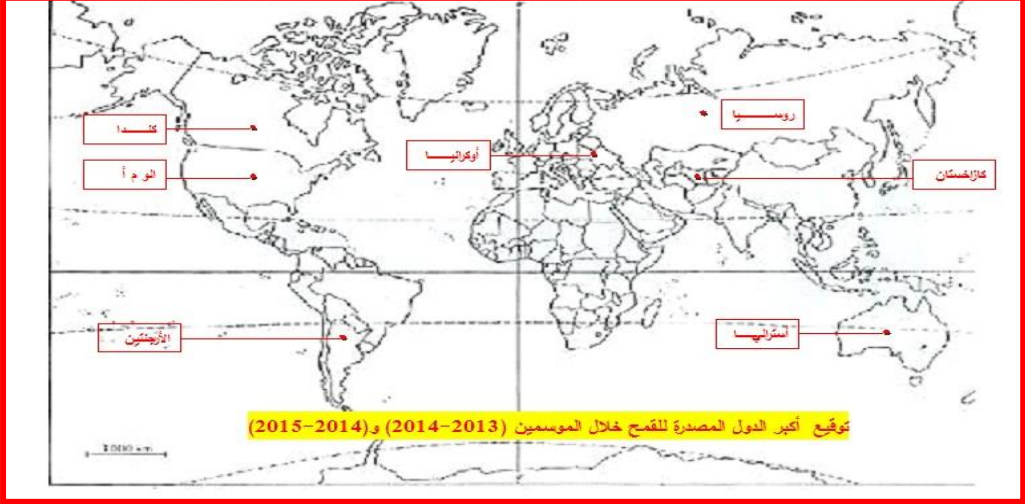
أهم أزمات الحرب الباردة من 1950-1962م

3 000 km





الجغرافيا

02	0.50 0.50 0.50 0.50	<p>لا تحقق الإكتفاء الذاتي: غير قادرة على توفير حاجيات المواطنين في جميع المجالات. علاقات غير متكافئة: علاقات غير متوازنة ومتساوية في المبادلات التجارية حيث تكون لصالح دول الشمال على حساب دول الجنوب. أرصدة مالية: الأموال المودعة في المصارف والبنوك. استثمارها: توظيفها في مشاريع متنوعة.</p>	المصطلحات
02	0.50 0.50 0.50 0.50	<p>التمثيل البياني المناسب هو : أعمدة بيانية للخانتين في معلم واحد. التعليق: ✓ تباين في كمية القمح المصدر و تختلف من دولة إلى أخرى ، يحتل الاتحاد الأوروبي المرتبة الأولى خلال الموسم (2013-2014) بكمية تقدر بـ 30.4 م طن، والثانية الو م أ بـ 27 م طن، والثالثة كندا بـ 21.9.... أما بقية العالم فقدت الكمية بـ 17 م طن. ✓ سيطرة الدول المتقدمة في تصدير القمح(السلح الأخضر) وتبعية الدول المتخلفة لها ، وهذا راجع لاتمامها بالجانب الزراعي واستعمال الطرق الحديثة في الزراعة (المكننة واستعمال الأسمدة....) ✓ بإمكان دول العالم الثالث التابعة غذائيا للدول المتقدمة باستغلال إمكانياتها الطبيعية (خصوبة التربة واتساع المساحة)، وإدخال التطور التكنولوجي في اللحاق بركب الدول المتقدمة في هذا المجال .</p>	التمثيل البياني المناسب والتعليق
02	0.25 6X 0.50		التوقع على الخريطة
04	0.50 0.25 X 6 0.25 X 6 0.5	<p><b>المقدمة:</b> البترول وتأثير انخفاض أسعاره على الدول التي تعتمد في اقتصادها على مداخل البترول.. <b>العرض:</b> العوامل المتحكمة في تحديد سعر البترول العرض والطلب . إنتاج الدول الأعضاء في الأوبك. الأوضاع الطبيعية والتقلبات المناخية. وجود البدائل كظهور الغاز الصخري . استقرار أو عدم استقرار الأوضاع الاقتصادية والسياسية والأمنية ارتفاع أو تراجع المخزون الاحتياطي لدى الدول الأكثر استيرادا أثر انخفاض أسعار البترول تراجع الصادرات وبالتالي حدوث عجز في الميزان التجاري. تردي الأوضاع الاقتصادية والاجتماعية. إفلاس خزينة الدولة وانخفاض سعر العملة. التضخم. فرض الضرائب ورفع الدعم عن بعض السلع الخدمية والاستهلاكية. ارتفاع أسعار المواد الاستهلاكية وخصوصا الغذائية. <b>الخلاصة:</b> ضرورة الاعتماد على مصادر أخرى في تطوير اقتصاديات الدول المعتمدة على البترول والتوجه نحو الزراعة، الصناعة، السياحة....</p>	كتابة المقال