

الاسم واللقب: .....	<b>الفرض الأول في المعلوماتية</b> <b>2021 / 2020</b>	متوسطة لوالي عبد القادر- تاوقريت -
القسم: .....		المدة : 45 دقيقة

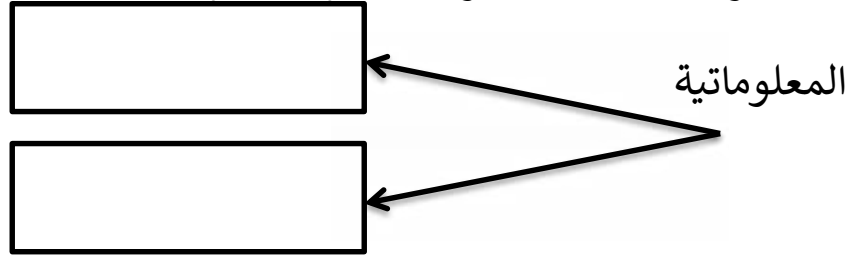
المستوى: السنة أولى متوسط

الوضعية الأولى ( 05 نقاط )

1/ أعط تعريفا للمعلوماتية ( 01 ن )

المعلوماتية هي : .....

2/ ما هو أصل كلمة المعلوماتية : ( 02 ن )



3/ - صحح العبارتين : ( 02 ن )

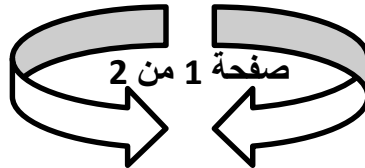
\* / الحاسوب هو علم يسمح بمعالجة المعلومات بطريقة آلية

\* / البرمجيات هي كل ما يمكن لمسه

الوضعية الثانية ( 05 ن ) - صنف المكونات التالية حسب الجدول الموالي:

الشاشة - مخزن الطاقة - الوحدة المركزية - الطابعة - القرص المرن - القرص الصلب - لوحة المفاتيح - الفأرة - قرص الفلاش - الكاميرا الرقمية

مكونات ثانوية	مكونات أساسية



اقلب الصفحة

الوضعية الثالثة: ( 05 ن ) أجب بـ " صحيح " أو " خطأ " فما يلي مع تصحيح الخطأ :

/\* لوحة المفاتيح من المكونات الثانوية للحاسوب. ( )

/\* المكونات الثانوية للحاسوب هي المكونات التي لا يمكننا الاستغناء عنها. ( )

/\* العتاد هو كل ما لا يمكن لمسها. ( )

/\* الوحدة المركزية من المكونات الأساسية للحاسوب. ( )

/\* الحاسوب جهاز يعالج المعلومات. ( )

الوضعية الرابعة: ( 05 ن ) اربط بسهم بين كل مصطلح بترجمته :

Processeur

- المعالج

Scanner

- مكبر الصوت

Haut-parleur

- الماسح الضوئي

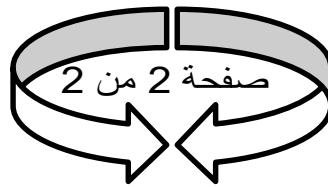
Ecran

- الشاشة

Onduleur

- مخزن الطاقة

**\*\* موفقون جميعا \*\***



الأستاذ حوالي مراد  
مادة المعلوماتية

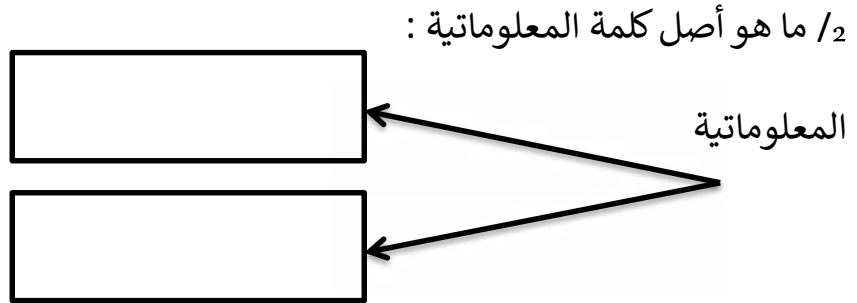
الاسم واللقب: .....	<b>الفرض الأول في المعلوماتية</b> <b>2021 / 2020</b>	متوسطة لوالي عبد القادر- تاوقريت -
القسم: .....		المدة : 45 دقيقة

المستوى: السنة أولى متوسط

الوضعية الأولى ( 05 ن )

1/ أعط تعريفا للحاسوب

..... الحاسوب هو :  
.....



3- صحح العبارتين : ( 02 ن )

\*/ المعلوماتية هي علم يسمح بمعالجة المعلومات بطريقة آلية

\*/ العتاد هو كل ما لا يمكن لمسه

الوضعية الثانية : ( 05 ن ) أجب بـ " صحيح " أو " خطأ " فما يلي مع تصحيح الخطأ :

\*/ الحاسوب هو علم يسمح بمعالجة المعلومات بطريقة آلية ( )

\*/ المكونات الأساسية للحاسوب هي المكونات التي يمكننا الاستغناء عنها ( )

\*/ البرمجيات هي كل يمكن لمسه ( )

\*/ القرص الصلب مهمته حفظ و تخزين المعلومات ( )

\*/ الوحدة المركزية من المكونات الأساسية للحاسوب ( )

- صنف المكونات التالية حسب الجدول الموالي:

الشاشة - مخزن الطاقة - الوحدة المركزية - الطابعة - القرص المرن - القرص الصلب - لوحة

المفاتيح - الفأرة - قرص الفلاش - الكاميرا الرقمية

مكونات ثانوية	مكونات أساسية

الوضعية الثالثة : ( 05 ن ) اربط بسهم بين كل مصطلح بترجمته :

Processeur	- المعالج
Scanner	- مكبر الصوت
Haut-parleur	- الماسح الضوئي
Ecran	- الشاشة
Onduleur	- مخزن الطاقة



الأستاذ حوالي مراد  
مادة المعلوماتية