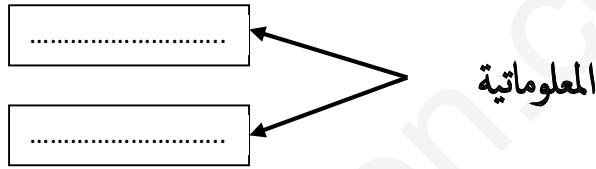


الجزء الأول: (12 نقطة)**التمرين الأول: (06 نقطة)**

1) أعط تعريفا للحاسوب؟

الحاسوب: هو

2) ما هو أصل كلمة المعلوماتية؟



3) أكمل نموذج عمل الحاسوب:



التمرين الثاني: (06 نقطة) -صنف الوحدات التالية في الجدول أدناه: (لوحة المفاتيح، مكبرات الصوت

، الشاشة، الفأرة، القرص الصلب، الطابعة، المعالج، الماسح الضوئي).

وحدات الادخال	وحدات الإخراج	وحدات التخزين والمعالجة
.....
.....
.....


الوضعية الإدماجية:

إشترى والدك حاسوباً جديداً وبعد تركيبه لم يعرف طريقة استخدامه فطلب منك المساعدة، وحينها طرح عليك الأسئلة التالية:

(1) ماهي خطوات تشغيل الحاسوب؟

أ-
ب-

ج-

(2) عند تشغيل الحاسوب ظهر على الشاشة شعار نظام التشغيل التالي .


أ-ما اسم نظام التشغيل الذي ظهر على الشاشة؟


ب-أعط تعريفاً لنظام التشغيل؟

نظام التشغيل: هو

(3) بعد ظهور واجهة نظام التشغيل شاهدت بعض الرموز على سطح المكتب.

أ- ماذا تسمى هذه الرموز؟

ب- سمِّ نوع كل رمز في الجدول المقابل؟

 Ordinateur	 FICHE_INSCRIP...	 Corbeille	 Word 2013
.....