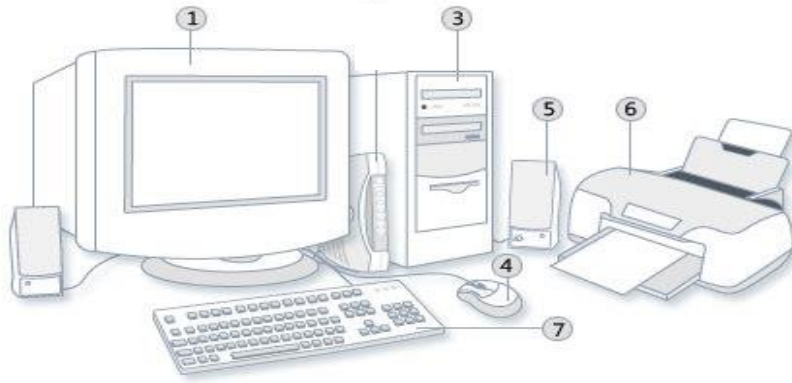


### التمرين الأول: 6ن

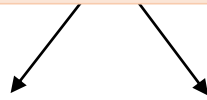
ماذا تمثل العناصر المرقمة؟  
- اذكر دورها.



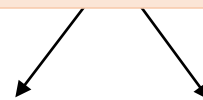
- 1 ← دوره (ها) -----  
3 ← دوره (ها) -----  
4 ← دوره (ها) -----  
5 ← دوره (ها) -----  
6 ← دوره (ها) -----  
7 ← دوره (ها) -----

### التمرين الثاني: 6ن

Informatique



معلوماتية



أ / أكمل:

ب/ ماذا يلزم الحاسوب كي يشتغل؟

### التمرين الثالث: 8ن

أ/ مراحل إيقاف الحاسوب هي:

- 1  
-----3  
ب/ مراحل الدخول الى برنامج الحاسبة هي:  
-----1  
-----3
- 2  
-----4  
-----2  
-----4