



ECOLE SALIM



الجمهورية الجزائرية الديمقراطية الشعبية

وزارة التربية الوطنية

مؤسسة التربية والتعليم الخاصة سليم

ETABLISSEMENT PRIVE D'EDUCATION ET D'ENSEIGNEMENT SALIM

www.ets-salim.com 021 85 62 04 021 87 16 89 Hai Galloul - bordj el-bahri alger

رخصة فتح رقم 1088 بتاريخ 30 جانفي 2011

تحتصري- ابتدائي- متوسط - ثانوي

اعتماد رقم 67 بتاريخ 06 سبتمبر 2010

فيفري : 2018

فرض الفصل الثاني في مادتي التاريخ و الجغرافيا المستوى: الأولى متوسط 1AM

أولاً: تاريخ

1- إربط بسهم ما يناسب : (3 ن)

البعيدون عن الحضارة اللاتينية	الأمازيغ
الرجال الأحرار	اللوبيون
استوطنوا المناطق الواقعة غرب مصر	البربر

2- إملأ الفراغات بالعبارات المناسبة : (2 ن)

الأودية - أزمنة قديمة جدا - السهول - آثاره - المسطحات المائية العذبة - عين الحنش

يعود تواجد الإنسان في شمال إفريقيا إلى حيث أنه استقر
حول و، و قد أوضحت
..... التي كانت شاهدة على ذلك وجود مناطق ك.....

3- إشرح كيف كانت علاقة سكان شمال إفريقيا مع الفينيقيين : (2 ن)

.....
.....
.....

4 - رتب العبارات التالية بالأرقام (1.2.3) حسب التنظيم الاجتماعي لسكان شمال إفريقيا : (3 ن)

- العشيرة هي مجموعة من العائلات المنحدرة من جد واحد
- القبيلة هي مجموعة من العشائر
- الأسرة هي مجموعة من الأفراد تربط بينهم روابط متينة

حي قعلول - برج البحري - الجزائر

ثانيا : جغرافيا

1- أجب بصحيح أو خطأ (3ن)

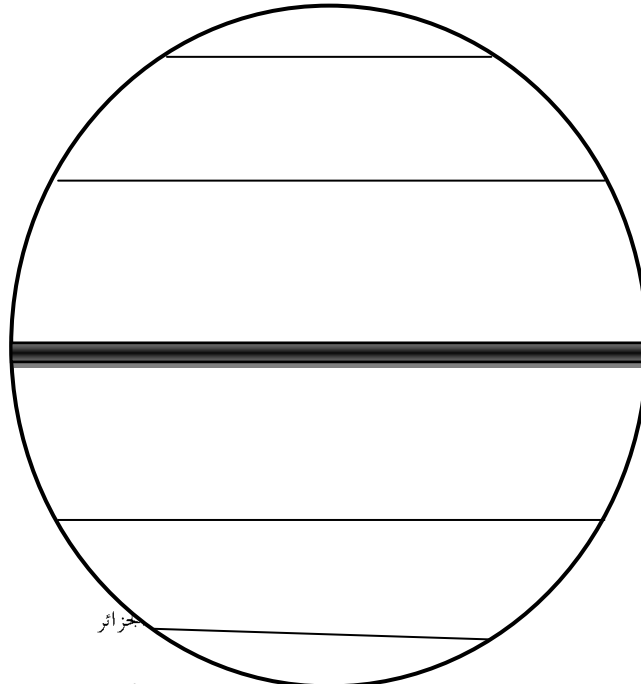
- السهول هي مساحات مرتفعة عن سطح الأرض
- الجبال هي تضاريس منبسطة لا تزيد عن 400 م
- السهول الساحلية هي السهول التي تمتد على سواحل البحار والمحيطات

2- اربط كل منطقة بما يميزها : (3 ن)

المنطقة المعتدلة	-الغابات الإستوائية
المنطقة الحارة	- ارتفاع درجات الحرارة
المنطقة الباردة	-ظاهرة الفصول الأربعة
	- تتساقط أمطارها شتاءا
	- انخفاض شديد في درجات الحرارة
	- غابات التايغا

3- حدد البيئات الجغرافية على الكرة الأرضية مع تلوين كل بيئة بما يناسبها : (4 ن)

- البيئة الباردة باللون الأزرق
- البيئة الحارة باللون الأحمر
- البيئة المعتدلة باللون الأخضر

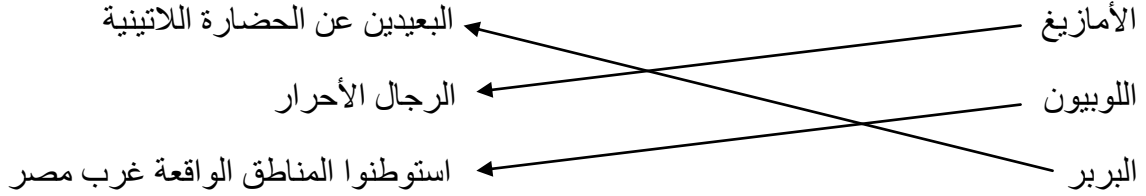


جزائر

تصحيح فرض الثلاثي الثاني في مادة الاجتماعيات

أولاً: تاريخ

1- إربط بسهم ما يناسب : (3ن)



2- إملأ الفراغات بالعبارات المناسبة : (2 ن)

يعود تواجد الإنسان في شمال إفريقيا إلى أزمنة موعلة في القدم حيث أنه استقر حول الأودية و المسطحات المائية العذبة و السهول ، و قد أوضحت آثاره التي كانت شاهدة على ذلك وجود مناطق ك عين الحنش

3- إشرح كيف كانت علاقة سكان شمال إفريقيا مع الفينيقيين : (2 ن)

استقر الفينيقيون في سواحل شمال إفريقيا ، و أسسوا مدينة قرطاج سنة 814 ق.م ، و أقاموا مع سكانها علاقات متميزة مبنية على التعاون عن طريق الزواج ، و المبادلات التجارية

4 - رتب العبارات التالية بالأرقام (1.2.3) حسب التنظيم الاجتماعي لسكان شمال إفريقيا : (3 ن)

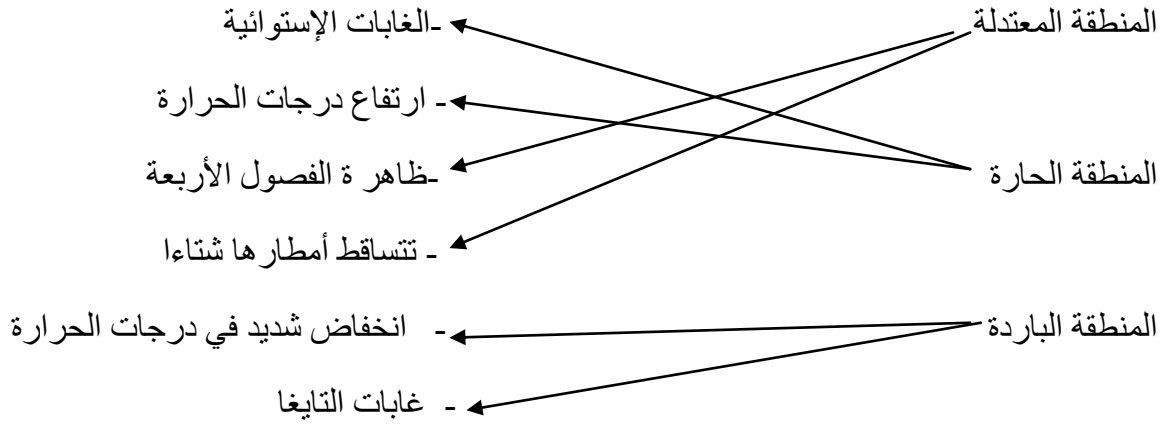
- العشيرة هي مجموعة من العائلات المنحدرة من جد واحد(2)
- القبيلة هي مجموعة من العشائر (3)
- الأسرة هي مجموعة من الأفراد تربط بينهم روابط متينة (1)

ثانياً : جغرافيا

1- أجب بصحيح أو خطأ (3 ن)

- السهول هي مساحات مرتفعة عن سطح الأرض (خطأ)
- الجبال هي تضاريس منبسطة لا تزيد عن 400 م (خطأ)
- السهول الساحلية هي السهول التي تمتد على سواحل البحار والمحيطات (صحيح)

2- اربط كل منطقة بما يميزها : (3 ن)



3- حدد البيئات الجغرافية على الكرة الأرضية مع تلوين كل بيئة بما يناسبها : (4 ن)

-البيئة الباردة باللون الأزرق

-البيئة الحارة باللون الأحمر

البيئة المعتدلة باللون الأخضر

