



الجمهورية الجزائرية الديمقراطية الشعبية

وزارة التربية الوطنية

مؤسسة التربية و التعليم الخاصة سليم

ETABLISSEMENT PRIVE D'EDUCATION ET D'ENSEIGNEMENT SALIM



www.ets-salim.com



021 87 10 51



021 87 16 89



Hai Galloul - bordj el-bahri alger

رخصة فتح رقم 1088 بتاريخ 30 جانفي 2011

تخصيري - ابتدائي - متوسط - ثانوي

إعتماد رقم 67 بتاريخ 06 سبتمبر 2010

مارس 2014

(المستوى: الأولى متوسط (1AM))

المدة: 01 سا 30

اختبار الفصل الثاني في ماوة التاريخ والجغرافيا

الجزء الأول التاريخ

السؤال الأول

1 - اربط بسهم كل حضارة بموطنها حاليا.5 ن

تونس	حضارة اليونان
ايطاليا	حضارة الرومان
اليمن	حضارة قرطاجة
اليونان	حضارة سبأ
العراق	بلاد الرافدين

2- املأ الجدول التالي3ن

التنظيم الاجتماعي	الحضارة
-	المصرية
-	
-	
-	اليونانية
-	
-	

الصفحة 2/1

حي قعلول - برج البحري - الجزائر

Web site : www.ets-salim.com /021.87.16.89 : -الفاكس : 021.87.10.51 : ☎

الوضعية الإدماجية 4ن

دار حوار بينك وبين زميلك حول الأوضاع الاقتصادية في العصر القديم

السند 1

كان اهتمام المصريين بالزراعة كبيرا إذ عملوا على تجفيف المستنقعات وتوفير الوسائل و الأدوات اللازمة للحث و الحصاد كما استعملوا مياه النيل في السقي.
الكتاب المدرسي

السند 2



التعليمة

انطلاقا من السندات و معرفتك القبلية اكتب فقرة من 10 اسطر تحدد فيها الأوضاع الاقتصادية عند الحضارات في العصر القديم.


الجزء الثاني جغرافيا

السؤال الأول 4ن

- 1- حدد الأقاليم المناخية للمنطقة الحارة ؟
- 2- حدد الأقاليم المناخية للمنطقة المعتدلة ؟

السؤال الثاني 3ن

أكمل ما يلي




بالتوفيق

الصفحة 2/2

النطاقات المناخية

حي فقلول - برج البحري - الجزائر



الجمهورية الجزائرية الديمقراطية الشعبية

وزارة التربية الوطنية

مؤسسة التربية و التعليم الخاصة سليم

ETABLISSEMENT PRIVE D'EDUCATION ET D'ENSEIGNEMENT SALIM

www.ets-salim.com 021 87 10 51 021 87 16 89 Hai Galloul - bordj el-bahri alger

رخصة فتح رقم 1088 بتاريخ 30 جانفي 2011

فخصري- ابتدائي- متوسط - ثانوي

إعتماد رقم 67 بتاريخ 06 سبتمبر 2010

مارس 2014

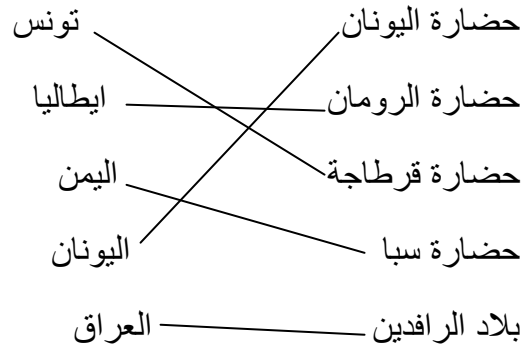
(المستوى: الأولى متوسط (1AM))

تصحيح اختبار الفصل الثاني في مادة التاريخ والجغرافيا

الجزء الأول التاريخ

الجواب الأول

1- نربط بسهم كل حضارة بموطنها حاليا. 5 ن



2- املأ الجدول التالي 3ن

التنظيم الاجتماعي	الحضارة
- طبقة الحكام - طبقة الحرفيين و الفلاحين - طبقة العبيد	المصرية
- طبقة الأحرار - طبقة العبيد - طبقة الأجانب	اليونانية

الوضعية الإدماجية 4ن

المعايير	المؤشرات	جزئي	ادني	كلي
الملائمة مع الوضعية	كتابة فقرة	0.25	0.5	0.5
الاستعمال الصحيح للمناهج و أدوات المدة	كتابة فقرة من 10 اسطر تدور حول الأوضاع الاقتصادية في العصر القديم	0.5	01	02
استعمال المادة	احترام المنهج الترتيب المنطقي	0.25	0.5	01
الإتقان	الوضوح. المقروءة. التشطيب	00	0.5	0.5

الجزء الثاني جغرافيا

السؤال الأول 4ن

1 - الأقاليم المناخية للمنطقة الحارة هي

المناخ الاستوائي

المناخ الصحراوي

المداري و الموسمي

2 - الأقاليم المناخية للمنطقة المعتدلة

المناخ الصيني

مناخ البحر الأبيض المتوسط

المناخ القاري

المحيطي

السؤال الثاني 3ن

أكمل ما يلي



حي فقلول - برج البحري - الجزائر