

## اختبار البكالوريا التجريبي في مادة التاريخ والجغرافيا

المدّة : 3 ساعات

(دورة ماي 2018)

الأستاذ : سعداوي علاء الدين .

### الموضوع الأول

#### التاريخ :

#### الجزء الأول (06 نقاط)

السند : " . . . إن إتيال العلاقات الدولية من الصراع الإيديولوجي الى التعايش السلمي لم يكن سهلا . . . وقطعت هذه العلاقات الدولية عدة مراحل فكانت المرحلة الأولى لبداية التعايش السلمي من 1953 الى 1963 والمرحلة الثانية وصفت بالانفراج الدولي من 1963 الى 1969 م أما المرحلة الثالثة فكانت التعايش والاتفاق من 1969 الى 1985 لينتهي التعايش بالبروسترويكا من 1985 الى 1989 لتفتح المجال امام امام مرحلة العولمة بعدها"

محمد مندور ، مبادئ في العلاقات الدولية من النظريات الى العولمة

1/ اشرح ما تحته خط في السند .

2/ عرف الشخصيات التالية : المهاتما غاندي - محمد الصديق بن يحيى - جاك سوسنل

3/ أكمل الجدول التالي :

1947 / 11 / 29	.....
.....	أحداث ساقية سيدي يوسف
1989 / 12 / 04-03	.....

#### الجزء الثاني ( 04 نقاط )

( إن مشكل الساعة هو الدولة والأساس هو أن تقوم على مؤسسات ديمقراطية صحيحة وقوية ، والدولة ستكون خادما للشعب لا شرطيا عليه )

تصريح بن يوسف بن خدة سنة 1962 .

المطلوب : انطلاقا من السند واعتمادا على ما درست أكتب مقالا تاريخيا تبرز فيه :

1-ظروف قيام الدولة الجزائرية .

-مبادئ السياسة الخارجية للجزائر .

## الجغرافيا

### الجزء الأول ( 06 نقاط )

السند : ... تشكل الاستثمارات المباشرة رأسمال ناتج عن المضاربة ، وترتبط أساسا ببعض المراكز المالية على المستوى العالمي : نيويورك ، طوكيو لندن ، باريس وهي مترابطة ومتكاملة تشغل بشكل مستمر وتستقبل البورصات الكبيرة أموال المستثمرين المؤسسين كالبنتوك وصناديق الضمان الاجتماعي والشركات المتعددة الجنسيات .. " الكتاب المدرسي سنة ثالثة ثانوي ص 33 .

- 1- اشرح المصطلحات التي تحتها خط في السند .
- 2- إليك الجدول التالي يمثل صادرات وواردات بعض دول منطقة شرق وجنوب شرق آسيا سنة 2013 بالمليار دولار .

البلد	الصين	اليابان	كوريا الجنوبية	تايوان	ماليزيا	أندونيسيا
الصادرات	762	284	257	197	140	37
الواردات	660	261	219	182	114	38

- المطلوب : - علق على معطيات الجدول .  
- مثل الدول الواردة في الجدول على الخريطة .

### الجزء الثاني ( 04 نقاط )

يعتبر القمح الغذاء الأساسي لكثير من شعوب العالم ، مما جعل توفيره ضرورة ملحة لتحقيق الأمن الغذائي والاستقرار السياسي .  
المطلوب : على ضوء ما درست أكتب مال جغرافيا تجيب فيه على :

- 1- أهمية القمح كمادة استراتيجية
- 2- العوامل المتحكمة في التجارة الدولية للقمح .

## الموضوع الثاني

### التاريخ

#### الجزء الأول .

السند : الحقيقة ان الاتصالات السرية بين الحكومة الفرنسية وجبهة التحرير الوطني تعود ال سنة 1956 وكان الهدف منها جس النبض ، وجر الفرنسيين الى قبول وقف اطلاق النار . ولكن اختطاف طائفة زعماء الثورة أوقف هذ الاتصالات ، لتجدد المفاوضات الجزائرية الفرنسية بمدينة مولان برئاسة محمد الصديق بن يحيي . . " المختصر في تاريخ الجزائر . د / صالح فركوس ص 277 .

1- اشرح ما تحته خط في السند .

2- عرف الشخصيات التالية : رونالد ريغن - جوزيف ستالين - فيدال كاسترو .

3- على خريطة الجزائر المرفقة أنسب الأحداث التالية الى الولايات التاريخية التي وقعت فيها :

\* اجتماع لجنة الستة \* أحداث 20 أوت 1955 \* مؤتمر الصومام 1956 \* التفجير النووي سنة 1960

#### الجزء الثاني :

ركزت الولايات المتحدة الأمريكية بعد تفكك المعسكر الشيوعي على توسيع سيطرتها بفرض هيمنتها السياسية والاقتصادية والعسكرية على العالم وذلك بتوظيف مؤسسات ووسائل وفق متطلبات استراتيجيتها .

#### المطلوب :

انطلاقا من العبارة واعتمادا على ما درست أكتب مقالا تاريخيا تبرز فيه .

1- ملامح النظام الدولي الجديد .

2- انعكاسات الأحادية القطبية على العالم الثالث .

## الجغرافيا

### الجزء الأول (06 نقاط )

السند : "... يضم الاتحاد الأوروبي أكثر من 455 مليون نسمة والذي توحدت فيه 27 دولة مشكلة فضاء اقتصاديا مقبلا على الاندماج وفق شروط أولها الانتماء الى القارة الأوروبية ، والتسيير بواسطة مؤسسات ديمقراطية للوصول الى مستوى نمو اقتصادي ملائم ... " الكتاب المدرسي ص 65 .

1- اشرح المصطلحات المسطر عليها .

2- اليك الجدول التالي يمثل نسبة المبادلات التجارية للجزائر سنة 2010 .

مناطق التبادل التجاري	المغرب العربي	افريقيا	اوروبا	بقية العالم
الصادرات	%0.8	% 0.9	%59.9	38.4%
الواردات	%0.6	%1.3	%69.2	% 28.9

المطلوب :

- حول معطيات الجدول الى دائرتين نسبيتين ( نصف القطر 3 سم ) .

- علق على معطيات الجدول .

### الجزء الثاني (04 نقاط )

تمتلك الولايات المتحدة الامريكية مجالا جغرافيا شاسعا وزاخرا بالموارد الطبيعية ، إلا أنها تواجه صعوبات في تناقص مخزونها فتظطر الى استيراد كميات هائلة لتغطية حاجياتها .

المطلوب : انطلاقا من المقولة أعلاه ومما درست اكتب مقالا جغرافيا تبرز فيه :

1- الدعائم الطبيعية لقوة الاقتصاد الأمريكي .

2- المشاكل الاقتصادية التي يعاني منها الاقتصاد الأمريكي .

التصحيح النموذجي للامتحان التجريبي في مادة التاريخ والجغرافيا (دورة ماي 2018)

الإجابة النموذجية (الموضوع الأول)

التنقيط

الجزء الأول ( التاريخ 06 نقاط )

1- شرح ما تحته خط :

س1  
ن2.25

- التعايش السلمي : - هو مصطلح سياسي يقصد به إبعاد شبح الحرب الساخنة كوسيلة لتسوية الخلافات الدولية وحلها بالطرق السلمية و الحوار مع القبول بازدواجية النظام الدولي في ظل التعايش و تبادل المصالح والمنافع خاصة في الفترة الممتدة ما بين 1956 - 1977 .
- الانفراج الدولي : هي وصف لعلاقات المعسكرين بعد تسوية أزمة كوبا الخطيرة حيث تم التخلص من الشدة والضيق اللذان وصلا إليهما .
- البروسترويك : وتعني «إعادة الهيكلة» هي برنامج للإصلاحات الاقتصادية أطلقه رئيس للاتحاد السوفيتي، ميخائيل غورباتشوف وتشير إلى إعادة بناء اقتصاد الاتحاد السوفيتي . صاحبت الليبرسترويك سياسة غلاسنوست والتي تعني الشفافية .

ن0.75

ن0.75

ن0.75

2- تعريف الشخصيات :

س2  
(ن2.25)

- المهاتما غاندي : زعيم وطني هندي ، قائد حزب المؤتمر الوطني الهندي قاد بلاده ضد الاستعمار البريطاني معتمدا على أسلوب الكفاح السلمي بسياسة اللاعنف ، نجح في تحقيق استقلال الهند سنة 1947 .
- محمد الصديق بن يحيى : سياسي ووزير خارجية الجزائر ، عضو في المجلس الوطني للثورة ، وعضو في الحكومة المؤقتة الجزائرية ، شارك في المفاوضات الجزائرية الفرنسية ولعب دورا حاسما فيها ، لقبه الفرنسيون بشعب الصحراء نتيجة ذكاه السياسي .
- جاك سوستال : جنرال فرنسي من أصل يهودي ، عين واليا عاما على الجزائر هو صاحب مشروع سوستال 1955 ، نصب نفسه مدافعا عن الجزائر الفرنسية وسياسة الإدماج .

ن0.75

ن0.75

ن0.75

3- أكمل الجدول :

1947 / 11 / 29	القرار الأممي 181 لتقسيم فلسطين
08 فيفري 1958	أحداث ساقية سيدي يوسف
03 - 04 / 12 / 1989	قمة مالطا بين بوش وغورباتشوف

س3  
ن1.5

الجزء الثاني

**المقدمة :** منذ توقيع اتفاقيات ايفيان في 18 مارس 1962 بدأت ملامح الدولة الجزائرية الحديثة تتشكل في ظل ظروف وأحداث متسارعة ، حددت المبادئ الأساسية للسياسة الخارجية الجزائرية . ماهي ظروف قيام الدولة الجزائرية ؟ وعلى أي مبادئ اعتمدت سياستها الخارجية ؟ .

ن0.5

6× 0.25

**العرض :** ظروف قيام الدولة الجزائرية : - وقف اطلاق النار 19 مارس 62 - تأسيس الهيئة التنفيذية بقيادة عبد الرحمن فارس -

=  
ن1.5

اشتداد نشاط المنظمة الارهابية OAS - اجراء الاستفتاء وإعلان الاستقلال 5 جويلية 62 - انشاء الجمعية التأسيسية بقيادة فرحات عباس التي أعلنت ميلاد الجمهورية الجزائرية 1962/09/26 - جملة المشاكل الاجتماعية ( الفقر - البطالة - التهميش . . . ) ولاقتصادية ( التعية - تهديم المصانع - فرار المسيرين . . ) التي ورثتها عن الاستعمار .

6× 0.25

مبادئ السياسة الخارجية للجزائر : الانضمام لهيئة الأمم المتحدة 1962 والجامعة العربية - مساندة الشعوب ودعم حركات التحرر على رأسها القضية الفلسطينية - المشاركة في الحروب العربية الإسرائيلية 1973 - عقد مؤتمر عدم الانحياز بالجزائر 1973 - ترأس الجمعية العامة لهيئة الأمم المتحدة سنة 1974 - الدعوة الى ايجاد نظام اقتصادي عالمي جديد وعادل .

=  
ن1.5

**الخاتمة :** استطاعت الجزائر بفضل مبادئها الراسخة وسياستها في البروز كهوة سياسية فاعلة في الوسط العربي الافريقي والدولي .

ن0.5

## الجغرافيا .

الجزء الأول :

1- شرح المصطلحات :

- 1ن • الاستثمارات : هي توظيف الأموال لشراء المعدات والآلات والعقارات لغرض الإنتاج وقد تكون مباشر بالتمويلات الذاتية أو بالشراكة و غير مباشر تقوم بها الدولة .
  - 1ن • البورصات : هي سوق للتعامل مع الأوراق المالية عن طريق الأكتاب وإصدار الأسهم والسندات وبها تحدد أسعار أهم المنتجات الغذائية ( من اشهر البورصت وول ستريت - فرانكفورت - طوكيو . . )
  - 1ن • الشركات متعددة الجنسيات : هي التي ملكيتها وإدارتها تخضع لسيطرة جنسيات متعددة وتمارس نشاطها في بلاد أجنبية وتعد من العوامل الأساسية في ظهور العولمة وتعرف بالشركات العابرة للقارات .
- 2- التعليق على معطيات الجدول + التوقيع على الخريطة .

البلد	الصين	اليابان	كوريا الجنوبية	تايوان	ماليزيا	أندونيسيا
الصادرات	762	284	257	197	140	37
الواردات	660	261	219	182	114	38

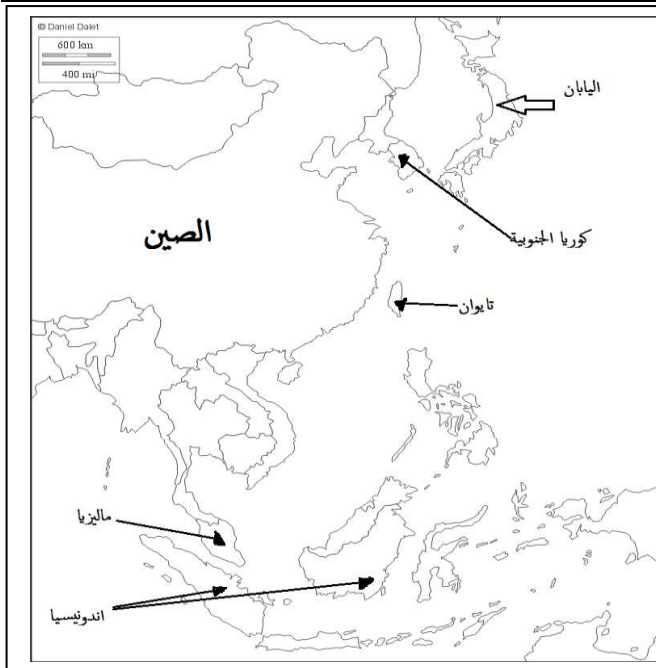
3ن

التعليق

1.5 ن

التوقيع

1.5 ن



التعليق :

جدول يمثل قيمة الصادرات والواردات لبعض بلدان منطقة شرق وجنوب شرق آسيا سنة 2015 .

- ضخامة قيمة الصادرات والواردات بالنسبة لهذه الدول .

- تبرز الصين كأكبر دولة من حيث حجم الصادرات بقيمة أكثر من 762 مليار دولار وفي حجم الواردات بقيمة أكثر من 660 مليار دولار .

- تقارب ومنافسة شديد في حجم الصادرات والواردات بين اليابان كوريا الجنوبية تايوان وماليزيا . بينما تحتل أندونيسيا المرتبة الأخير بقدرة تصدير تقارب 37 مليار دولار واستيراد يعادل 38 مليار دولار .

- تنامي حجم صادرات هذه الدول ساهم في غزوها للأسواق الدولية مع تسجيل فائض في الميزان التجاري .

- تعتبر دول منطقة شرق وجنوب شرق آسيا من الدول الصناعية الكبر في العالم والتي تستسيطر على الاقتصاد العالمي مستقبلا .

## الجزء الثاني ( المقال )

**المقدمة :** تقبل أي مقدمة خادمة للموضوع + طرح الإشكالية .

0.5 ن

**العرض :1-** أهمية القمح كمادة استراتيجية : - مادة استراتيجية في العلاقات الدولية . - مصدر للدخل القومي لدى بعض الدول - مادة أولية

1.5 ن

في الكثير من الصناعة الدولية . - غذاء أساسي للإنسان - يعتبر وسيلة ضغط ضد الشعوب المستوردة ( السلاح الأخضر ) - كثرة مجالات

1.5 ن

إستخدامه . **2-** العوامل المتحكمة في تجارة القمح : \* النوعية ( اللين و الصلب ) \* العرض و الطلب \* منطقة الإنتاج \* هيمنة الشركات

0.5 ن

الأمريكية والفرنسية والسويسرية على أسواقه والمعروفة بمقاومة الحبوب ( كار جيل - كوني نوتال قرين - اندري - لويس دريغون ) إنتاجا و تصديرا **الخاتمة:** ان القمح هو غذاء الشعوب الأساسي ويكسي أهمية استراتيجية بالغة في أوقات الحرب والسلم ويعتبر سلاح اخضر في يد العالم الثالث .

الإجابة النموذجية (الموضوع الثاني)

التنقيط

التاريخ الجزء الأول.

2- تعريف الشخصيات :

\* فيدال كاسترو : زعيم وطني كوبي ، مدافع عن المنهج الشيوعي ومعادي للرأسمالية الامبريالية ، خلص بلاده من نظام حكم العميل باتيسا من خلال ثورة شاملة 1953-1959 ، عرفت بلاده اخطر أزمات الحرب الباردة اثناء فترة حكمه ازم كوبا 1962 .

\* رونالد ريغن : رجل سياسي وزعيم أمريكي رئيس الوم أ بين (1981-1989) صاحب مشروع حرب النجوم ، تميزت فترة حكمه في الحرب الباردة بداية نهاية الصراع بين المعسكرين .

\* جوزيف ستالين : رجل سياسي سوفياتي ورئيسه بين (1924-1953) تميزت فترة حكمه بالتوتر الشديد والحدة في العلاقات الدولية أدت إلى ظهور عدة أزمات ، واجه المخططات الأمريكية بمخططات مضادة كالكومنفورم -حلف وارسو . .

1- شرح المصطلحات :

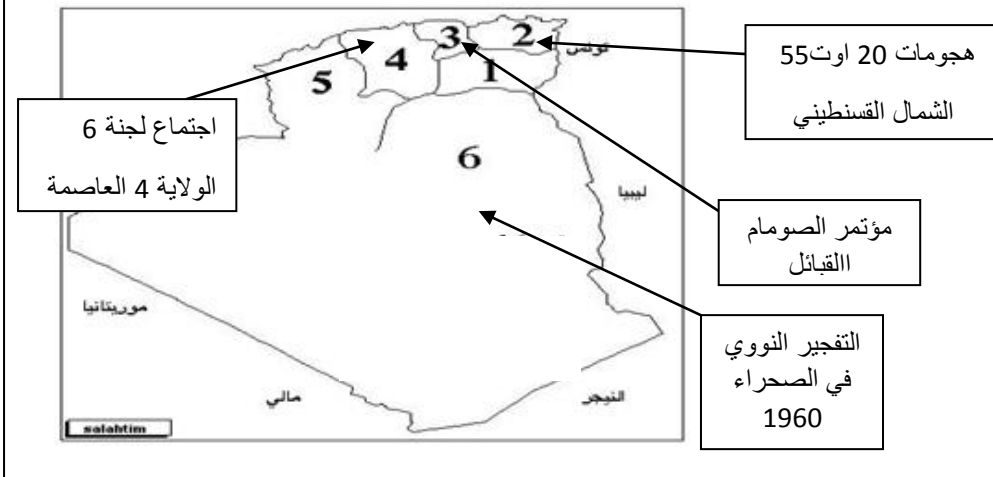
\* وقف اطلاق النار : هو القرار الصادر وفق اتفاقية ايفيان في 19 مارس 1962 والذي ينص على توقيف الحرب بين الجزائر وفرنسا تمهيد لاستقلال الجزائر .

\* اختطاف طائرة زعماء الثورة : هي عملية قرصنة جوية قامت بها فرنسا من خلال اختطاف الطائرة التي كان على متنها أعضاء الوفد الخارجي ( أحمد بن بلة - محمد خيضر - حسين ايت حمد - محمد بوضياف ومصطفى الاشرف ) في 22 أكتوبر 1956 والمشاركين في الندة المغربية التي أجريت في المغرب .

\* المفاوضات : هي صفقة دبلوماسية بين طرفين لحل مشكلة أو أزمة وهي عبارة عن لقاءات سرية أو علنية تجمع ممثلي الطرفين المتنازعين مثل المفاوضات بين الجزائر وفرنسا في الفترة ما بين 1960-1962 بشأن إستقلال الجزائر .

0.75 ن  
لكل  
مصطلح  
وكل  
شخصية

3- التوقيع على الخريطة :



1.5 ن

الجزء الثاني (المقال) :

المقدمة : تقبل كل مقمة خادمة للموضوع + طرح الإشكالية

0.5 ن

1.5 ن

**العرض : 1- ملاح النظام الدولي الجديد :** هيمنة الوم أ على المؤسسات الدولية - تهميش دور الاتحاد السوفياتي - غزو الوم أ للعديد من مناطق العالم (العراق وأفغانستان) - الدعم اللامتناهي لإسرائيل - تراجع دور حركة عدم الانحياز - بروز هيئة الأمم كأداة تتحكم فيها الوم أ .

1.5 ن

**2- انعكاسات الأحادية القطبية على العالم الثالث :** ازدياد الهيمنة الأمريكية - ممارسة الضغوط والتدخل في شؤون العالم الثالث - نزايدهوة التكنولوجيا بين العالمين (شمال/جنوب) - استخدام المؤسسات والهيئات ضد مصالح العالم الثالث - ارتفاع ديون العالم الثالث - تحول العالم الثالث الى

0.5 ن

سوق للمنتوجات . **الخاتمة :** التأكيد على ان النظام الدولي الجديد جاء لزيادة هيمنة الشمال على الجنوب .

## الجغرافيا

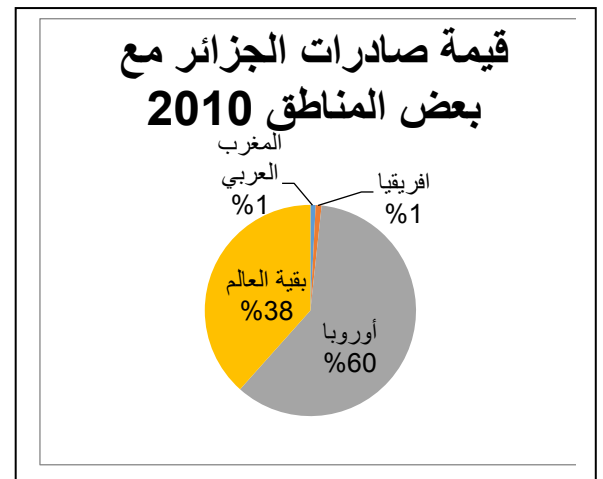
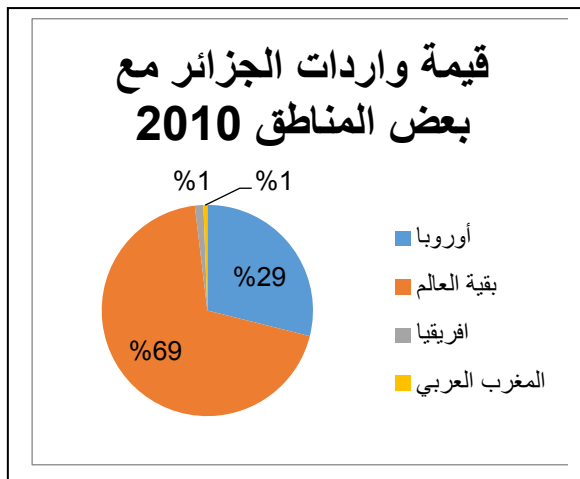
تعريف المصطلحات :

- 1 ن • **الاتحاد الأوروبي** : تكتل سياسي واقتصادي أوروبي بدأ مساره منذ عام 1951 ومر بعدة مراحل توسع خلالها ليشمل 28 دولة أوروبية يلخص أهدافه الاستراتيجية في التأسيس لمواطنة تضمن الحقوق الأساسية، وتدعم التقدم الاقتصادي والاجتماعي، وتقوي دور أوروبا في العالم.
- 01 ن • **الاندماج** : هو توحيد شامل للجهود والامكانيات السياسية والاقتصادية من اجل تقوية التلاحم الاقتصادي والاجتماعي لمجموعة من الدول مثل توحيد العملة والسياسة الزراعية لدل الاتحاد الأوروبي.
- 01 ن • **نواقص اقتصادي** : عبارة عن عملية يتم فيها زيادة الدخل الفردي والوطني زيادة تراكمية ومستمرة عبر فترة ممتدة من الزمن (ربع قرن) بحيث تكون هذه الزيادة أكبر من معدل نمو السكان ، وذلك باستغلال الإمكانيات الاقتصادية المتاحة .

2- التمثيل البياني + التعليق

التمثيل

1.5 ن



التعليق

1.5 ن

التعليق : دوائر نسبية تمثل قيمة المبادلات التجارية للجزائر مع بعض المناطق في العالم حيث :  
 - تنوع مناطق المبادلات التجارية للجزائر أي انها تتعامل مع اسوا متعددة - أوروبا هي أكبر منطقة للمبادلات التجارية مع الجزائر - قيمة المبادلات التجارية مع المغرب العربي وافريقيا جد ضعيفة - تتعامل الجزائر تجاريا مع مناطق اخر مثل البرازيل الوم أكندا الصين . . - تلعب اتفاقية الشراكة الاورومتوسطية والعامل التاريخ الجغرافي دورا بارزا في ارتفاع قيمة المبادلات مع أوروبا - نتيجة للضعف الاقتصادي وغياب سياسة تنموية موحدة تبقى قيمة المبادلات مع المغرب العربي وافريقيا ضعيفة جدا - تسعى الجزائر لتتنوع صادراتها واسواقها في العالم.

### الجزء الثاني ( المقال )

0.5 ن

المقدمة : كل مقدمة خادمة للموضوع مقبولة + طرح الإشكالية .

1.5 ن

**العرض : الدعائم الطبيعية لقوة الاقتصاد الأمريكي** : المساحة الشاسعة وطول الشريط الساحلي - الواجهة الأطلسية - تنوع المناخ والنبات - وفرة السهول الخصبة - التضاريس الوعرة الغنية بالمعادن - شبكة هامة من الموارد المائية ( انهار + بحيرات ) - كثرة المراعي . . .

1.5 ن

**المشاكل التي يعاني منها الاقتصاد الأمريكي** : المنافسة الخارجية - خسارة الميزان التجاري ( ارتفاع حجم الواردات ) - ضخامة الديون - تكديس الإنتاج الزراعي والصناعي - التبعية للعالم المتخلف فيما يخص المواد الأولية - الرسوم الجمركية المفروضة على الاقتصاد الأمريكي .

0.5 ن

الخاتمة : بالرغم من قوة الاقتصاد الأمريكي وهيمنته على العالم الا انه يعاني من مشاكل متعاقبة ومستمرة تهدد هيمنته في ظل تطور اقتصاديات جديدة