

4-أسباب انعقاد مؤتمر الصومام: (02ن)

العلامة: /20

وزارة التربية الوطنية
مديرية التربية لولاية سطيف
ثانوية الاخوين حويفي-العلمة

اللقب:
الاسم:
القسم: 3أف2

المستوى: سنة ثالثة ثانوي آداب وفلسفة
فيفري 2024
المدة: 01سا

الفرض الأول للثلاثي الثاني في مادة التاريخ والجغرافيا

أولا: التاريخ (10 نقاط)

1- اشرح ما يلي (2.5ن):

جبهة التحرير الوطني:

الثورة التحريرية الجزائرية:

هجمات الشمال القسنطيني:

2- عرف الشخصيات التالية (02ن)

العربي بن مهيدي:

كريم بلقاسم:

3- أكمل الجدول التالي (01ن):

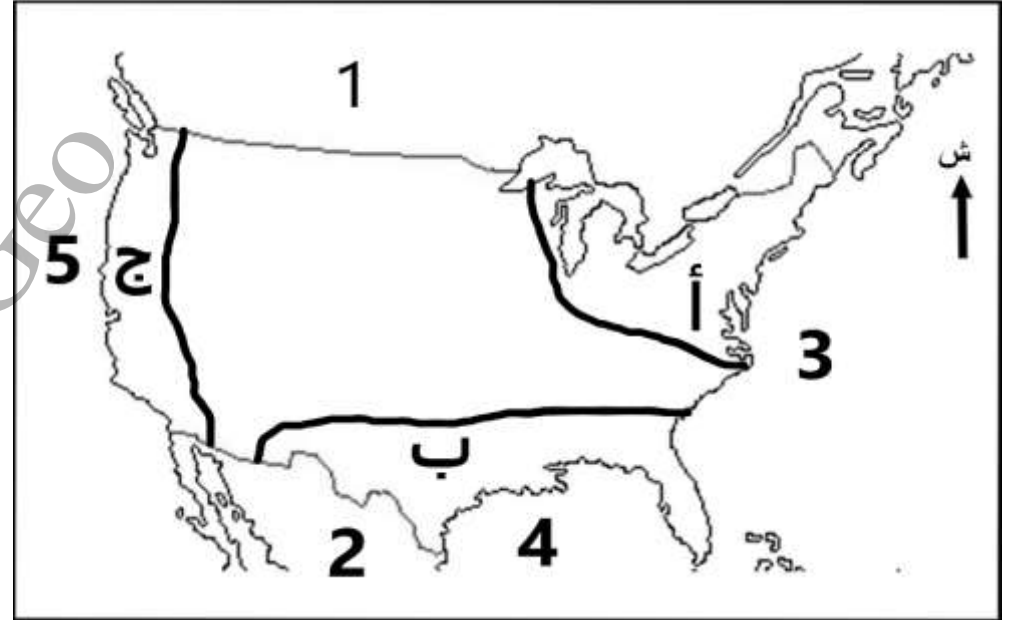
التاريخ	الحدث	النتيجة او القرار
.....	تحديد ساعة انطلاق الثورة

5- اليك خريطة الجزائر التاريخية وقع عليها ما يلي: (2.5ن)
أ-ولاية انطلاق الثورة. ب-ولاية انطلاق هجمات الشمال القسنطيني.
ج-ولاية انعقاد مؤتمر الصومام. د-ولاية قائدها رابح بيطاط.



ثانيا: الجغرافيا (10 نقاط)

1- اليك خريطة الأقاليم الاقتصادية في الولايات المتحدة الأمريكية (04ن)



ماذا تمثل الأرقام التالية: 1-.....

2-..... 3-.....

4-..... 5-.....

ماذا تمثل الاحرف التالية:

أ-الإقليم..... ويطلق عليه.....

ويعرف بمملكة..... نقطة اتصال بقارة:.....

ب-الإقليم..... ويطلق عليه.....

ويعرف بمملكة..... يشتهر بالصناعات:.....

ج-الإقليم..... نقطة اتصال بقارة:.....

ويعرف بمملكة.....

2-ماهي العوامل التاريخية السياسية التي ساهمت في قوة الاقتصاد الأمريكي: (02ن)

.....
.....
.....
.....
.....
.....

3-الإمكانيات الطبيعية لدى الولايات المتحدة الأمريكية: (2.5ن)

.....
.....
.....
.....
.....
.....

4-اشرح المفاهيم التالية (1.5ن):

النطاقات الزراعية:

.....
.....

ميغالوبوليس:

.....
.....

Prof. ZAIR. Chems.Hint.GEO

الإجابة النموذجية للفرض الأول للثلاثي الثاني في مادة التاريخ والجغرافيا (3ف2) فيفري 2024

التاريخ (10 نقاط)

-اشرح ما يلي (2.5ن):

جبهة التحرير الوطني: الجناح السياسي للثورة تنظيم سياسي أسس 1954/10/23، الممثل الوحيد والشرعي للجزائريين من اجل الاستقلال. **0.75ن**

الثورة التحريرية الجزائرية: وهي فعل تحرري شامل ورد شعبي جزائري ضد الاستعمار الفرنسي يهدف لنيل السيادة والاستقلال من خلال العمليات العسكرية والسياسية لجيش وجبهة التحرير بدأت في 01 نوفمبر 1954 الى غاية تحقيق الاستقلال. **01ن**

هجمات الشمال القسنطيني: عمليات عسكرية قادها زيغود يوسف في منطقة الشمال القسنطيني ضد مراكز الجيش الفرنسي في 20 اوت 1955 بهدف تخفيف الحصار عن الاوراس. **0.75ن**

2-عرف الشخصيات التالية (02ن)

العربي بن مهيدي: مناضل ثوري جزائري عضو في حزب الشعب المنظمة الخاصة المجموعة 22 و06 قائد ولاية وهران. **01ن**

كريم بلفاسم: مناضل ثوري جزائري عضو في حزب الشعب المنظمة الخاصة المجموعة 06 قائد ولاية القبائل شارك في مؤتمر الصومام عضو في مفاوضات إيبيان **01ن**

3-أكمل الجدول التالي (01ن):

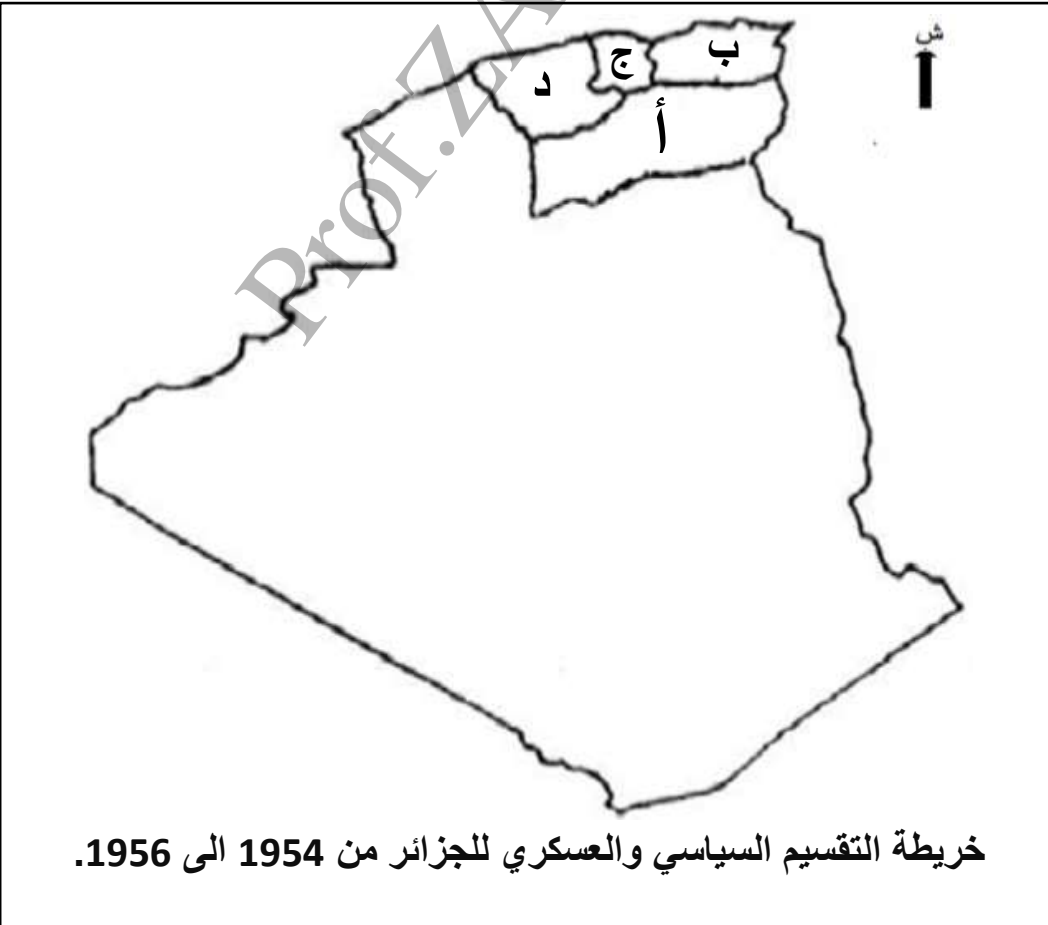
التاريخ	الحدث	النتيجة او القرار
23 أكتوبر 1954 0.5ن	اجتماع الحسم او 06 الثاني 0.5ن	تحديد ساعة انطلاق الثورة

4-أسباب انعقاد مؤتمر الصومام: (02ن)

-تقييم المرحلة الاولى من الثورة (1954-1956) - حاجة الثورة إلى التنظيم والتخطيط. -تأكيد استمرارية الثورة - بناء المؤسسات والهيكل التي تحتاجها الثورة خاصة مصادر التمويل. -إقناع المترددين للالتحاق بصقوف الثورة -إعطاء صدى خارجي للثورة

5-اليك خريطة الجزائر التاريخية وقع عليها ما يلي: (2.5ن)

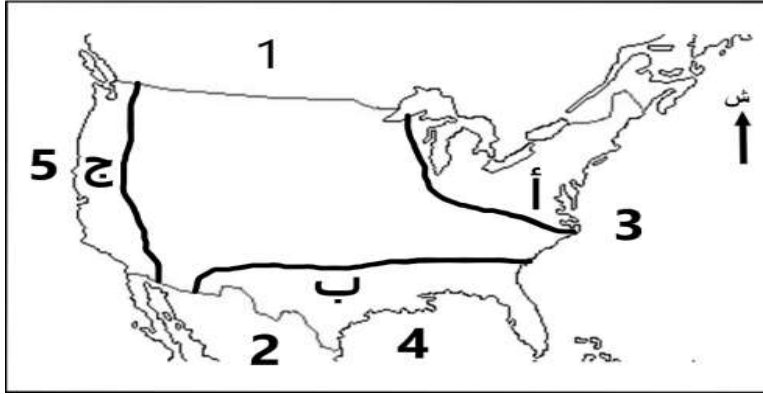
أ-ولاية انطلاق الثورة. ب-ولاية انطلاق هجمات الشمال القسنطيني. ج-ولاية انعقاد مؤتمر الصومام. د-ولاية قائدها رابح بيطاط.



0.5*4=02ن

العنوان: 0.5ن

1- اليك خريطة الأقاليم الاقتصادية في الولايات المتحدة الأمريكية (04ن)



تمثل الأرقام التالية:

- 1- كندا 0.25ن.
- 2- المكسيك 0.25ن
- 3- المحيط الأطلسي 0.25ن
- خليج المكسيك 0.25ن
- 5- المحيط الهادئ 0.25ن.

تمثل الاحرف التالية:

- أ- الإقليم الشمالي الشرقي 0.25ن. ويطلق عليه الواجهة الاطلسية 0.25ن. ويعرف بمملكة الالبان 0.25ن. نقطة اتصال بقارة: أوروبا 0.25ن.
- ب- الإقليم الجنوبي 0.25ن. ويطلق عليه حزام الشمس 0.25ن. ويعرف بمملكة القطن 0.25ن. يشتهر بالصناعات البترولية 0.25ن.

ج- الإقليم الغربي 0.25ن. نقطة اتصال بقارة آسيا 0.25ن ويعرف بمملكة الفواكه 0.25ن.

2- ماهي العوامل التاريخية السياسية التي ساهمت في قوة الاقتصاد الأمريكي: (02ن)

- الاستفادة من الثورة الصناعية. -الاستفادة من عزلتها. -الاستفادة من الحربين العالميتين 1 و2
- الاستقرار السياسي (الديمقراطية)

3- الإمكانيات الطبيعية لدى الولايات المتحدة الأمريكية: (2.5ن)

- الموقع الاستراتيجي والمساحة الشاسعة.
- طول الشريط الساحلي ومنه الانفتاح (واجهة اطلسية ومحيط هادئ) - اتساع السهول والمساحة الصالحة للزراعة
- تنوع التضاريس - تنوع الأقاليم المناخية.
- وفرة الثروات الطبيعية - وفرة المياه (بحيرات وانهار)

4- اشرح المفاهيم التالية (1.5ن):

النطاقات الزراعية: تخصيص مساحة شاسعة لإنتاج محصول واحد وهي ميزة للزراعة الأمريكية (مثل نطاق الذرة. القمح. التبغ) وتتطلب إمكانيات طبيعية وبشرية ومادية ضخمة. 0.75ن

ميغالوبوليس: مجمع المدن يطلق على منطقة حضرية واسعة تتميز بتلاحم عمراني وتعدد المدن (مدن متلاصقة متلاحمة) وتعتبر المحرك الاقتصادي للبلاد، مثل من بوسطن الى واشنطن. 0.75ن