

الموضوع الأول : (20 نقطة)

الجزء الأول : (6 نقاط)

التاريخ :

« ... تميزت المرحلة الأولى من مراحل السياسة الديغولية إزاء الجزائر عن سياسة الجمهورية الرابعة بتنظيم معركة مزدوجة ضد جبهة التحرير الوطني في الداخل والخارج، ففي الميدان الداخلي تمثلت السياسة الديغولية في تعبئة كل الطاقات العسكرية ضد جيش التحرير الوطني، في نفس الوقت الذي تضاعفت فيه مراكز التجميع، وبلغت هذه السياسة أوجها مع برنامج شال الذي كان يهدف إلى سحق المناطق التي يتمركز بها جيش التحرير من كل المجاهدين بواسطة تنظيم عمليات هجومية برية وجوية منسقة ... وفي الميدان الخارجي نشطت الدبلوماسية الفرنسية معتمدة على عرض سلم الأبطال الذي قدمته في شكل عرض تفاوضي، حتى تظهر جبهة التحرير في مظهر المتهرب من التفاوض ... ».

.المرجع: الجزائر في مرآة التاريخ، عبد الله شريط ومحمد الميللي، مكتبة البعث، ص 233

المطلوب :

1. أشرح ما تحته خط في النص
2. عرف بالشخصيات التالية : فرانكلين روزفلت - فرحات عباس - نيكيتا خروتشوف
3. أكمل الجدول التالي:

التاريخ	20 جوان 1963	20 جويلية 1954
الحدث	أنعقاد مؤتمر طرابلس	

الجزء الثاني : (4 نقاط)

« ... يرى معظم المؤرخين وجميع الذين كتبوا في تاريخ الجزائر المعاصر حتى اليوم، أن أحداث ماي 1945 هي التي أنضجت فكرة الكفاح المسلح في الاتجاه الاستقلالي وشكلت القاعدة الأساس لانطلاق ثورة نوفمبر 1954 " ... ». المرجع :محمد العربي الزبيري، تاريخ الجزائر المعاصر، ج 1 ، ص 100

المطلوب : انطلاقا من الفقرة واعتمادا على ما درست، اكتب مقالا تاريخيا تبين فيه:

1. ظروف أحداث 8 ماي 1945 في الجزائر.
2. أثرها في اندلاع الثورة التحريرية في الجزائر.

الجغرافيا:

الجزء الأول: (6 نقاط)

الوثيقة :

" ... إن الإمضاء على اتفاقية الشراكة مع الإتحاد الأوروبي وانضمام الجزائر لمنظمة التجارة العالمية سيؤدي حتما إلى انفتاح كبير لحدودنا الإقتصادية مما يفرض علينا تأهيل أدواتنا الإنتاجية لتحضير مؤسساتنا لمواجهة المنافسة وحيارة مواقع في السوق العالمية وتشجيع الإستثمار وتوسيع رقعته في البلاد ... "

المصدر: الكتاب المدرسي ص 169

1. اشرح ما تحته خط في النص

2. إليك جدولا يوضح نسبة الصادرات والواردات الجزائرية سنة 2015:

المجموع	بقية العالم	الو.م.أ.	تركيا	اسبانيا	ايطاليا	فرنسا	الصين	المناطق
100	30.98	5.23	5.48	17.37	22.15	13.02	5.77	الصادرات %
100	47.29	5.26	3.95	7.64	9.37	10.52	15.97	الواردات %

المصدر: المركز الوطني للإعلام الآلي والإحصاء التابع للجمارك 2015

المطلوب : علق على معطيات الجدول.

3- على خريطة العالم وقع ثلاثة دول عضوة في منظمة الأوبك على أن تكون كل دولة من قارة ؟

الجزء الثاني: (4 نقاط)

لقد تحولت منطقة شرق و جنوب شرق آسيا إلى منطقة إستقطاب إقتصادي عالمي في ظرف وجيز من الزمن المطلوب: انطلقا من العبارة و اعتمادا على مادرتك أكتب مقالا جغرافيا تبرز فيه :

1. الإستراتيجية المعتمدة من طرف دول المنطقة في التطور الإقتصادي.

2. المكانة الإقتصادية الدولية لشرق وجنوب شرق آسيا

الموضوع الثاني: (20 نقطة)

الجزء الأول: (6 نقاط)

التاريخ :

«... الولايات المتحدة الأمريكية مسؤولة عن وضع المعايير و التنظيمات و مراقبتها باسم الشرعية الدولية و التي لا تنطبق عليها ولا على حلفائها الأقربين في الوقت الذي تحث فيه بلدان العالم الثالث... على تفكيك القطاع العام و تسريع الخصخصة في جميع مرافق الإقتصاد... إن التقييم الأولي للممارسات الأحادية القطبية يشير إلى أن معظم بلدان العالم الثالث تشهد عودة الهيمنة و الإمبريالية بدون عون أو نظير...»
كتاب تاريخ العالم المعاصر السنة الثالثة ثانوي ص 419

1. اشرح ما تحته خط في النص.

2. عرف الشخصيات التالية : جون كينيدي ، هوشي منه ، أحمد بن بلة

3. وقع على خريطة العالم مؤتمرات حركة عدم الإنحياز التالية : الجزائر باندونغ القاهرة

الجزء الثاني: (04 نقاط)

أسهمت الدول الحديثة العهد بالاستقلال في إرساء التعايش السلمي معبرة عن رفض التبعية للكتلتين من خلال منابر المنظمات الدولية خاصة الجزائر في مؤتمرها الرابع لحركة عدم الانحياز عام 1973 التي التزمت فيه بمواقفها ومبادئها.

المطلوب : انطلاقا من العبارة، و اعتمادا على ماد رست، اكتب مقالا تاريخيا تبرز فيه:

1- عوامل جنوح المعسكرين للسلم العالمي.

2- انعكاسات مؤتمر الجزائر على دول العالم الثالث.

الجغرافيا

الجزء الأول: (06 نقاط)

« القطب الأول هو اليابان...يعتمد في نجاحه على قوة الشركات متعددة الجنسيات ويتمثل القطب الثاني في التينيات التي استفادت من التحول التكنولوجي الياباني ... وهي بذلك ذات دخل وطني مرتفع وقوة تجارية ومراكز مالية هامة...»

المرجع: الكتاب المدرسي/ السنة الثالثة ثانوي/جغرافيا/ ص: 108 . بتصرف.

1. اشرح ما تحته خط في النص

2. إليك جدولاً يمثل بعض الدول المنتجة للقمح عام 2017.

الوحدة: مليون طن

الدول	الصين	الهند	الوم أ	فرنسا	روسيا	أستراليا	كندا	باكستان	ألمانيا
الإنتاج	125.6	94.3	61.6	40.4	37.8	30	27.1	23.6	22.5

منظمة التغذية والزراعة 2017.

المطلوب : أ - مثل معطيات الجدول بواسطة أعمدة بيانية بمقياس:

اسم ← 10 مليون طن.

اسم ← دولة.

ب - علق على معطيات الجدول .

الجزء الثاني: (04 نقاط)

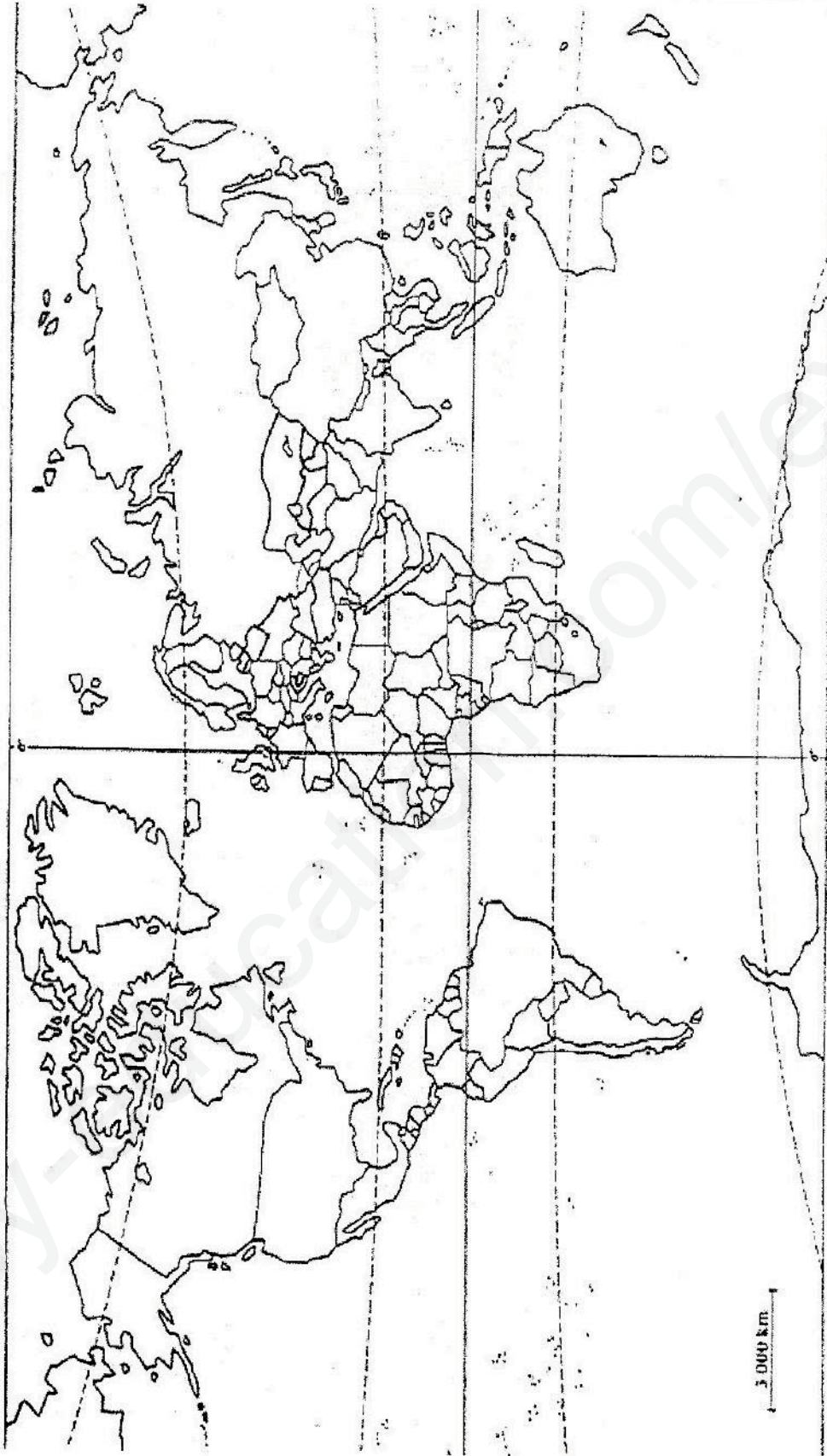
أصبحت السوق المالية بفضل منظومة الاتصالات بين مختلف البورصات ذات صبغة عالمية غير أن هناك اختلاف في تحديد العوامل المتحركة في حركة رؤوس الأموال وتمركزها، فمنهم من يرى أن منطق الربح والمضاربة هو المتحكم، بينما يرى آخرون أن سياسة الدول الغنية هي العامل الحاسم في ذلك. المطلوب: انطلاقاً من العبارة واعتماداً على ما درست، اكتب مقالا جغرافياً تبين فيه:

1. واقع حركة رؤوس الأموال في العالم.

2. دورها في المبادلات الاقتصادية العالمية.

بالتوفيق والنجاح

خريطة العالم



ينجز العمل المطلوب على الخريطة وتعاد مع أوراق الإجابة


العلامة	عناصر الإجابة				محاور الموضوع	
	مجزأة					
		الموضوع الأول				
		التاريخ:				
		الجزء الأول:				
	3×0.75	<p>1. جبهة التحرير الوطني: تنظيم سياسي للثورة الجزائرية تأسست في 23 أكتوبر 1954 الممثل الشرعي الوحيد للشعب الجزائري</p> <p>2. برنامج شال: شال جنرال فرنسي عينه ديغول كقائد عام للقوات الفرنسية بالجزائر سنة 1958، فوضع مخططا عسكريا جهنميا للقضاء على الثورة، تضمن القيام بمجموعة من العمليات الجوية والبحرية والبرية المنسقة في كل أنحاء الجزائر المنطقة تلو الأخرى، امتدت من 1959 إلى 1961م.</p> <p>3. سلم الشجعان : عبارة عن مناورة سياسية و حرب نفسية أطلقها الجنرال ديغول يوم 23 - 10 - 1958 تقضي باستسلام الثوار وتسليم أسلحتهم مقابل ضمان حريتهم و سلامتهم و قد هدف الى افراغ الثورة من محتواها وإظهارها إلى العالم على أنها ثورة جياح و تمزيق صفها .</p>				المفاهيم
06	3×0.75	<p>- فرانكلين روزفلت : رئيس الولايات المتحدة الأمريكية رقم (32) من 1933 إلى 1945 أعيد انتخابه أربع مرات متتالية ، ممثلا للحزب الديمقراطي ، عرف بخطته لمعالجة الأزمة الاقتصادية 1929 ، قاد دولته خلال الحرب العالمية الثانية لانتصارات على دول المحور حضر مؤتمر يالطا وتوفي 12 أبريل 1945م</p> <p>- فرحات عباس : 1986/1899 من مناضلي فدرالية النواب المسلمين الجزائريين التي تأسست 1927 طالب في البداية بالإدماج شارك في صياغة بيان فيفري 1943 سجن إثر أحداث 45/5/8 أسس الإتحاد الديمقراطي للبيان الجزائري 1946 التحق بالثورة 1956 أصبح رئيس الحكومة الجزائرية المؤقتة 1958</p> <p>- نيكيتا خروتشوف : أحد أعضاء القيادة الجماعية بالإتحاد السوفيتي بعد ستالين 1953 رئيس الإتحاد السوفيتي من 1956 - 1964 تبنى سياسة التعايش السلمي</p>				التعريف بالشخصيات
	1.5	20 جوان 1963	27 ماي و 4 جوان 1962	20 جويلية 1954	التاريخ	
		إنشاء الخط الهاتفي الأحمر بين موسكو وواشنطن	أنعقاد مؤتمر طرابلس	انعقاد مؤتمر جونييف الخاص بالصراع في الهند الصينية	الحدث	

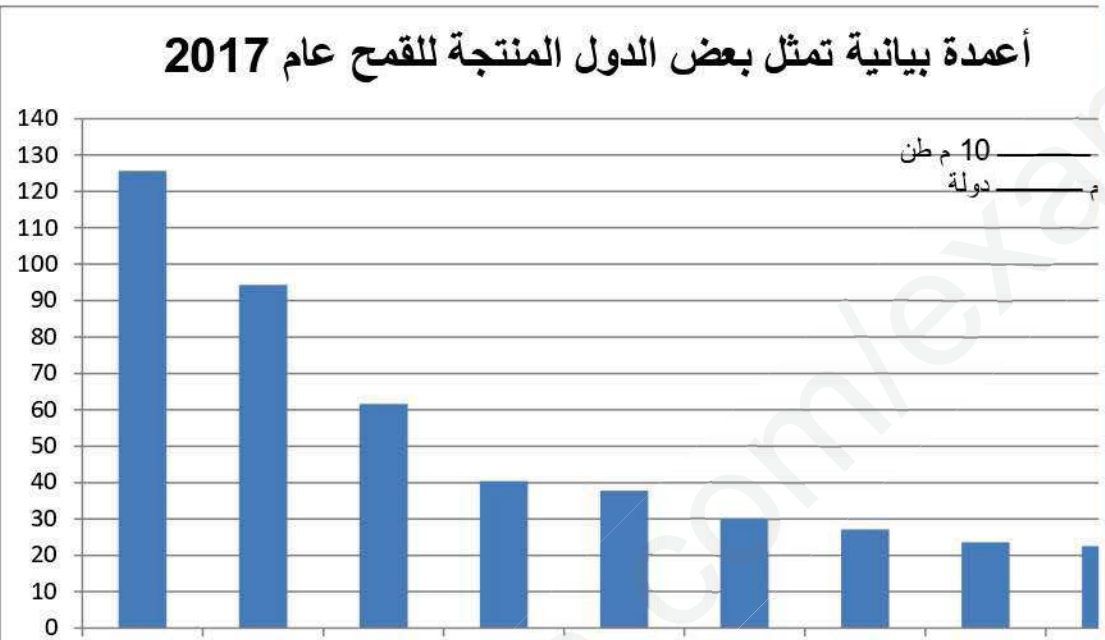
الجزء الثاني:

	0.5	عاش الشعب الجزائري مأس عديدة وشديدة الوطأة في ظل السيطرة الاستعمارية منها مجازر ماي 1945	المقدمة
04	0.25 6x	<p>1 ظروف أحداث 8 ماي 1945 في الجزائر:</p> <ul style="list-style-type: none"> • احتفالات الأوربيين بانه ازم دول المحور وانتصار دول الحلفاء • مشاركة الشباب الجزائري في الحرب. ع 2 إلى جانب الحلفاء • الوعود الفرنسية بتحسين الأوضاع في الجزائر • رغبة الشعب الجزائري في الحرية والاستقلال • انتهاء الاستعمار سياسة قمع الحريات (الاعتقالات، حل الأحزاب، مجازر ضد المتظاهرين العزل) • خروج الشعب الجزائري في مظاهرات مطالبة بالحرية حق تقرير المصير وتنفيذ الوعود <p>2. أثرها في اندلاع الثورة التحريرية في الجزائر:</p> <ul style="list-style-type: none"> • أظهرت النوايا الحقيقية للاستعمار رغم التصريحات الإغرائية للسلطات الفرنسية • ترسيخ فكرة استرجاع الحرية بالقوة بعد استنفاد كل الوسائل السلمية • ظهور المنظمة الخاصة (15 فيفري 1947) أجل التحضير للثورة • تصاعد شعبية التيار الاستقلالي (حركة الانتصار للحريات الديمقراطية، أنصار الاتجاه الثوري) • 5415 وضمت عدة تيارات لمواجهة السياسة القمعية الفرنسية • تأسيس جبهة الدفاع عن الحرية في 5 أوت 1951 وضمت عدة تيارات لمواجهة السياسة القمعية الفرنسية • ظهور اللجنة الثورية للوحدة والعمل 23 مارس 1954 ، تخلي بعض المناضلين عن التردد في تفجير الثورة المسلحة وكان اجتماع مجموعة 22 ثم اجتماع لجنة الستة و الاعلان عن الكفاح المسلح. 	البروف
	0.5	بقدر ما تحملته هذه الأحداث من آلام للشعب الجزائري فإنها دفعتته إلى البحث عن وسيلة للتخلص من ظلم	

العلامة		عناصر الإجابة	محاور الموضوع
كاملة	مجزأة		
		الجغرافيا الجزء الأول:	
06	3	<ul style="list-style-type: none"> - الاتحاد الأوروبي: تكتل إقتصادي وسياسي أوروبي تأسس وفق اتفاقية ماستريخت 1993 يضم 28 دولة أوروبية 2013 يهدف لبناء أوروبا الموحدة وهو من أبرز التكتلات الاقتصادية في عالم اليوم - منظمة عالمية للتجارة : OMC : منظمة دولية أنشئت في جانفي 1995 خلفت (الاتفاقية العامة للتعريفات والتجارة GATT مهمتها : وضع القواعد والقوانين المشتركة التي تنظم التجارة العالمية - فض النزاعات التجارية بين البلدان الأعضاء - الاستثمار: هو توظيف مبالغ مالية في مشاريع معينة أو توجيه المدخرات نحو استخدامها تؤدي إلى إشباع حاجات اقتصادية 	المصطلحات
	1.5	<ul style="list-style-type: none"> • الوثيقة جدول إحصائي يوضح نسبة الصادرات والواردات الجزائرية سنة 2015 مصدره المركز الوطني للإعلام الآلي والإحصاء التابع للجمارك 2015 • التباين الواضح في نسب الصادرات والواردات الجزائرية بين الدول • معظم مبادلات الجزائر تتم مع الدول المتقدمة • ارتفاع المبادلات مع دول الاتحاد الأوروبي بسبب الموقع الجغرافي والرباط التاريخي • ضخامة المبادلات مع الصين بسبب ضخامة إنتاجها وانخفاض التكلفة 	التعليق على الجدول
	1.5	<p>الإنجاز العنوان المفتاح</p> <p>الدول العضوة في منظمة أوبك OPEC</p> <p>الدول العضوة: 1- العراق- 2- الكويت- 3- السعودية- 4- إيران- 5- فنزولا 6- قطر- 7- ليبيا- 8- الإمارات- 9- الجزائر- 10- نيجيريا 11- والأكوادور- 12- أنغولا</p> <p>(عداد الاستاذ: بورطاعة أحمد لقوية العلومة عطية)</p>	على الخريطة التوقيع
الجزء الثاني:			
	0.5	شرق وجنوب شرق آسيا بين حيوية العنصر البشري والأمكانيات الاقتصادية.	المقدمة
04	0.5 6×	<p>- الإستراتيجية المعتمدة : تحسين ظروف التعليم والرعاية الصحية الإستفادة من وفرة اليد العاملة ذات الأجور المنخفضة والإنتاجية العالية الإعتماد على المدن الصناعية الكبرى الاستفادة من العولمة ونشاط الشركات المتعددة الجنسيات. واتساع السوق الاستهلاكية قوة الاستثمارات داخل وخارج المنطقة و الاعتماد على التصدير كأساس للتنمية. التكثف والتعاون الإقليمي الآسيان (رابطة دول جنوب شرق آسيا) 2- المكانة الاقتصادية لشرق وجنوب شرق آسيا : احتكارها ل 24 % من حجم المبادلات التجارية كثرة فروع الشركات الكبرى استحواذها على ربع الثروة العالمية إحتلالها للمراتب الأولى في العديد من الصناعات القطب الاقتصادي الثالث في العالم ضخامة الإنتاج الصناعي والزراعي وتنوعه (اليابان القوة الاقتصادية الثانية والصين القوة الاقتصادية الرابعة)</p>	العرض
	0.5	استثمار العنصر البشري هو الركيزة الأساسية في بناء إقتصاد دول شرق وجنوب شرق آسيا	الخاتمة

الإجابة النموذجية و سلم التنقيط

العلامة		عناصر الإجابة	محاو الموضوع
كاملة	مجزأة		
		التاريخ: الموضوع الثاني الجزء الأول:	
	3×0.75	- الشرعية الدولية : مجموعة قواعد وقوانين تضبط وتنظم العلاقات الدولية في إطار القوانين الدولية والمنظمات العالمية والإقليمية مثل : هيئة الأمم - العالم الثالث: مصطلح ظهر في منتصف الخمسينيات يشير حسب معايير جغرافية وتاريخية واقتصادية إلى الدول المستقلة حديثا في كل من آسيا وإفريقيا وأمريكا اللاتينية تميزت بتخلفها وطموحها للتنمية - القطبية الاحادية: هي الوضعية التي أصبح عليها العالم منذ 1991 بعد انهيار المعسكر الاشتراكي السوفياتي حيث أضحي المعسكر الرأسمالي بقيادة الولايات المتحدة الأمريكية يهيمن على السياسة الدولية	المفاهيم
06	3×0.75	- كندي، جون : رئيس الولايات المتحدة من 1961 إلى 1963 وكان أصغر رئيس يتم انتخابه وأصغر رئيس يموت أثناء رئاسته. شهدت في عهده العلاقات الدولية أخطر أزمة (أزمة الصواريخ) قُتل في 22 نوفمبر 1963م - هوشي منه : شخصية سياسية فيتنامية مؤسس الحزب الشيوعي الفيتنامي قاد حربا ضد فرنسا - أحمد بن بلة : شخصية جزائرية مناضل في حزب الشعب وحركة الانتصار للحريات الديمقراطية ثم المنظمة الخاصة من مجموعة 22 التحق بالوفد الخارجي اعتقل إثر اختطاف الطائرة 1956/10/22 أطلق سراحه 1962/03/15 أول رئيس للجزائر 1962-1965	التعريف بالشخصيات
	1.5	الانجاز العنوان المفتاح خريطة العالم تمثل بعض مؤتمرات حركة عدم الانحياز	على الخريطة
			
		الجزء الثاني:	
	0.5	دور حركة عدم الانحياز في ظل الانفراج الدولي.	المقدمة
04	6×0.25	1. عوامل جنوح المعسكرين للسلم العالمي: • توازن الرعب النووي بتطور أسلحة الدمار الشامل. • فشل سياسة الاحتواء السوفياتية والاستقطاب الأمريكية. • وصول حكام معتدلين لهرم السلطة في الاتحاد السوفياتي والوم أ. • التفكك داخل كل معسكر (يوغسلافيا_ الصين) • ضغط الرأي العام العالمي الرفض للصراع. • دور حركة عدم الانحياز ودعوتها للحوار وتجنب سياسة التوتر والتصعيد. 2. انعكاسات مؤتمر الجزائر على دول العالم الثالث: - مراقبة نشاط الشركات المتعددة الجنسيات. - ارتفاع أسعار البترول من 2 دولار إلى 11 دولار. - فتح الحوار بين الشمال والجنوب والحوار جنوب جنوب. - إشراف دول العالم الثالث على ثرواتها وتأميمها.	المرجع
	0.5	نجاح حركة عدم الانحياز في الدفاع عن مواقفها في ظل توازن القوى العالمية.	الخاتمة

العلامة		عناصر الإجابة	محاور الموضوع
كاملة	مجزأة		
		الجغرافيا: الجزء الأول: الشركات متعددة الجنسيات: شركات احتكارية عالمية عملاقة تملك وتدير بصورة مباشرة وغير مباشرة أنشطة استثمارية متعددة خارج الدولة الأم. التينيات: هي مجموعة دول من شرق وجنوب شرق آسيا شهدت تحولات اقتصادية كبرى بلغت من خلالها ركب الدول المتطورة، تضم: كوريا الجنوبية. هونغ كونغ. تايوان. سنغافورة. الدخل الوطني: حاصل قيمة السلع والخدمات المنتجة من قبل سكان بلد ما داخليا وخارجيا خلال سنة معينة.	المصطلحات
06	3		
	1.5	أعمدة بيانية تمثل بعض الدول المنتجة للقمح عام 2017 	التمثيل البياني
	1.5	<ul style="list-style-type: none"> - تمثل الوثيقة معطيات إحصائية لبعض الدول المنتجة للقمح عام 2017 - نلاحظ أن هناك تباين في الإنتاج من دولة لأخرى - أغلب الدول المنتجة في العالم تقع في عالم الشمال أي الدول المتقدمة - تصدر الصين الإنتاج بحوالي 125 م طن 	الجدول التعليل على
الجزء الثاني:			
	0.5	تشهد حركة رؤوس الأموال في العالم نشاط وتزايد كبير لما لها من دور في حركة المبادلات الاقتصادية	المقدمة
04	6×0.25	واقع حركة رؤوس الأموال في العالم: <ul style="list-style-type: none"> - ضخامة حجم الأموال المتداولة عالميا بالاعتماد على التطور التكنولوجي . - تنقل الأموال غير المشروعة والمزودة بحسابات الفوائد الكاذبة. - الأزمات المالية نتيجة الربح السريع إذ تؤدي الى عدم استقرار مناطق شاسعة من العالم. - التضخم المالي نتيجة للمنافسة و تزايد ظاهرة تبييض الأموال. - عدم استقرار سعر أو صرف العملات العالمية. - تنشيط مسارها بين عواصم أخطبوطيه للرأسمال العالمي. دورها في المبادلات الاقتصادية العالمية: <ul style="list-style-type: none"> - توفير السيولة النقدية لتنشيط الحركة التجارية (الصادرات ، الواردات) . - تنشيط حركة الأسواق سواء المحلية أو الدولية. - توفير السيولة المالية للبنوك والمصارف عبر التحويلات المالية والادخار سواء أفراد أو مؤسسات. - تدعيم الاستثمارات الخارجية ودور الشركات العالمية في رفع معدلات النمو الاقتصادي. - تحقيق أرباح ضخمة من خلال نشاط البورصات أو القروض البنكية. - تزايد نشاط التجارة وتبييض الأموال 	العرض
	0.5	أهمية ودور حركة رؤوس الأموال في رفع مستوى حركة الاقتصاد العالمي.	الخاتمة