


المادة: علوم الطبيعة و الحياة	إختبار الفصل الثالث	المتوسطة : بوكرزازة علي السنة الدراسية : 2018/2019
المستوى: ثانية متوسط		المدة : ساعة و نصف

### التمرين الأول: (6 ن)

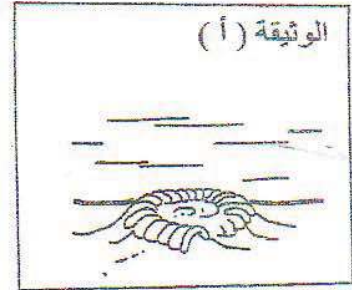
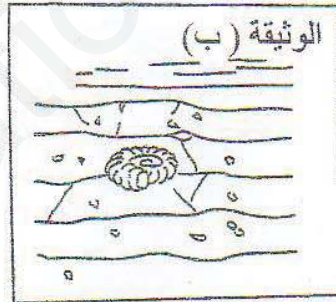
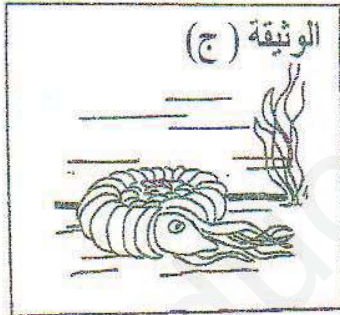
تمثل الوثيقة التالية بعض الحيوانات التي تنتشر في محيط المتوسط .



- 1/ حدّد في جدول الشّعبة و الصّف الذي تنتمي إليه هذه الكائنات الحيّة .
- 2/ يُعتبر أحد الحيوانات دخيلاً على البقّيّة ، حدده مع التعليل .
- 3/ اذكر الصّفات الأساسيّة التي تُميّز الصّف الذي ينتمي إليه صرصور الليل .

### التمرين الثاني : (6 ن)

يتطلّب تشكّل المستحاثات ملايين السنين ، تبيّن الوثائق الموائية مراحل مختلفة غير مُرتبة لعملية تشكّل مستحاثات حيوان الأمونيت المنقرض قبل 65 مليون سنة .



- 1/ قدّم تصنيفاً لهذا الحيوان .
- 2/ رتب مراحل تشكّل المستحاثات ترتيباً صحيحاً .
- 3/ اذكر حيوان موجود حالياً يشبه هذا الأمونيت المنقرض .
- 4/ اشرح مراحل تشكّل المستحاثات .

### الوضعية الإدماجية : (8 ن)

الديناصورات حيوانات منقرضة كانت قائمة منذ ملايين السنين ، و في 1993 ظهر في السّينما فيلم ( Jurassic park ) الذي صوّر مختلف الديناصورات ، و أوضحت مشاهد الفيلم طريقة عيش الكثير من هذه الديناصورات في بيئتها كأنها مازالت موجودة .

مخرج الفيلم اعتمد في تصويره على علماء مختصّين في دراسة علم الأثار و بقايا الكائنات الحيّة التي كانت تعيش في أزمنة غابرة و لم يعد لها وجود ( علم المستحاثات ) .

السندات :

### الوثيقة 1



### الوثيقة 2

نتائج الأبحاث حول بعض أنواع الديناصورات :

الملاحظة	الحيوان
- أسنان حادة و أنياب طويلة و مخالب .	التيرانوصور
- رقبة طويلة كالزرافة . - أسنان صغيرة و لا وجود للمخالب . - فضلات غنية بالبقايا النباتية	الترياسروس

من خلال مكتسباتك و السندات :

- 1/ حدّد النظام الغذائي للتيرانوصور و الترياسروس مع التعليل .
- 2/ استنتج وسط عيش هذه الديناصورات .
- 3/ قدّم تعريفاً للمستحاثات مبيّناً أشكال توأجدها في عصرنا الحالي .