



المستوى: السنة الثالثة المدة: 03 سا ونصف	اختبار الفصل الثاني في مادة التاريخ والجغرافيا	الشعبة: ع/ت / ت / ر / لغ السنة الدراسية: 2023/2022
---------------------------------------------	---------------------------------------------------	-------------------------------------------------------

### الجزء الأول: (06 نقاط)

«... ففي سنة 1956 نادى غي مولي بثالوثه المشهور: وقف القتال ثم الانتخابات ثم المفاوضات ... وفي سنة 1958 ابتدع الجنرال ديغول سلم الشجعان، وفي سنة 1959 كان اعترافه بمبدأ تقرير المصير... إذ اقترح أيضا وقف القتال ثم فكرة المهادنة ثم الاستفتاء...».

المرجع: د/ عبد الله شريط: الثورة الجزائرية في الصحافة الدولية 1960، منشورات وزارة المجاهدين - ص 40، 41.

1- اشرح ما تحته خط في النص.

2/ وقع على خريطة الجزائر تقسيم الثورة لسنة 1954 مع اسناد المناطق لقادتها الصفحة 03

### 3/ أكمل جدول الاحداث التالي بما يناسب

التاريخ	الحدث
1956-10-22	.....
.....	إضراب 8 أيام
1957-03-05	.....
.....	حادثة قصف ساقية سيدي يوسف

### الجزء الثاني: (04 نقاط)

انعقد مؤتمر الصومام في 20 أوت 1956 بعد أن حققت الثورة الجزائرية انتصارات عسكرية وسياسية وواجهت تحديات مصيرية.

المطلوب: انطلاقا من الفقرة واعتمادا على ما درست، اكتب مقالا تاريخيا تبين فيه:

- 1- دوافع انعقاد مؤتمر الصومام.
- 2- أهم القرارات التي خرج بها المؤتمر.

1) " اعتمدت اتفاقية ماستريخت منذ نوفمبر 1992 على تحقيق التكامل الاقتصادي بين بلدان الاتحاد الأوروبي تمهيدا لتحقيق الوحدة النقدية من خلال تنسيق السياسات الاقتصادية...وبذلك حقق الاتحاد الأوروبي حلما مشتركا...والذي يعتبر خطوة أساسية على طريق تحقيق الوحدة الأوروبية الكاملة، وتظهر أهميته من خلال تأمينه لحرية انتقال البضائع فخفضت جلّ المعاملات التجارية بين دول الاتحاد لقواعد التجارة الداخلية...".  
المرجع: كفية قسميوري، التكامل الاقتصادي بالاتحاد الأوروبي ... صفحة:43، 44 بسكرة الجزائر.

2) إليك جدولا يمثل مساهمة القطاعات الاقتصادية في الناتج الداخلي الخام للولايات المتحدة الأمريكية عام 2017.

النسبة المئوية%	القطاع
80.20	الخدمات
18.90	الصناعة
0.90	الزراعة

المصدر: إحصائيات البنك العالمي 2018

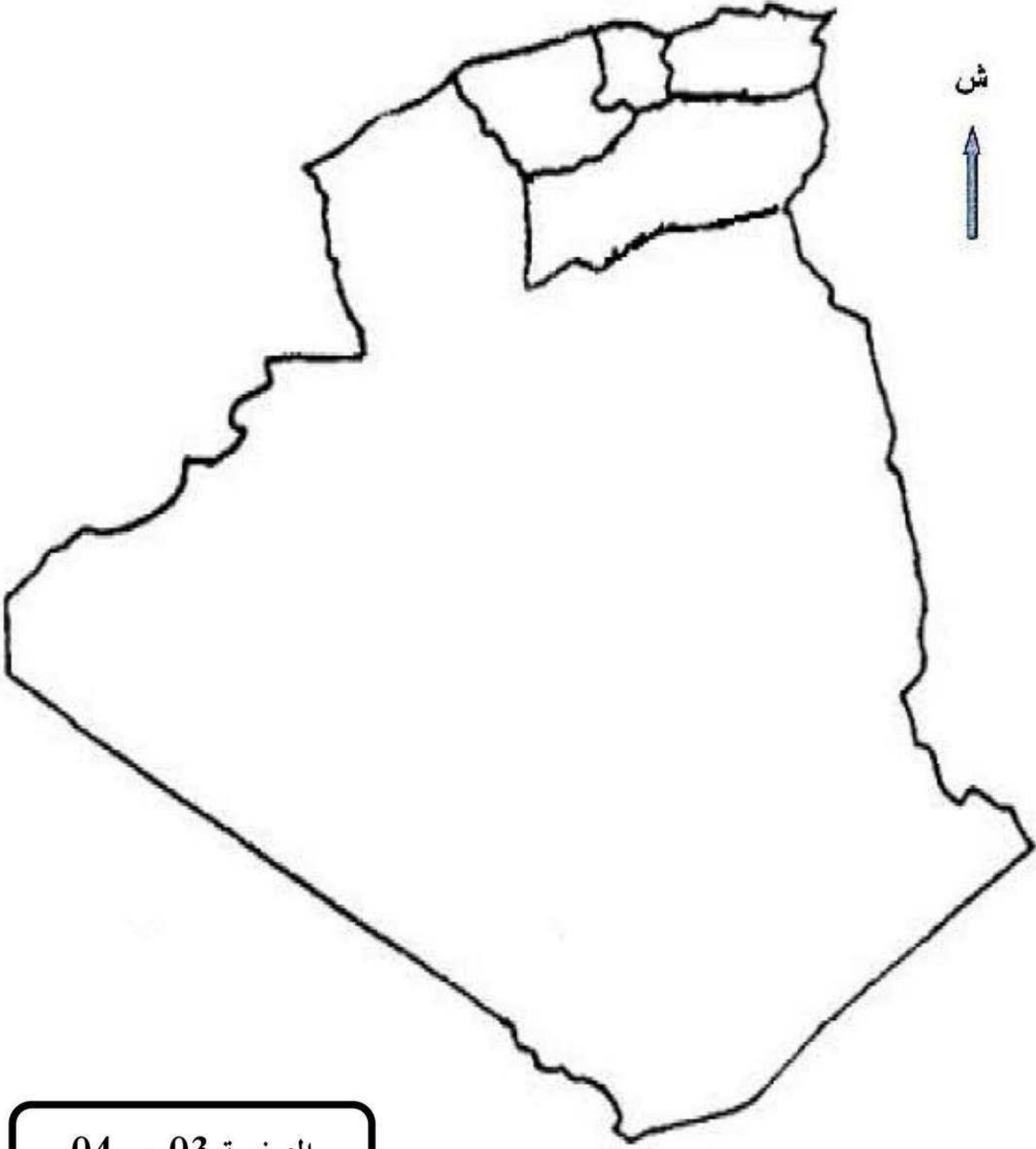
- مثل معطيات الجدول بدائرة نسبية: نق = 3 سم

3/ وقع على خريطة أوروبا في الصفحة 04 الدول المنظمة للاتحاد الأوروبي سنة 1973

الجزء الثاني: (04 ن)

تطافرت مجموعة من العوامل جعلت من الاتحاد الأوروبي قوة اقتصادية كبرى رغم المعوقات التي تعترضه ورغم ما صابه من دمار وخراب الحرب العالمية الثانية  
المطلوب: انطلاقا من العبارة واعتمادا على ما درست اكتب مقالا جغرافيا تبرز فيه  
1/ العوامل الطبيعية والبشرية التي جعلت الاتحاد الأوروبي قوة اقتصادية كبرى  
2/ المعوقات الخارجية التي تعترضه

العنوان:



الصفحة 03 من 04

ينجز العمل على الخريطة وتعاد مع أوراق الإجابة

المفتاح

العنوان:



الصفحة 04 من 04

انتهى/ بالتوفيق

المفتاح

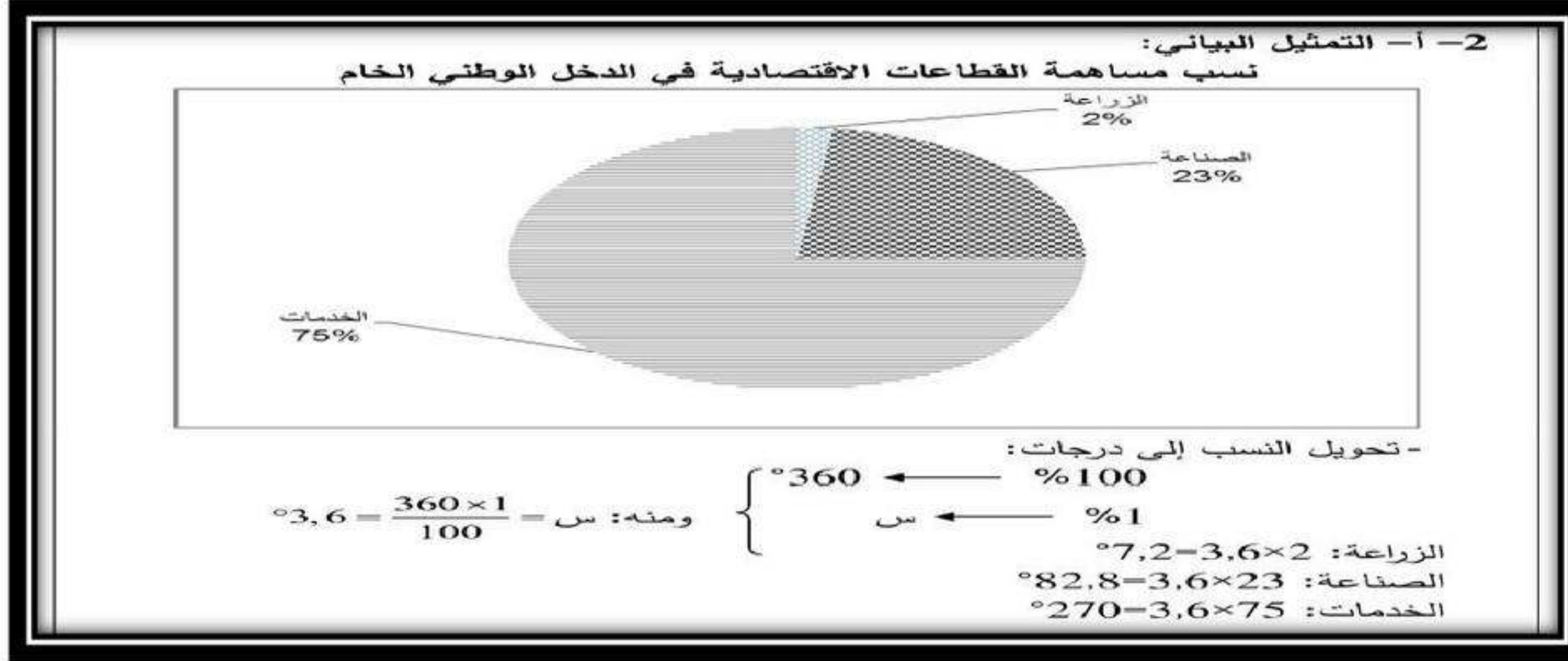
تصحيح اختبار الفصل الثاني السنة الثالثة ثانوي الشعبة علمي / لغات (التاريخ) (2023/2022)

العلامة	الإجابة	السؤال										
0.5 =3* ن1.5	المفاوضات: هي محادثات بين طرفين أو أكثر لمناقشة قضايا متنازع عليها قصد الوصول الى اتفاق. تقرير المصير: أحد مبادئ هيئة الأمم المتحدة، يدعو إلى حرية الشعوب في اختيار مصيرها بنفسها. الاستفتاء: هو إلقاء الشعب برأيه في القضايا الوطنية عن طريق التصويت بنعم أو لا، وهو نمط ديمقراطي	1/ تعريف المفاهيم										
0.5 * 5 = ن2.5	<table border="1"> <tr> <td>01</td> <td>الاوراس (مصطفى بن بولعيد)</td> </tr> <tr> <td>02</td> <td>الشمال القسنطيني (ديدوش مراد)</td> </tr> <tr> <td>03</td> <td>القبائل (كريم بلقاسم)</td> </tr> <tr> <td>04</td> <td>العاصمة (رابح بيطاط)</td> </tr> <tr> <td>05</td> <td>وهران (العربي بن مهيدي)</td> </tr> </table> 	01	الاوراس (مصطفى بن بولعيد)	02	الشمال القسنطيني (ديدوش مراد)	03	القبائل (كريم بلقاسم)	04	العاصمة (رابح بيطاط)	05	وهران (العربي بن مهيدي)	2/ تقسيم الثورة لسنة 1954 مع اسناد المناطق لقادتها
01	الاوراس (مصطفى بن بولعيد)											
02	الشمال القسنطيني (ديدوش مراد)											
03	القبائل (كريم بلقاسم)											
04	العاصمة (رابح بيطاط)											
05	وهران (العربي بن مهيدي)											
4*0.5 = ن02	<table border="1"> <tr> <td>1958-02-08</td> <td>1957/03/05</td> <td>1957/2-4 إلى 1-28</td> <td>1956/10/22</td> </tr> <tr> <td>حادثة ساقية سيدي يوسف</td> <td>استشهاد العربي بن مهيدي</td> <td>اضراب 08 ايام</td> <td>اختطاف طائرة الزعماء الخمسة (القرصنة الجوية الفرنسية)</td> </tr> </table>	1958-02-08	1957/03/05	1957/2-4 إلى 1-28	1956/10/22	حادثة ساقية سيدي يوسف	استشهاد العربي بن مهيدي	اضراب 08 ايام	اختطاف طائرة الزعماء الخمسة (القرصنة الجوية الفرنسية)	3/ اكمال جدول الاحداث		
1958-02-08	1957/03/05	1957/2-4 إلى 1-28	1956/10/22									
حادثة ساقية سيدي يوسف	استشهاد العربي بن مهيدي	اضراب 08 ايام	اختطاف طائرة الزعماء الخمسة (القرصنة الجوية الفرنسية)									
مقدمة ن0.5 العرض ن1.5 ن1.5	<p>يعتبر مؤتمر الصومام نقطة تحول في مسار الكفاح الجزائري فقد اعطى للثورة نفسا جديدا وتنظيما أكثر شمولية. فماهي ابرز أسباب عقد المؤتمر؟ وماهي ابرز القرارات والنتائج التي خرج بها المؤتمر؟ ذ.</p> <p>عقد مؤتمر الصومام بالولاية التاريخية الرابعة قرية إفري أوزلاقن بواد الصومام يوم 20 اوت 1956</p> <p>1/ أسباب ودوافع عقد المؤتمر :</p> <ul style="list-style-type: none"> <li><input type="checkbox"/> دراسة نتائج الثورة المسلحة</li> <li><input type="checkbox"/> وضع الخطط للاستمرار في الثورة</li> <li><input type="checkbox"/> وجوب قيادة موحدة للثورة.</li> <li><input type="checkbox"/> دراسة ما يحتاجه الثوار في معاركهم.</li> <li><input type="checkbox"/> التنظيم العسكري والثوري لها</li> <li><input type="checkbox"/> تحديد مناطق القتال من خلال المعركة.</li> </ul> <p>2/ أبرز النتائج والقرارات التي خرج بها:</p> <ul style="list-style-type: none"> <li>👉 إصدار ميثاق الصومام</li> <li>👉 تأسيس المجلس الوطني للثورة</li> <li>👉 إنشاء لجنة التنسيق والتنفيذ بلجان فرعية</li> <li>👉 تقسيم الجزائر إلى 06 ولايات عسكرية</li> <li>👉 إقرار مبدأ القيادة الجماعية والأولوية للداخل على الخارج والسياسي على العسكري</li> <li>👉 البناء الهيكلي لجيش التحرير الوطني</li> </ul>	المقال التاريخي										

خاتمة 0.5	خلاصة القول ان مؤتمر الصومام كان بمثابة انطلاقة جديدة للثورة مكانها من الاستمرارية والتوسع والتنظيم
--------------	-----------------------------------------------------------------------------------------------------

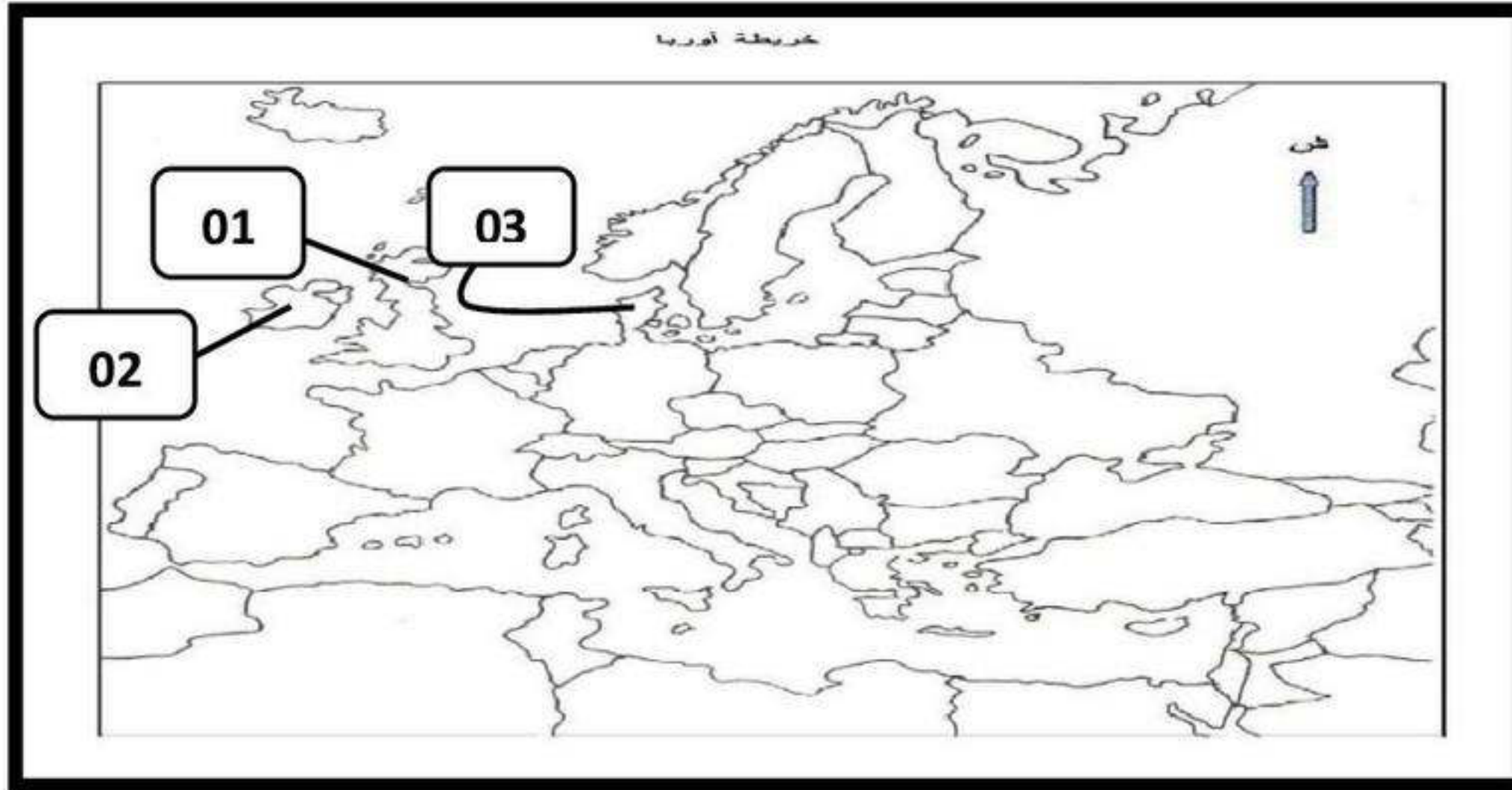
تصحيح اختبار الفصل الثاني السنة الثالثة ثانوي الشعبة علمي / لغات (التاريخ) (2023/2022)

0.75 0.75 =0.5 02	1/ تعريف المفاهيم الشكل الاقتصادي: اتحاد مجموعة دول موثق في اتفاقية له هياكل عضوية وتنظيمية موحدة يتمتع بالشخصية القانونية وله مجال جغرافي تلغى فيه كل الحواجز الجمركية بين الأعضاء الاتحاد الأوروبي: هو اتحاد مجموعة من الدول الأوروبية اتحادا جمركيا ظهر بموجب اتفاقية روما في 27 مارس 1957 بين 6 دول أوروبية وتحولت المجموعة الاقتصادية إلى الاتحاد الأوروبي بموجب معاهدة ماستريخت ويضم 28 دولة التجارة الداخلية: هي تلك التجارة التي يتم من خلالها تداول السلع والخدمات بين الأفراد المقيمين بنفس الدولة.	02
----------------------------	------------------------------------------------------------------------------------------------------------------------------------------------------------------------------------------------------------------------------------------------------------------------------------------------------------------------------------------------------------------------------------------------------------------------------------------------------------------------------------------------------------------------	----



02	2/ التمثيل البياني الدائرة النسبية	المشكلين
----	------------------------------------	----------

3*0.5 = 1.5 العنوان المفتاح = 0.5	01 بريطانيا 02 أيرلندا 03 الدنمارك	3/ الدول المنظمة للاتحاد الأوروبي سنة 1973
-----------------------------------------------------	------------------------------------------	--------------------------------------------



مقدمة 0.5 العرض 02 01	4/ المقال الجغرافي هو اتحاد مجموعة من الدول الأوروبية اتحادا جمركيا ظهر بموجب اتفاقية روما في 27 مارس 1957 بين 6 دول أوروبية. فماهي أبرز العوامل الطبيعية والبشرية التي جعلت منه قوة اقتصادية كبرى؟ وما هي المعوقات الخارجية التي تعترضه؟ 1/العوامل الطبيعية: * الموقع الاستراتيجي * اتساع المساحة لزراعية 2.6 م ه * تنوع المناخ * وفرة الموارد مائية * طول الواجهة البحرية 4000 كم * توفر الموارد الطبيعية (الفحم، البترول، الغاز الطبيعي، الكهرباء، الحديد، البوكسيت) 2/العوامل الاقتصادية والبشرية: * النظام الرأسمالي * البنية التحتية وكثافة شبكة المواصلات * قوة الاستثمارات * التحكم في التكنولوجيا * اتساع السوق الاستهلاكية * اليد العاملة المؤهلة والخبرة * تطور البحث العلمي 3/ المعوقات الخارجية التي تعترضه: * التبعية في المواد الأولية إذ تستورد أزيد من 70% من حاجياتها * شدة المنافسة الخارجية مع الو م أ واليابان والصين * ضعف الوزن السياسي وعدم استقلالية السياسة الخارجية للاتحاد عن الو م أ * الهجرة غير شرعية	02 01
-----------------------------------	--------------------------------------------------------------------------------------------------------------------------------------------------------------------------------------------------------------------------------------------------------------------------------------------------------------------------------------------------------------------------------------------------------------------------------------------------------------------------------------------------------------------------------------------------------------------------------------------------------------------------------------------------------------------------------------------------------------------------------------------------------------------------------------------------------------------------------------------------------------------------------------------------------------------------------------------------	----------

الخاتمة 0.5	يمكن القول في الأخير ان بفضل تكتل دول الاتحاد الأوروبي استطاعت تحقيق معدلات نمو مرتفعة واصبح قطب منافس للو.م.أ
----------------	----------------------------------------------------------------------------------------------------------------