

الجمهورية الجزائرية الديمقراطية الشعبية

مديرية التربية لولاية سطيف

وزارة التربية الوطنية

ثانوية الاخوين حوفي -العلمة

الشعبة: أداب وفلسفة	مارس 2023	المدة: 02سا
الاختبار الثاني للثلاثي الثاني في مادة التاريخ والجغرافيا		

التاريخ:

الجزء الأول: (06 نقاط)

1) " . أعترف شارل ديغول في النهاية بأنه ليس من الممكن أن يفرض حله بالقوة، ولهذا اضطر بعد شهرين للجلوس الى طاولة المفاوضات مع جبهة التحرير الوطني بقيادة بلقاسم ليوافق بعدها على وقف إطلاق النار تطبيقا لـ اتفاقيات ايفيان وهذا يعتبر نصرا مبينا يجسد استقلال الجزائر، ووحدة ترابها بما فيها الصحراء التي حاول ديغول فصلها عن بقية التراب الوطني...".

المرجع: شهادات ومواقف - بن يوسف بن خدة - ص 321.

المطلوب: اشرح ما تحته خط في النص.

2) عرف بالشخصيات الواردة في النص، وبالشخصية الواردة في المرجع.

3) أكمل الجدول التالي:

التاريخ	الحدث
.....	اضراب 08 أيام في الجزائر
17 أكتوبر 1961
.....	التصحيح الثوري

الجزء الثاني: (04 نقاط)

"... كان وصول ديغول الى الحكم يعبر في نفس الوقت عن المأزق الذي وضعت فيه حرب الجزائر الاستعمار الفرنسي، وعن طموح الأوساط المسيرة الفرنسية الى التخلص من التناقضات الداخلية التي تعرقل حلها للمشاكل. كانت سياسة السلطة الديغولية في الجزائر ذات هدف مزدوج، إضعاف القوات المسلحة للثورة بتقوية الحرب واستخلاص فئة برجوازية صغيرة..."

المطلوب: انطلاقا من الفقرة واعتمادا على ما درست أكتب مقالا تاريخيا تبرز فيه:

1- طبيعة المأزق الذي وضعت فيه حرب الجزائر الاستعمار الفرنسي؟

2- سياسة ديغول العسكرية المنتهجة لإضعاف الثورة؟

الجغرافيا

الجزء الأول: (06 نقاط)

1) "... ينتظم المجال الإقليمي للاتحاد الأوروبي حول فضاء مركزي يمتد من جنوب شرق بريطانيا الى شمال إيطاليا مرورا بفرنسا والذي ينتج قرابة الدخل الوطني الخام للدول الأعضاء في هذا الاتحاد وهو من أقوى المناطق في العالم مثل: الولايات المتحدة الأمريكية أو مجمع المدن في اليابان نجد فيها عاصمتين عالميتين..." (ملاحظة بريطانيا انسحبت من الاتحاد فيما بعد) المصدر: الكتاب المدرسي ص 107

المطلوب: اشرح ما تحته خط في النص

2) على خريطة أوروبا الصماء المرفقة وقع دول قارة أوروبا الواردة في النص اعلاه.

3) اليك الجدول التالي الذي يمثل نسب أكبر الشركاء التجاريين للولايات المتحدة الأمريكية في العالم سنة 2014:

الدول	الاتحاد الاوروي	كندا	الصين	المكسيك	اليابان	بقية العالم
النسب%	17.49	16.63	14.87	13.46	5.06	32.49

المصدر: <https://ar.knoema.com/atlas/>

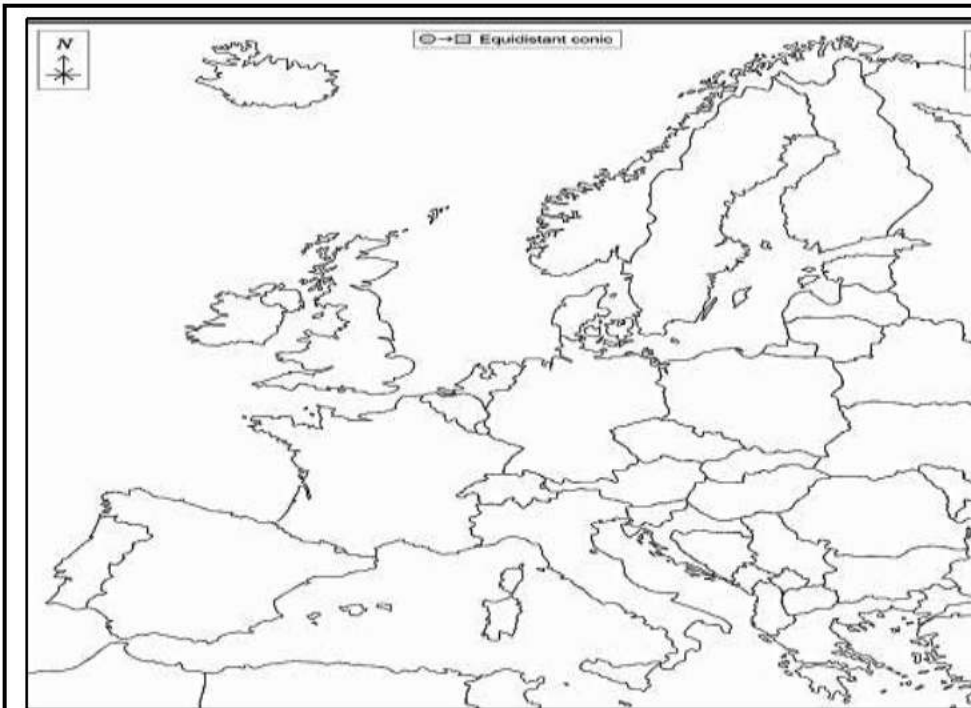
المطلوب: حول معطيات الجدول الاحصائي الى دائرة نسبية قطرها = 08 سم

الجزء الثاني: (04 نقاط)

"... تعد تجربة الاتحاد الأوروبي من أكثر التجارب التكاملية الاندماجية الإقليمية نجاحا ... وقد تطورت هذه التجربة الأوروبية في التعاون والتكامل الإقليمي على مدى أكثر من نصف قرن الى أن أصبحت على مشارف وحدة سياسية تضم غالبية الدول الأوروبية.." " المرجع: د. محمد عيد، الاتحاد الأوروبي كظاهرة إقليمية متميزة، ص 06
المطلوب: اطلاقا من الفقرة واعتمادا على ما درست، أكتب مقالا جغرافيا تبين فيه:

1- مظاهر التكامل والاندماج داخل الاتحاد الأوروبي.

2- أثر التطور العددي على القوة الاقتصادية.



اللقب:

الاسم:

القسم:

الإجابة النموذجية للاختبار الثاني في مادة التاريخ والجغرافيا

التاريخ:

الجزء الأول: (06 نقاط)

المطلوب	العناصر	تتقيط
شرح ما تحته خط من النص 02	المفاوضات: صيغة دبلوماسية سلمية عبارة عن محادثات تتم بين طرفين متنازعين أو أكثر من أجل تسوية سلمية للقضية المتنازع عليها تكون معلنة أو خفية وتنتهي باتفاق أو دونه مثل المفاوضات الجزائرية الفرنسية.	0,5
	وقف إطلاق النار: هي حالة مؤقتة من وقف الحرب أو الصراع المسلح بين الجزائر وفرنسا ابتداء من 19 مارس 1962، حيث يتفق الطرفان على وقف الأفعال العوانية من الطرفين. عن طريق معاهدة رسمية (اتفاقية إيفيان).	0,75
	اتفاقيات إيفيان: هي نتائج مفاوضات من 07-18 مارس 1962 بين القادة الجزائريين من الحكومة المؤقتة وبين الموفد الفرنسي لويس جوكس، سمحت هذه الاتفاقيات بإعلان وقف إطلاق النار ووضع حد لحرب الجزائر.	0,75
التعريف بالشخصيات التاريخية 02	بن يوسف بن خدة: مناضل ثوري جزائري عضو حزب الشعب وحركة انتصار الحريات الديمقراطية، قائد المركزيين ثم وزير ثم رئيس الحكومة المؤقتة.	0,5
	كريم يقاسم: مناضل ثوري جزائري عضو في حزب الشعب والمنظمة الخاصة والمجموعة 06، قائد ولاية القبائل وحضر مؤتمر الصومام وعضو الوفد المفاوض في إيفيان.	0,75
	شارل ديغول: جنرال ثم رئيس فرنسي، ترأس الجمهورية الخامسة. صاحب مشروع قسنطينة، سلم الشجعان، موقع استقلال الجزائر..	0,75

03 أكمل الجدول التالي 02ن:

التتقيط	تاريخه	الحدث
0,75	28 جانفي الى 04 فيفري 1957	اضراب 08 أيام في الجزائر
0,5	17 أكتوبر 1961	مظاهرات المهاجرين الجزائريين بباريس
0,75	19 جوان 1965	التصحيح الثوري

الجزء الثاني (04 نقاط):

وضعية إدماج		
0,25	احترام المتعلم ما هو مطلوب منه، حيث يجب أن نتأكد أن المتعلم فهم ما هو مطلوب منه فعلا أي تحديد الإشكالية بإز ظروف وصول ديغول الى السلطة 1958 وسياسته اتجاه الثورة التحريرية	الملائمة
0,25	الجانب المهيج أي إخضاع المنتج للمهيجية (وجود مقدمة وعرض وخاتمة) إلى جانب التسلسل المنطقي للإجابة.	الاتساق والاتساجم
1,5	طبيعة المأزق الذي وضعت فيه حرب الجزائر الاستعمار الفرنسي: - فشل كل الخطط والاستراتيجيات الفرنسية السابقة في مواجهة الثورة. - الاضطرابات السياسية داخل فرنسا (السقوط المتوالي للحكومات) ومحاولة الانقلاب على ديغول. (انقسامات سياسة وعسكرية) - خسائر بشرية في الجيش الفرنسي وانهاك الخزينة بسبب النفقات العسكرية. - اهتزاز مكانة فرنسا الدولية نتيجة جرائمها في الجزائر والضغط العالمي عليها. سياسة ديغول العسكرية لإضعاف الثورة: - مضاعفة عدد القوات الفرنسية. - انشاء خط شال على الجبهة الشرقية فقط تكملة لخط موريس بهدف عزل الثورة أكثر. - القيام بالعمليات العسكرية مثل عملية التاج بالولاية 05 والحزام بالولاية 04 سنة 1959. - اعتقال واعتقال قادة الثورة - الاستعانة بالعملاء وتسليح المستوطنين. - اتباع سياسة القمع والتعذيب والتفتيش والتقنين	العرض
0,5	خلو الورقة من التشطيب، نظيفة، ترك الهامش، علامات الوقف، تسطير العناصر وترقيمها)، كان يعطي المتعلم رأيه أو يبرز شخصيته في الموضوع أو يوظف معارف شخصية -رغم مخططات ديغول العسكرية والسياسية والاقتصادية الا انه فشل في اخماد نار الثورة.	معيان الإتيقان

تقبل إجابات أخرى حسب ما درسه التلميذ وتصب في لب الموضوع

الجغرافيا:

الجزء الأول: (06 نقاط)

01) شرح ما تحته خط في النص (02ن):

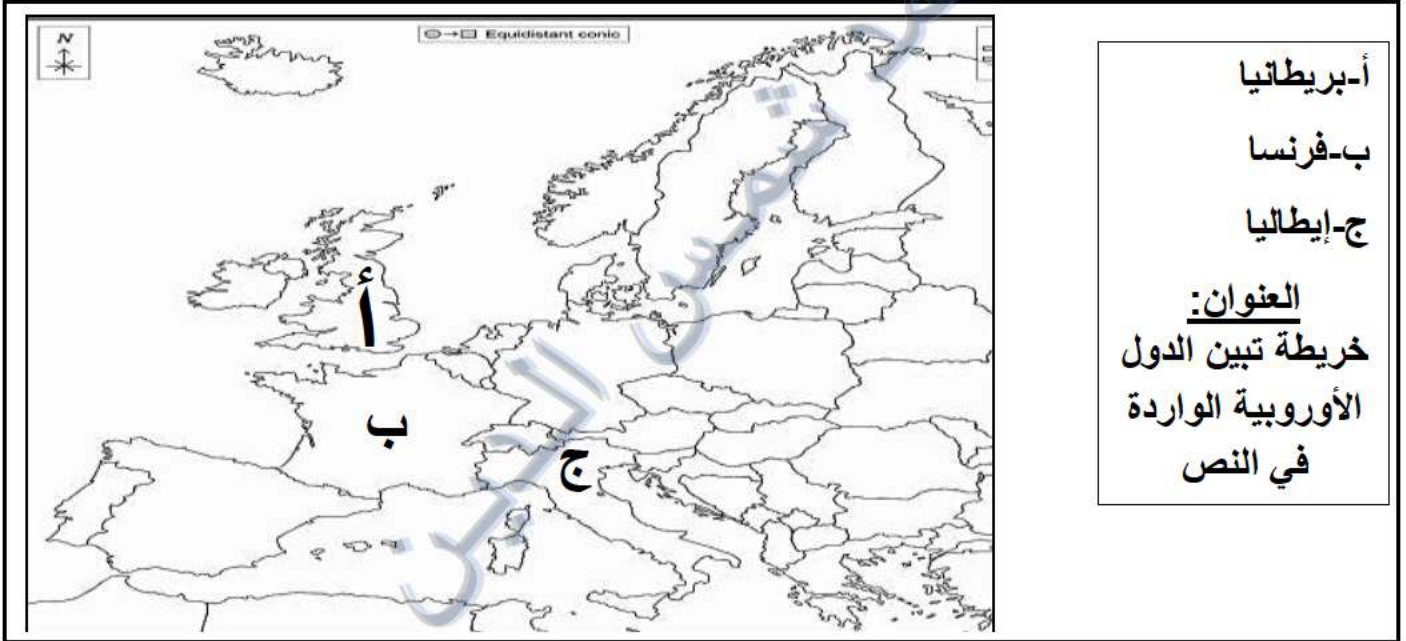
الاتحاد الأوروبي: تكتل واتحاد مجموعة دول (27 دولة) تقع في قارة أوروبا، بدأ هذا الاتحاد كسوق مشتركة في 1957، من 06 دول ليتوسع تدريجيا ويتأسس في 1993، بناء على معاهدة ماستريخت، يهدف للتعاون والتكامل في مختلف المجالات بين الدول الأعضاء. **0.75ن**

الدخل الوطني الخام: هو الثروة المنتجة في البلاد (السلع والخدمات..) خلال سنة واحد. **0.5ن**

مجمع المدن: ميغالوبوليس يطلق على منطقة حضرية واسعة تتميز بتلاحم عمراني وتعدد المدن (مدن متلاصقة متلاحمة) وتعتبر المحرك الاقتصادي للبلاد. **0.75ن**

2) التوقيع على خريطة قارة أوروبا الصماء وقع الدول الأوروبية الواردة في النص أعلاه. (02ن)

أ-بريطانيا. **0.5ن** ب-فرنسا. **0.5ن** ج-إيطاليا. **0.5ن** العنوان: **0.25ن** -المفتاح: **0.25ن**



3) تحويل معطيات الجدول الاحصائي الى دائرة نسبية (02ن):

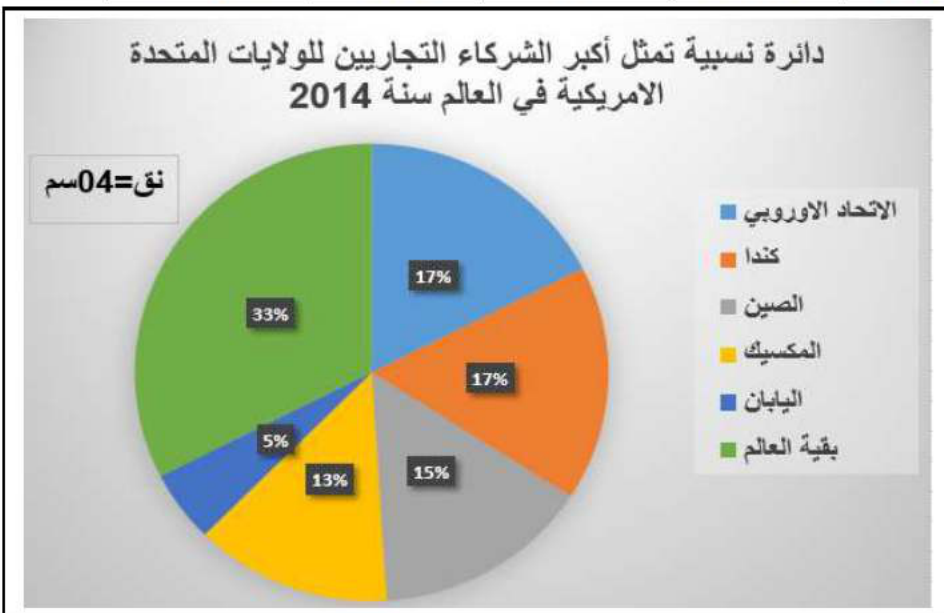
العمليات الحسابية: **0.5ن**

الدول	الاتحاد الاوروي	كندا	الصين	المكسيك	اليابان	بقية العالم
النسب %	17.49	16.63	14.87	13.46	5.06	32.49
الدرجات	62,96	59,86	53,53	48,45	18,21	116,96

العنوان: **0.25ن**

المفتاح: **0.25ن**

الانجاز: **01ن**



وضعية إدماج رقم 01		
0,25	احترام المتعلم ما هو مطلوب منه، حيث يجب أن نتأكد أن المتعلم فهم ما هو مطلوب منه فعلا أي تحديد الإشكالية بإبراز كيف ساهمت سياسة التكامل والاندماج والتطور العددي في القوة الاقتصادية للاتحاد الأوروبي	الملائمة
0,25	الجانب المنهجي أي إخضاع المنتج للمنهجية (وجود مقدمة وعرض وخاتمة) إلى جانب التسلسل المنطقي للإجابة.	الاتساق والانسجام
0,25 06 x	<p>1- مظاهر التكامل والاندماج داخل الاتحاد الأوروبي:</p> <ul style="list-style-type: none"> - اعتماد سياسة زراعية مشتركة قائمة على مبدأ الأفضلية (أوروبا الخضراء). - المشاريع الصناعية المشتركة (طائرة إيرباص) - العملة الموحدة اليورو. - إلغاء التعريفات الجمركية بين دوله. - حرية التنقل للأشخاص والبضائع والأموال (الاستثمارات). - سياسة الصيد البحري المشتركة (أوروبا الزرقاء). <p>2- أثر التطور العددي على القوة الاقتصادية للاتحاد الأوروبي:</p> <ul style="list-style-type: none"> - تزايد الإمكانيات البيعية والبشرية (المساحة، الموارد، السكان) - احتلال المراتب الأولى في العديد من المنتجات الزراعية. - تزايد حجم الاستثمارات. - ضخامة المشاريع الصناعية والطائرات والمركبات الفضائية. - ارتفاع حجم المساهمة التجارية عالميا. - قوة العملة الأوروبية، ومنافستها الدولار 	العرض
0,5	خلو الورقة من التشطيب، نظيفة، ترك الهامش، علامات الوقف، تسطير العناصر وترقيمها)، كأن يعطي المتعلم رأيه أو يبرز شخصيته في الموضوع أو يوظف معارف شخصية -قوة الاتحاد الأوروبي الاقتصادية هي نتاج تجربة التكامل والاندماج.	معيار الإقتان

تقبل إجابات أخرى حسب ما درسه التلميذ وتصب في لب الموضوع



PROF_ZAIR_HIST_GEO



تاريخ وجغرافيا PROF ZAIR



الاستاذ زاير شمس الدين