

المستوى: 3 عت + تق + لغات	إختبار الثلاثي الثاني في التاريخ والجغرافيا	السنة الدراسية : 2016 - 2017
التوقيت : ساعتان		

التاريخ :

الجزء الأول : 06ن:

«... لقد أصبح من الألعاب المبتذلة أن تقوم الحكومات الفرنسية بإخراج فكرة جديدة قبيل انعقاد كل دورة من دورات الجمعية العامة للأمم المتحدة لتضلل الرأي العام الفرنسي والرأي العام العالمي وتخدرهما. ففي سنة 1956 نادى " غي مولي " بثألوته المشهور: وقف القتال ثم الانتخابات ثم المفاوضات.

وفي سنة 1957 خرج " لاکوست " بفكرة " الإطار القانوني " التي لم يكتب لها حتى أن يقع بشأنها تصويت في البرلمان الفرنسي. وفي سنة 1958 ابتدع الجنرال " ديغول " " سلم الشجعان " ، وفي سنة 1959 كان اعترافه بمبدأ تقرير المصير... »

د. عبد الله شريط، الثورة الجزائرية في الصحافة الدولية 1960، ص 41، 42

المطلوب :

1- أشرح ما تحته خط في النص.

2 - أكمل الجدول التالي :

التاريخ	الحدث
1955- 08 -20
.....	تأسيس اللجنة الثورية للوحدة والعمل
.....	عملية القرصنة الجوية
1961 - 10 - 17

جزء الثاني : 04ن

يشاع عن فرنسا انها وهبت الاستقلال للجزائر... لكن الواقع النضالي للثورة الجزائرية هو الذي فرض عليه ذلك

المطلوب: انطلاقا من العبارة و اعتمادا على ما درست اكتب موضوعا تاريخيا تبرز فيه:

1- إستراتيجية ديغول إزاء الثورة الجزائرية عسكريا.

2- ردود فعل الثورة عسكريا.

الجغرافيا :

الجزء الأول: 06ن

1- حدد مفهوم المصطلحات التالية: النطاقات - التكتل - الميغالوبوليس

2- إليك جدولا يمثل نسب مساهمة كل من الاتحاد الاوروبي واليوم.أ في الانتاج العالمي لبعض المواد الزراعية :

المحصول / الدول	الو - م - أ	الإتحاد الأوروبي
القمح	%11.8	%15.1
الذرة	%46.1	%04.9
الشعير	%05.1	%24.1

المطلوب:

- مثل أرقام الجدول بأعمدة بيانية وبمقياس رسم (1 سم = 5 %) ؟

3- على خريطة أوروبا المرفقة عين الدول الست المؤسسة للسوق الأوروبية سنة 1957؟

الجزء الثاني: 04ن

(... دخول دول جديدة (في الإتحاد الأوربي) يكتف من المبادلات التجارية و يزيد من ثقل و تأثير أوروبا عالميا ... اختلاف مستوى النمو الاقتصادي و الاجتماعي بين الدول 27 يزيد من الميزانية لإرتفاع مصاريف الاندماج ... من أجل تطوير إقتصادها و رفع مستواها إلى بقية الدول)
بناء أوروبا AGAUTHIER BREAL

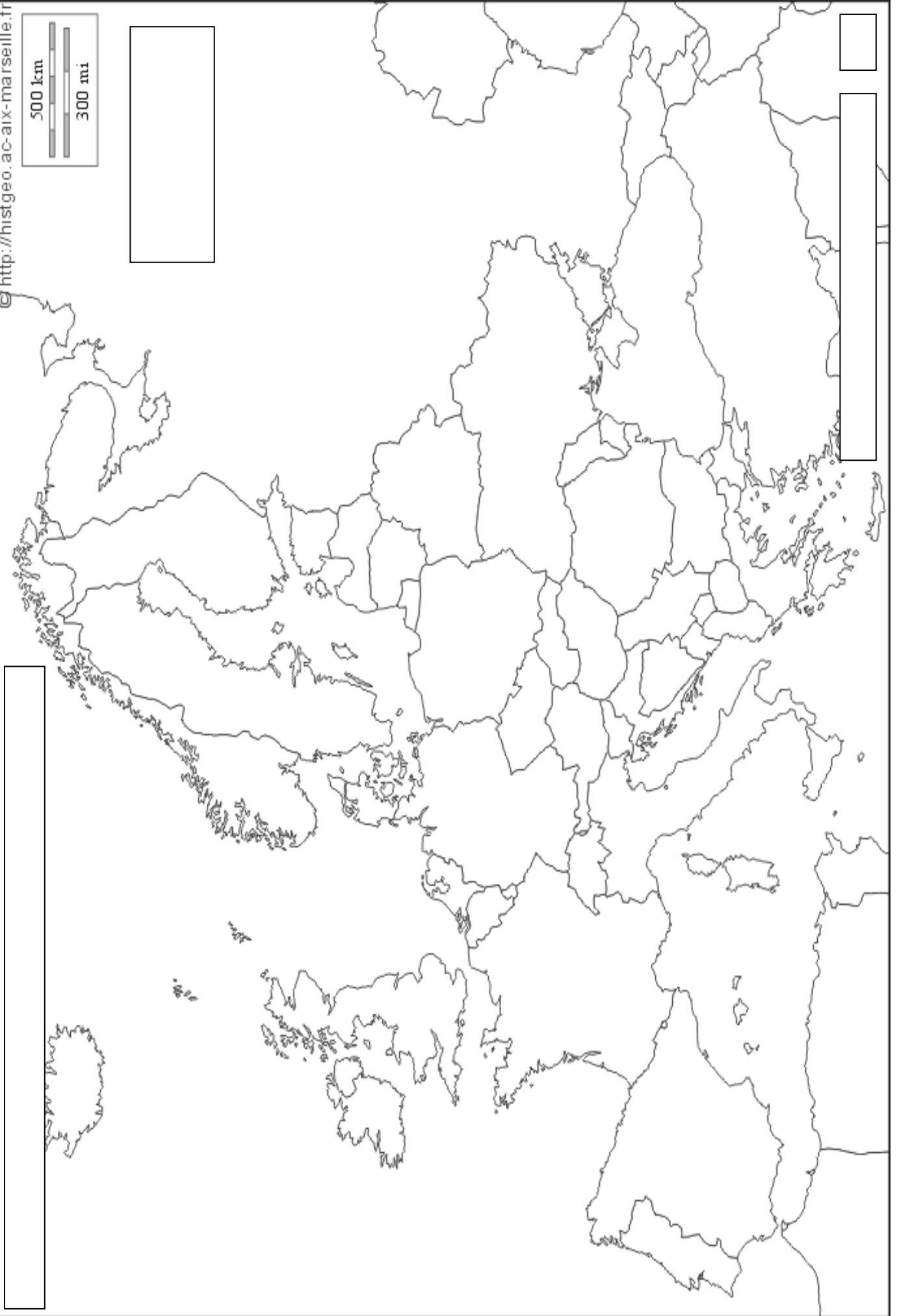
المطلوب : انطلاقا من السند و اعتمادا على ما درست أكتب مقالا جغرافيا تبين فيه .

1 - أهمية التكتل في التطور الاقتصادي للإتحاد الأوربي ؟

2 - أهم المشاكل التي تواجه الإتحاد الأوربي ؟

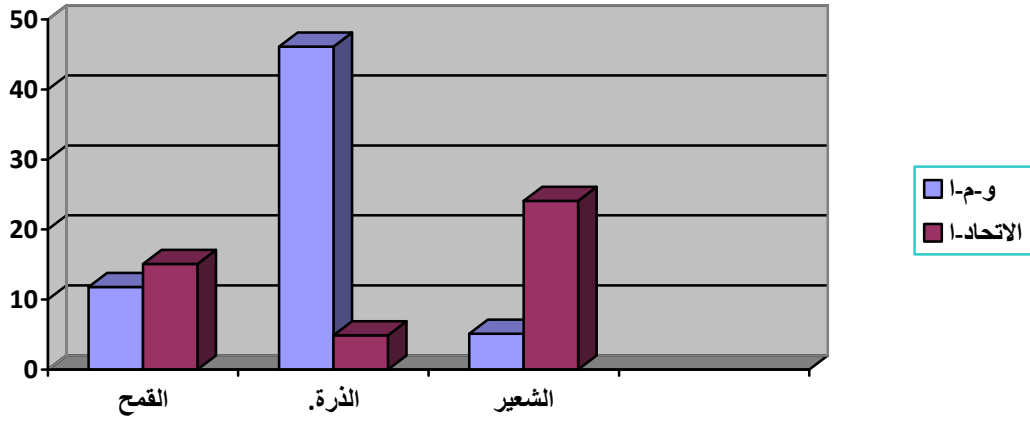
500 km

300 mi



التاريخ :		تصحيح إختبار الثلاثي الثاني		3 عت + تق + لغات
التقييم	المراحل	المضامين		
03	المفاهيم	<p>الأمم المتحدة : هيئة دولية أنشئت بعد الح ع 2 في 24 - 10 - 1945 غايتها تحقيق الأمن والسلام في العالم والحفاظ عليه .</p> <p>سلم الشجعان : سياسة و خديعة جاء بها الجنرال ديغول يوم 23 أكتوبر 1958 تدعي أن فرنسا تتسامح مع الذين حملوا السلاح ضدها شريطة أن يسلموا أنفسهم .</p> <p>تقرير المصير : هو حرية الشخص والمجتمع في تقرير حياته وسياسته داخل أراضيه بدون تدخل خارجي. وفي معنى آخر هو حق الشعوب في إختيار من يحكمهم بدون تدخل دولة أخرى.</p>		
		جدول الأحداث والتواريخ :		
0.75	إكمال الجدول	الحدث		
		تاريخه		
		1955 - 08 - 20	هجمات الشمال القسنطيني	
		1954 - 03 - 23	تأسيس اللجنة الثورية للوحدة والعمل	
03		1956 - 10 - 22	عملية الفرصنة الجوية	
		1961 - 10 - 17	مظاهرات المهاجرين بباريس	
0.5	مقدمة	ظروف وصول ديغول الى السلطة 1958 و سياسته اتجاه الثورة التحريرية ؟		
01.5	العرض	<p>إستراتيجية ديغول اتجاه الثورة عسكريا :</p> <ul style="list-style-type: none"> - مضاعفة القوات عدة وعتادا . - القيام بعمليات عسكرية مكثفة (المنظار، التاج، الحزام ...) - تجنيد المزيد من الحركى - تكليف الجنرال شال بتصفية الثورة . وإنشاء خط شال على الحدود الشرقية 		
01.5		<p>ردود فعل الثورة عسكريا:</p> <ul style="list-style-type: none"> - تصغير وحدات الجيش وعدم مواجهة العدو مباشرة (حرب العصابات) - تجنيد المزيد من أبناء الشعب الرافضين لسياسة ديغول العسكرية والاعرائية. - نقل الثورة إلى فرنسا (القيام بعمليات عسكرية) 		
0.5	الخاتمة	رغم مخططات ديغول العسكرية والسياسية والاقتصادية إلا أنه فشل في إخماد نار الثورة.		
الجغرافيا :				
0.75	المصطلحات	النطاقات: هي تخصيص مساحة زراعية واسعة جدا لإنتاج محصول واحد وهي ميزة تتميز بها الزراعة في الوم		
0.75		أ (مثل نطاق الذرة - القمح...) وتتطلب إمكانات مادية وطبيعية وبشرية ضخمة جدا		
0.5		التكتل : هو توحيد لكل الإمكانات المتوفرة في دولتين أو عدة دول واستغلالها بإستراتيجية مشتركة لرفع القدرة الإنتاجية (تكتل سياسي، اقتصادي، عسكري).		
		الميغالوبوليس (مجمع المدن): تجمع حضاري يتشكل من عدة مدن ذات تعداد وكثافة ديمغرافية كبيرة تتميز بتعدد أنشطتها الاقتصادية ووفرة خطوط المواصلات بينها تمتد على شكل شريط شبه لمئات الكيلومترات .		
		أعمدة بيانية تمثل مساهمة كل من الولايات المتحدة والإتحاد الأروبي في بعض المواد الزراعية		
0.25	التمثيل البياني:	العنوان		
0.25		المقياس		
		الإنجاز		

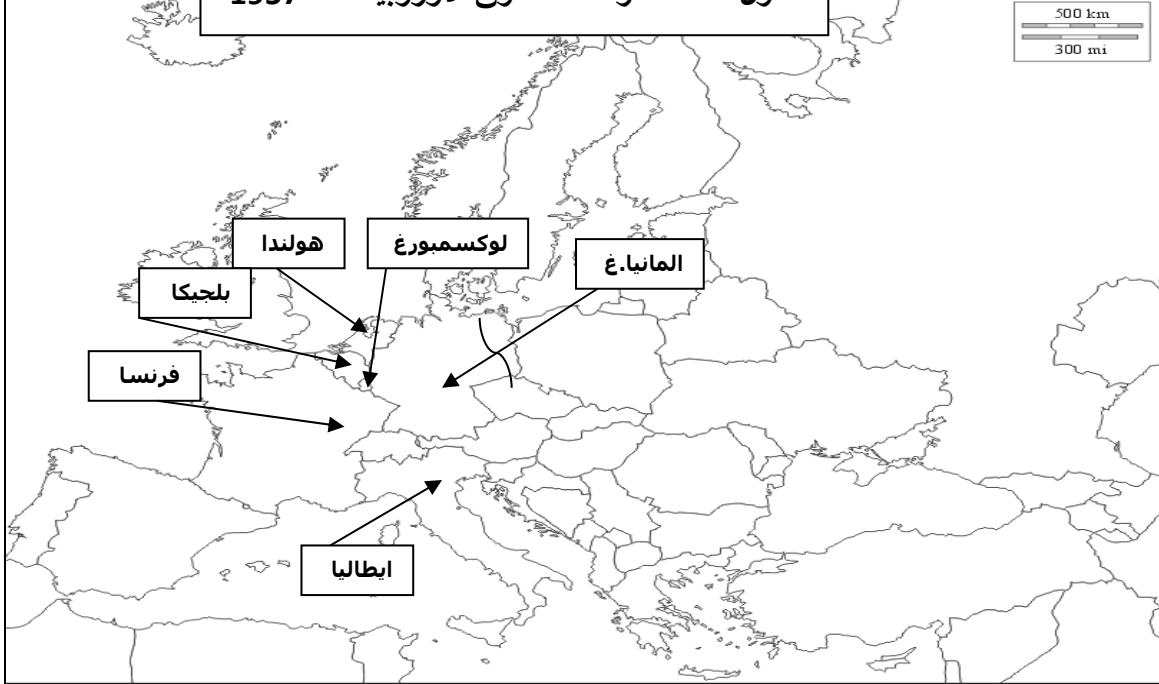
01.5



3- التوقيع على الخريطة:

الدول الست المؤسسة للسوق الأوروبية سنة 1957

http://histgeo.ac-aix-marseille.fr



02

0.5

السند يطرح اشكالية دور واهمية سياسة التكتل في تطور اوربا و المشاكل التي تواجهها

مقدمة

01.5

أهمية التكامل في التطور الاقتصادي للاتحاد الأوربي :

- 1 - مكنها من تجاوز خلافاتها و توحيد إمكانياتها و حسن إستغلالها
- 2 - حولها إلى قطب اقتصادي يحتكر أكثر من 42% من م ت ع و 1/2 الاستثمارات العالمية
- 3 - توحيد عملتها و توسيع سوقها الداخلية بإلغاء الحواجز و التوسع في شرق القارة
- 4 - مكنها من استعادة مكانتها الاقتصادية و السياسية عالميا

العرض

01.5

أخطر المشاكل التي تواجه الاتحاد :

- شدة المنافسة الخارجية (الو م أ . اليابان) و غزو البضائع الصينية .
- ضخامة فاتورتها من الواردات الطاقوية .
- التخلف و الضعف الاقتصادي للدول حديثة الانضمام .
- الأزمات المالية لبعض الدول (اليونان) .
- إرتفاع نسبة البطالة .
- إرتفاع نسبة الشيخوخة .
- عدم إحترام مبدأ الافضلية .
- الفوارق في التطور بين الدول الأعضاء .

0.5

التحديات التي تواجه المجموعة الأوروبية تؤكد نجاح سياسة التكتل

الخاتمة