

على الممتحن أن يختار أحد الموضوعين التاليين :  
الموضوع الأول

التاريخ :

الجزء الأول:(06 نقاط)

"... إختيار الجنرال ديغول مدينة قسنطينة لبث مشروعه لم يكن عفويا فقسطنطينة مركز هام لنشاط الحركة الوطنية، وتمثلت خطة ديغول من مشروع قسنطينة في القفز على المطالب الأساسية للشعب الجزائري المتمثل في تقرير المصير والاستقلال التام .. وهذا ما يفسر توجيه الإهتمام إلى سكان المدن، الذي أراد أن يجعل منهم المشروع طبقة خاضعة للإستعمار تمثل القوة الثالثة... " ...النت.

1- اشرح ما تحته خط في السند.

2- عرف بالشخصيات الآتية : جوزيف ستالين - ديدوش مراد - هوشي منه.

3- أكمل الجدول التالي:

التاريخ	الحدث
.....	تأسيس حلف الأطلسي
1961/10/17	.....
.....	إعلان قيام الدولة الجزائرية

الجزء الثاني:(04 نقاط)

لعبت الأزمة الكوبية دورا كبيرا في التوجّه نحو الإنفراج الدولي وجعله خيارا أنسب لتحسين العلاقة بين الشرق والغرب .

المطلوب: انطلاقا من الفقرة السابقة واعتمادا على ما درست اكتب مقالا تاريخيا تبين فيه:

1- دور الأزمة الكوبية في الإنفراج الدولي.

2- عوامل التقارب بين المعسكرين

**الجغرافيا:**  
**الجزء الأول: (06 نقاط)**

..هناك علاقات مجحفة في مختلف المجالات اأقتصادية والسياسية والثقافية بين **العالم المتقدم** والعالم المتخلف ...ففي مجال **التكنولوجيا** تسيطر **الشركات الاحتكارية** التابعة للدول الغنية على معظم الإختراعات وتحتكرها أما في مجال التمويل فتعاني الدول النامية من أعباء الديون الثقيلة.

1- اشرح ما تحته خط في السند.

2- الجدول التالي يمثل أكبر البورصات في العالم.

البورصات	وول ستريت	طوكيو	لندن	باريس	فرانكفورت
راسمالها (مليار دولار)	7500	2600	1750	750	630

المصدر: موسوعة الجغرافية الاقتصادية

**المطلوب:**

- أ- مثل نسب الجدول بأعمدة بيانية، بمقياس: 1سم ← 1000 مليار دولار ، 1سم ← بورصة
- ب- على خريطة العالم المرفقة وقع البورصات الواردة في الجدول .

**الجزء الثاني: (04 نقاط)**

تعد تجربة دول شرق وجنوب شرق آسيا إحدى التجارب الرائدة في مجال تنمية الموارد البشرية مما مكنها من التمتع والتأثير في الفضاء الاقتصادي العالمي.

**المطلوب:** انطلاقا من الفقرة السابقة واعتمادا على ما درست اكتب مقالا جغرافيا تبين فيه:

1- دور استثمار العنصر البشري في تنمية المنطقة.

2- مكانة المنطقة في الاقتصاد العالمي .

## الموضوع الثاني:

التاريخ :

### الجزء الأول:(06 نقاط)

... هذا وقد انعكس الانفراج الذي شهدته علاقات القطبين خلال مرحلة التعايش السلمي على أداء منظمة الأمم المتحدة ... كما أظهر القطبان قدرا من التفاهم والتعاون بهدف احتواء الأزمات الدولية ...

- 1- اشرح المصطلحات التي تحتها خط في السند.
- 2- عرف بالشخصيات التالية: - جون كينيدي - فيدال كاسترو - محمد بوضياف
- 3- على خريطة العالم المرفقة وقع الدول الخمس الدائمة العضوية في مجلس الأمن .

### الجزء الثاني:(04 نقاط)

تمثل هجومات الشمال القسنطيني 20 اوت 1955م نقطة التحول الأولى في الثورة التحريرية و أول إلتحام حقيقي بين جيش التحرير الوطني والشعب .

المطلوب: انطلاقا من الفقرة السابقة واعتمادا على ما درست اكتب مقالا تاريخيا تبين فيه:

1-أهداف هذه الهجومات.

2- نتائجها .

**الجزء الأول: (06 نقاط)**

«ما فتى الاتحاد الأوروبي يبني فضاء للسلام والرفاهية ، ويبني في الوقت الراهن مشروعا طموحا للاندماج الاقتصادي الكامل، ... كما تشكل آسيا الشرقية **بوزنها الديمغرافي** وانفتاحها البحري قطبا اقتصاديا ومركز جذب **للاستثمارات** ، تستحوذ على 1/4 الثروة العالمية تقريبا ، وهي مدينة في ذلك للثروة المالية اليابانية ونجاح **التينيات** وتحول الصين إلى قاطرة تجر كل عربات آسيا بعد انفتاحها الاقتصادي ونجاحها في إقامة المناطق الاقتصادية الخاصة على ساحلها الشرقي . » كتاب الجغرافيا للسنة الثالثة ثانوي – بتصرف

1- اشرح ما تحته خط في السند.

2- إليك جدولاً يمثل مناطق التبادل التجاري للجزائر سنة 2008.

الوحدة مليون دولار

المناطق	الصادرات	النسبة %	الواردات	النسبة %
المغرب العربي	1324	1.69	387	1.99
افريقيا	316	0.40	396	1.51
أوروبا	39970	51.09	21504	51.92
بقية العالم	36623	46.82	16869	44.58
المجموع	78233	100	39156	100

المطلوب:

1- مثل نسبة الصادرات والواردات بدائرتين نسبيتين بمقياس نق = 04 سم.

2- علق على الرسم

**الجزء الثاني: (04 نقاط)**

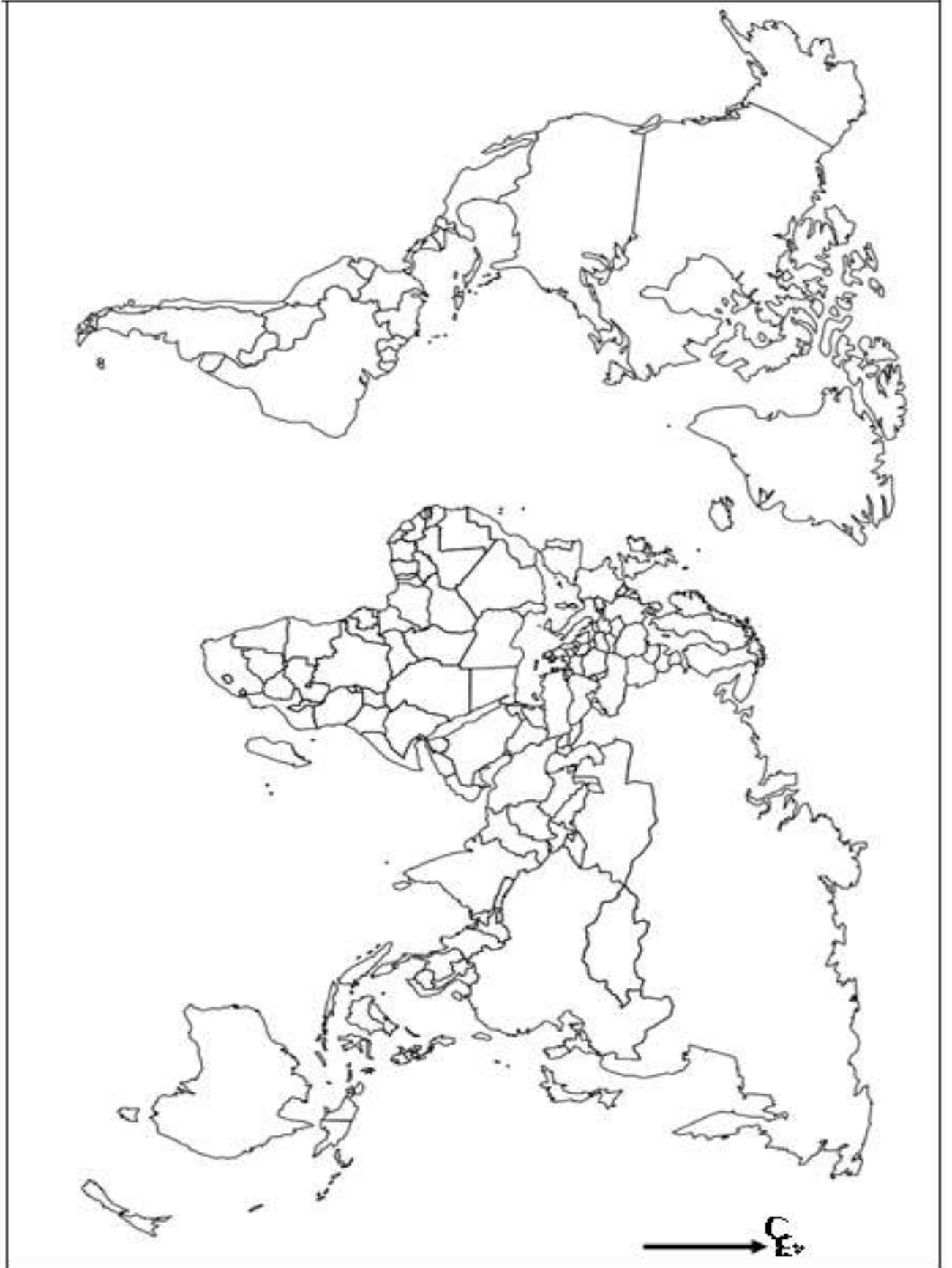
يعتبر القمح والأرز من المواد الإستراتيجية لشعوب العالم، وتحتكر الدول المتقدمة انتاجها وتسويقها بينما مساهمة دل العالم المتخلف تبقى ضعيفة.

**المطلوب:** انطلاقاً من الفقرة السابقة واعتماداً على ما درست أكتب مقالا جغرافيا تبرز فيه:

1- أهمية القمح والأرز للدول المصدرة والمستوردة.

2- العوامل المتحكمة في سوق المواد الغذائية الإستراتيجية.

## خريطة العالم



ينجز العمل المطلوب على الخريطة وتعاد مع أوراق الإجابة

الامتحان التجريبي المشترك بين ثانويتي الأخوين كيرد (اميه ونسة) والهادي بوعزيز(وادي العنقدة)

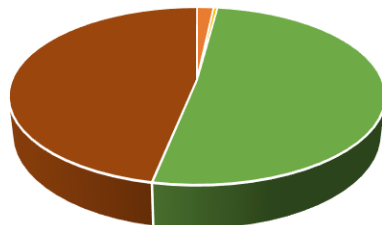
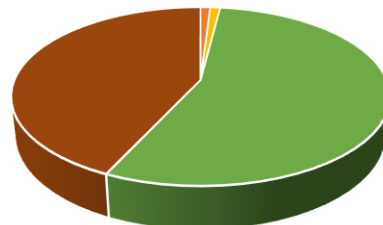
الإجابة النموذجية لامتحان البكالوريا شعبة الآداب والفلسفة دورة ماي 2021

العلامة		عناصر الإجابة (الموضوع الأول) (التاريخ)	محاور الموضوع
المجموع	مجزأة		
2.25	0.75 3x	<p><b>الأحزاب الوطنية:</b> مجموع التنظيمات ذات الطابع السياسي التي ظهرت في الجزائر بعد الحرب العالمية الأولى والتي تتشكل من أربع تنظيمات رئيسية وهي دعاة الإدماج الإصلاح , المساواة , الاستقلال</p> <p><b>مشروع قسنطينة:</b> مشروع استعماري أعلنه ديغول في قسنطينة 3-10-1958 بقسنطينة (بناء مساكن وتوزيع أراضي على الجزائريين وتوظيفهم وبناء المدارس) بهدف إفشال الثورة وفصل الشعب عنه وخلق فئة من العملاء.</p> <p><b>القوة الثالثة:</b> طبقة برجوازية عميلة دعمتها فرنسا في الجزائر كبديل عن الثورة وجهازها السياسي جبهة التحرير الوطن، تتشكل من القياد والخونة والعملاء لتغليب الرأي العالمي.</p>	1/ تعريف ما تحته سطر في النص
2.25	0.75 3x	<p><b>جوزيف ستالين:</b> رئيس الاتحاد السوفييتي من 1924 الى 1953 تميز حكمه بالفردية والتشدد واجه المخططات الأمريكية بمخططات مضادة مثل الكومنفورم.</p> <p><b>ديدوش مراد:</b> من مفجري الثورة التحريرية عضو مجموعة 22 والمنظمة الخاصة وقائد المنطقة الثانية.</p> <p><b>هوشي منه:</b> زعيم سياسي فيتنامي ومؤسس حزب الإستقلال (ألفيت منه) 1941 قاد الثورة الشيوعية ضد فرنسا والوم أ.</p>	2/ التعريف بالشخصيات
1.5	0.5 0.5 0.5	<p><b>التاريخ</b></p> <p><b>1949/04/04</b></p>	3/ التواريخ والاحداث
		<p><b>الحدث</b></p> <p>تأسيس حلف الأطلسي</p>	
		<p><b>مظاهرات المهاجرين الجزائريين بباريس</b></p> <p>إعلان قيام الدولة الجزائرية</p>	
04	0.5	<p><b>مقدمة:</b> كان لأزمة الصواريخ 1962م الأثر الهام والكبير في تغيير مسار العلاقات الدولية بين القطبين نحو السلام. ما دور هاته الأخيرة في الدفع بسياسة الانفراج الدولي؟ وأين تبرز عوامل التقارب بين الوم.أ. والاتحاد السوفياتي؟</p>	الوضعية الادماجية
	1.5	<p><b>1/ دور الأزمة الكوبية في الانفراج الدولي:</b></p> <p>⊗ بينت خطورة الصراع على القطبين وعلى العالم</p> <p>⊗ أثبتت ضرورة تبني سياسة جديدة وحتمية التعايش</p> <p>⊗ تفكيك الصواريخ السوفياتية في كوبا والأمريكية في تركيا</p> <p>⊗ إنشاء الخط الهاتفي الأحمر بين البيت الأبيض والكرملين.</p> <p>⊗ بداية الانفراج في العلاقات الدولية .</p>	
	1.5	<p><b>2/ عوامل التقارب بين المعسكرين:</b></p> <p>⊗ التنافس في مجال غزو الفضاء</p> <p>⊗ توازن الردع النووي</p> <p>⊗ تزايد نفقات الحرب الباردة و الخوف من الافلاس والانهيار الاقتصادي.</p> <p>⊗ بروز الخلافات والانشقاق داخل كل معسكر .</p> <p>⊗ تفاقم الازمات الدولية، ودور العالم الثالث.</p>	
0.5	<p><b>خاتمة:</b> نتائج أزمة كوبا 1962م كانت فرصة لحل الخلافات بين المعسكرين والتمسك بسياسة الانفراج الدولي ونافذة لحل الخلافات والتوقيع على العديد من اتفاقيات من الحد الأسلحة الإستراتيجية.</p>		

العلامة		عناصر الإجابة (الموضوع الأول) (الجغرافيا)	محاور الموضوع
المجموع	مجزأة		
02	0.75	<p><b>التكنولوجيا:</b> و هي مجموع المعارف العلمية المكتسبة التي يمكن تطبيقها ميدانيا للحصول على نتيجة يتوخاها النشاط الاقتصادي</p>	1/ تعريف ما تحته سطر في النص
	0.75	<p><b>العالم المتقدم:</b> يقصد به العالم المتطور الذي يقع في النصف الشمالي للكرة الأرضية يضم الدول الصناعية المكتفية والمصدرة للمواد الغذائية والصناعية</p>	
	0.5	<p><b>الشركات الاحتكارية:</b> وهي تلك الشركات التي تخضع إدارتها وملكيته لجنسيات متعددة وتمارس نشاطها في بلاد أجنبية تملك رؤوس اموال كبيرة وتكنولوجيات عالية وتعرف العابرة للقارات</p>	

<p>02</p> <p>الإنتاج: 1.25</p> <p>المفتاح: 0.25</p> <p>العنوان: 0.5</p>	<p>أعمدة بيانية تمثل أكبر البورصات في العالم</p> <p>مليار دولار</p> <p>1000 مليار دولار</p> <p>بورصة</p> <p>البورصات</p>	<p>2/ تمثيل الجدول بأعمدة بيانية</p>
<p>02</p> <p>التوقيع: 0.25</p> <p>5x</p> <p>المفتاح: 0.25</p> <p>العنوان: 0.5</p>	<p>خريطة تمثل البورصات الواردة في الجدول</p> <p>1 وول ستريت 2 باريس 3 لندن 4 فرانكفورت 5 طوكيو</p>	<p>3/ التوقيع على خريطة العالم البورصات الواردة في الجدول</p>
<p>04</p> <p>0.5</p> <p>1.5</p> <p>1.5</p> <p>0.5</p>	<p><b>مقدمة :</b> لقد حققت المنطقة نموا اقتصاديا كبيرا في العقود الثلاثة الماضية نتيجة تركيزها على الاستثمار في العنصر البشري، فما دور هذا الأخير في تنمية المنطقة؟ وما هي المكانة التي تحتلها في الاقتصاد العالمي؟</p> <p><b>1/ دور استثمار العنصر البشري في تنمية المنطقة:</b></p> <ul style="list-style-type: none"> <li>❖ الوزن الديمغرافي لدول المنطقة (أكثر من 02 مليار/ن)</li> <li>❖ دعم وتطوير برامج التعليم وتشجيع البحث العلمي .</li> <li>❖ طبيعة الفرد الآسيوي المعروفة بالتفاني في العمل.</li> <li>❖ وفرة اليد العاملة المؤهلة والمدربة .</li> <li>❖ اتساع السوق الاستهلاكية للمنطقة.</li> <li>❖ حركة الهجرة ودورها في تدفق رؤوس الأموال .</li> <li>❖ انخفاض أجور العمال مما ساهم في خفض تكلفة الإنتاج .</li> </ul> <p><b>2/ مكانة المنطقة في الاقتصاد العالمي :</b></p> <ul style="list-style-type: none"> <li>❖ القطب الاقتصادي الثالث في العالم.</li> <li>❖ ضخامة الإنتاج الصناعي والزراعي للمنطقة وتنوعه.</li> <li>❖ تحكم المنطقة في 22% من المبادلات التجارية العالمية.</li> <li>❖ تحتل المنطقة المراتب الأولى في العديد من المنتجات الصناعية والزراعية .</li> <li>❖ استقطابها للإستثمارات العالمية وغزو منتجاتها للأسواق العالمية.</li> <li>❖ تعتبر المنطقة قوة مالية عالمية (البورصات والبنوك والعملية)</li> <li>❖ ضخامة شركاتها المتعددة الجنسيات (خاصة اليابانية والصينية).</li> </ul> <p><b>الخاتمة :</b> لقد أسهم الاستثمار في الفرد واندماج المنطقة في الاقتصاد العالمي في إبرازها كقطب اقتصادي أساسي منافس للأقطاب البري الأخرى.</p>	<p>الوضعية الادماجية</p>

العلامة		عناصر الإجابة (الموضوع الثاني) (التاريخ)	محاور الموضوع	
المجموع	مجزأة			
02	0.75	<p><b>الانفراج الدولي:</b> وهي وصف لطبيعة العلاقات بين المعسكرين بعد تسوية أزمة كوبا الخطيرة بعد الخوف والقلق اللذان وصل إليهما العالم.</p> <p><b>هيئة الأمم المتحدة:</b> منظمة دولية أنشأت في 24. 10. 1945 لتحقيق السلم وتنمية التعاون الدولي وحماية حقوق الإنسان مقرها في نيويورك.</p> <p><b>الأزمات الدولية:</b> وهي الفترات التي تميزت فيها علاقات المعسكرين بعدم الاستقرار والتوتر الذي لم يصل لحد الحرب الفعلية أبرزها الأزمة الكوبية وكوريا.</p>	1/ تعريف ما تحته سطر في النص	
	0.75		12/ تعريف الشخصيات	
	0.5			
02	0.75	<p><b>جون كينيدي:</b> أصغر رؤساء الوم أ من 1961 إلى 1963 أزال التمييز العنصري وعاصر أزمة الصواريخ الكوبية تم قتله.</p> <p><b>فيدال كاسترو:</b> ثائر وسياسي كوبي قاد الثورة ضد رئيس كوبا جون باتيستا عميل للوم أ، تقارب مع السوفييات (أزمة الصواريخ 1962) توفي في 2016.</p> <p><b>محمد بوضياف:</b> عضو حزب الشعب والمنظمة الخاصة و مجموعة 22 اعتقل في حادثة اختطاف الطائرة إلى غاية وقف إطلاق النار استدعي لينصب رئيسا في 16/01/1992 اغتيل في 29 جوان 1992.</p>	13/ التوقيع على خريطة العالم الدول الخمس الدائمة العضوية في مجلس الأمن	
	0.75		<p>خريطة تمثل الدول الخمس الدائمة العضوية في مجلس الأمن</p>  <p>1 الو.م.أ 2 بريطانيا 3 فرنسا 4 روسيا 5 الصين</p>	على خريطة العالم الدول الخمس الدائمة العضوية في مجلس الأمن
	0.5			
04	0.5	<p><b>المقدمة:</b> ضمن توسيع نطاق الثورة وفك الحصار عن الأوراس قام زيغود يوسف بشن هجمات في الشمال القسنطيني بتاريخ 20 أوت 1955. ما أهداف هذه الهجمات؟ وما هي أبرز نتائجها على مسار الثورة؟</p> <p>1/ <b>أهداف الهجمات:</b> - فك الحصار على الأوراس - الحصول على السلاح - الرد على مجازر العدو - تنفيذ ادعاءات العدو حول الثورة - القضاء على أي تردد في الالتحاق بالثورة - التضامن مع المغرب في الذكرى 2 لنفي محمد 5 - تدويل القضية الجزائرية (الدورة 10 للأمم المتحدة 1955).</p> <p>2/ <b>نتائج الهجمات:</b> - فك الحصار وزيادة الالتفاف الشعبي حول الثورة بالتحاق مختلف التيارات بالثورة - تأكيد قوة الثورة ودحض ادعاءات العدو- انطلاق الثورة بالولاية الرابعة - سقوط حكومة منديس فرانس - مضاعفة القوات الفرنسية 400 ألف جندي وارتكاب المجازر</p> <p><b>الخاتمة:</b> حققت هجمات الشمال القسنطيني مجموعة من الانتصارات السياسية والعسكرية كان بالغ الأثر في حشد الشعب وتأييده حول الثورة.</p>	14/ الوضعية الإدماجية	
	1.5			
	1.5			
	0.5			

العلامة		عناصر الإجابة (الموضوع الثاني) (الجغرافيا)	محاور الموضوع
المجموع	مجزأة		
02	0.75 0.75 0.5	<p><b>الوزن الديمغرافي:</b> أي التعداد السكاني الكبير والذي يعتبر عامل قوة في اقتصاد منطقة ما، إذا أحسن الاستثمار فيه، وتوظيفه في عملية الإنتاج و التنمية مثل منطقة شرق وجنوب شرق آسيا.</p> <p><b>التينيات:</b> مصطلح أطلق على أربعة دول هونغ كونغ، سنغافورة، تايوان، كوريا الجنوبية والتي حققت نمو اقتصادي سريع ما بين الستينات والسبعينات من القرن الماضي، مستفيدة من الاستثمار والتكنولوجيا اليابانية.</p> <p><b>الاستثمارات:</b> هي استخدام رؤوس الأموال في إقامة مشاريع مختلفة بهدف زيادة الأرباح وله شكلين مباشر وغير مباشر.</p>	1/ تعريف ما تحته سطر في النص
04	الإنتاج: 0.5 العنوان: 0.25 المفتاح: 0.25	<div style="display: flex; justify-content: space-around;"> <div style="text-align: center;"> <p>مناطق التبادل التجاري للجزائر سنة 2008 (الصادرات)</p>  <p>بقية العالم ■ أوروبا ■ أفريقيا ■ المغرب العربي</p> </div> <div style="text-align: center;"> <p>مناطق التبادل التجاري للجزائر سنة 2008 (الواردات)</p>  <p>بقية العالم ■ أوروبا ■ أفريقيا ■ المغرب العربي</p> </div> </div> <p><b>التعليق :</b> وثيقة جغرافية تمثل دائرة نسبية لمناطق التبادل التجاري للجزائر سنة 2008.</p> <ul style="list-style-type: none"> <li>- تباين مناطق التبادل التجاري للجزائر.</li> <li>- نصف المبادلات التجارية للجزائر مرتبطة بأوروبا نظرا للعوامل التاريخية والقرب الجغرافي واتفاقية الشراكة الموقعة سنة 2002.</li> <li>- انخفاض نسبة التبادل التجاري للجزائر مع دول المغرب العربي وإفريقيا لتفكك اقتصاديات هاته الدول وعدم وجود خطة مشتركة للتنمية الشاملة.</li> <li>- اعتبار الو.م.أ والصين من أهم الشركاء التجاريين للجزائر إلى جانب دول أخرى.</li> <li>- تسعى الجزائر في السنوات الأخيرة للخروج من التبعية لأوروبا من خلال تنويع مناطق التبادل التجاري</li> </ul>	2/ التمثيل البياني (دائرتين نسبيتين)
04	0.5 1.5 1.5 0.5	<p><b>مقدمة:</b> تشهد الأسواق العالمية حركية تجارية كبيرة متمثلة في الصادرات والواردات، ومن أنشط هاته الأسواق سوق المواد الغذائية الإستراتيجية (القمح والأرز). ما أهميتها؟ وما هي أبرز العوامل المتحكمة في تجارتها؟</p> <p><b>1/ أهمية القمح والأرز للدول المصدرة والمستوردة:</b></p> <ul style="list-style-type: none"> <li>- الغذاء الأساسي لأغلب سكان العالم .</li> <li>- ضخامة العائدات المالية .</li> <li>- مادة أولية للكثير من الصناعات .</li> <li>- إمكانية التخزين لمدة طويلة .</li> <li>- توسع المساحات المزروعة به نتيجة تزايد الطلب عليه .</li> <li>- مادة استراتيجية وسلاح ضاغط .</li> </ul> <p><b>2/ العوامل المتحكمة في سوق المواد الغذائية الإستراتيجية:</b></p> <ul style="list-style-type: none"> <li>- النوعية ( اللين والصلب ) .</li> <li>- قانون العرض والطلب .</li> <li>- القرب والبعد عن مناطق الإنتاج .</li> <li>- هيمنة الشركات الإحتكارية (الأمريكية والفرنسية والسويسرية) على أسواقه والمعروفة بعمالقة الحبوب إنتاجا وتصديرا .</li> <li>- المضاربات في البورصات .</li> </ul> <p><b>خاتمة:</b> سيطرة الدول الكبرى وشركاتها على سوق المواد الغذائية الإستراتيجية زاد من تبعية العالم المتخلف وفرض عليه تحديات أكبر لتحقيق أمنه الغذائي.</p>	3/ الوضعية الإدماجية