



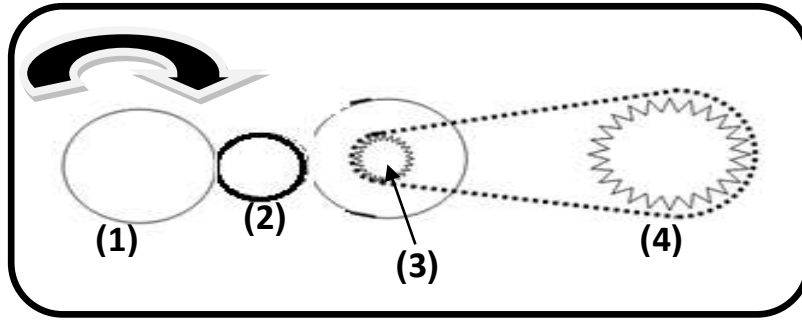
المدة: ساعة و نصف

اختبارالثلاثي الثاني في مادة: العلوم الفيزيائية والتكنولوجيا

الجزء الأول: (12 نقطة)

الوضعية الأولى: (6 نقاط)

I. تمثل الوثيقة (01) طريقتين لنقل الحركة .



الوثيقة 01

1- ما نوع طريقة نقل الحركة بين العنصرين (1) و(2) ، (3) و(4) ؟

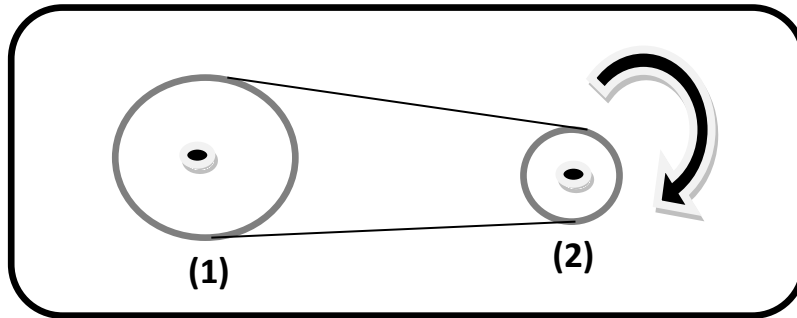
2- ماهي عناصر نقل الحركة لكل طريقة ؟

نقوم بتدوير العنصر (1) في اتجاه عقارب الساعة كما في الوثيقة 01 .

3- أعد رسم الوثيقة (01) مبيّنا جهة دوران بقية العناصر (2) و (3) و (4) .

II. ننزع العنصرين (3) و (4) و نباعد بين محوري العنصرين (1) و (2) و ندور العنصر (2) كما توضّحه

الوثيقة (02) .



الوثيقة 02

1- حدّد جهة دوران العنصر (1) .

2- اقترح طريقةً تمكّنك من تدوير العنصر (1) عكس جهة دوران العنصر (2) . (بالرسم)

- كيف نسمي هذا نوع من الربط ؟ (عند عكس جهة الدوران) .

الوضعية الثانية : (6 نقاط)

توجد سيارة تسير على طريق مستقيم حيث : A . B . C . D نقاط من هذه السيارة (A و B هما مركزا العجلتين) ، لاحظ الوثيقة 03 .

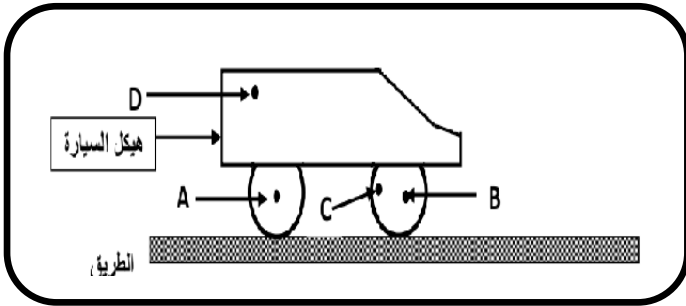
(1) - أكمل الجدول التالي بحيث المرجع هو الطريق :

النقطة D	النقطة B	النقطة A	
			شكل المسار
			نوع الحركة

(2) - استنتج ما يلي :

- (a) - حركة هيكل السيارة بالنسبة إلى الطريق .
(b) - حركة عجلة السيارة بالنسبة إلى مركزها .

(3) - أرسم بشكل كيفي المسار الذي ترسمه النقطة C بالنسبة لشخص واقف على الرصيف .



الوثيقة 03

الجزء الثاني : (8 نقاط)

الوضعية الإدماجية : (8 نقاط)

أثناء زهاب والد محمد للعمل بسيارته رأى إشارة (قف) على جانب الطريق، مع العلم أن السرعة القصوى المسموح بها طيلة مدة الحركة المبينة يجب أن لا تتعدى 40km/h .



يمثل المخطط في الوثيقة (04) سرعة سيارة تسير على طريق مستقيم بدلالة الزمن.

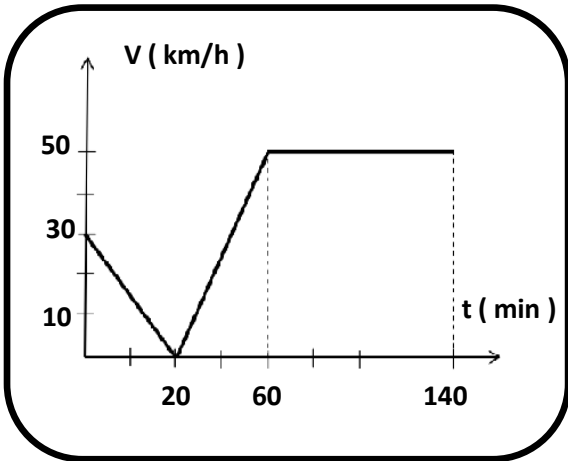
(1) - من خلال مخطط تغيرات سرعة السيارة بدلالة الزمن .

- هل احترام والد محمد الإشارة المرورية ؟ مع التعليل .
- ماهي أقصى سرعة وصل إليها السائق .

(2) - حدّد مراحل حركة السيارة ؟ و طبيعة حركتها .

• كم كانت سرعة السيارة في اللحظة الزمنية $t = 20\text{ min}$

(3) - ماهي النصائح التي تقدمها لسائق السيارة للتقليل من حوادث المرور ؟ (3 نصائح) .



الوثيقة 04