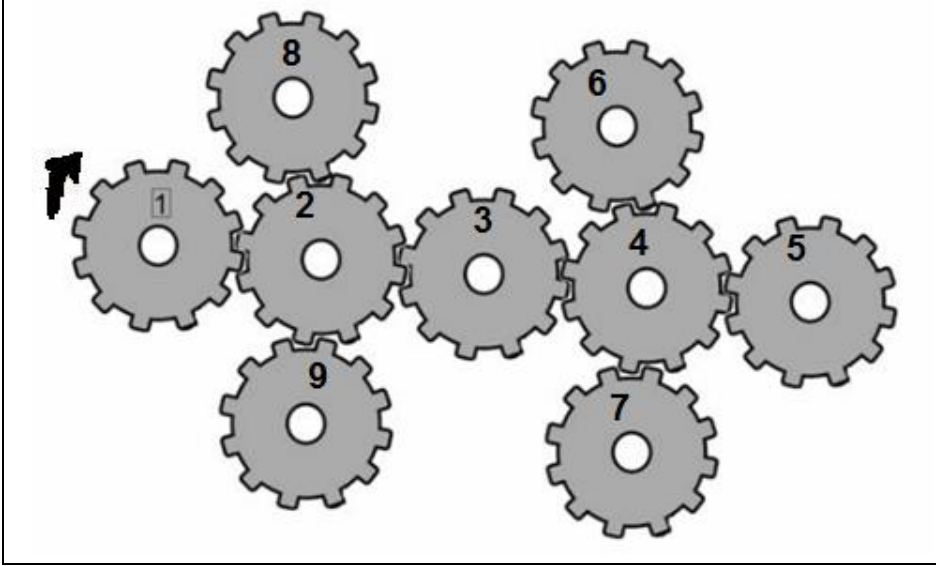


التمرين الأول:



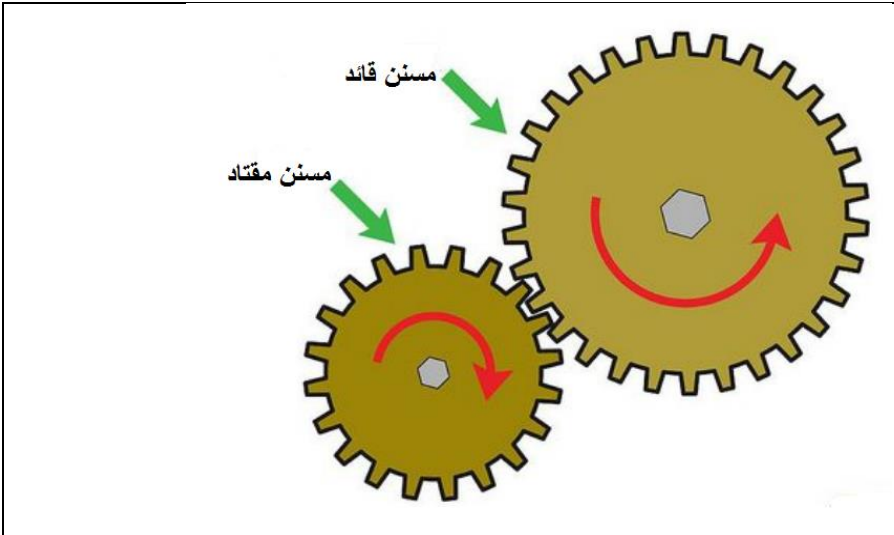
حدّد المسننات التي تدور في اتجاه عقارب الساعة؟

عددها:

أرقامها:

.....
.....
.....
.....
.....
.....

التمرين الثاني:



س1- ما هو عدد أسنان المسنن القائد؟

س2- ما هو عدد أسنان المقتاد؟

س3- أي المسننين يدور بسرعة أكبر؟

س4- ما هي جهة دوران المسنن المقتاد؟

س5- إذا علمت أن المسنن القائد يدور بسرعة

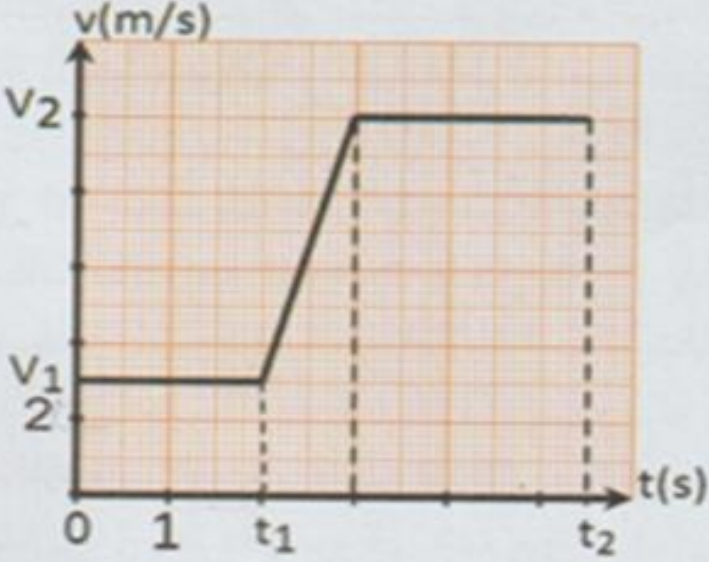
(60 tr/min) ، فما قيمة سرعة المسنن

المقتاد؟

و ماذا تستنتج؟

التمرين الثالث:

إليك مخطط السرعة التالي :



1- استنتج من المخطط القيم التالية:

t_1, t_2, v_1, v_2

2- حدّد زمنيا مراحل الحركة المنتظمة؟

3- احسب المسافة المقطوعة في الحركة المنتظمة؟

تمنياتي لكم بالنجاح

أستاذ المادة: فرقب عبد الحكيم