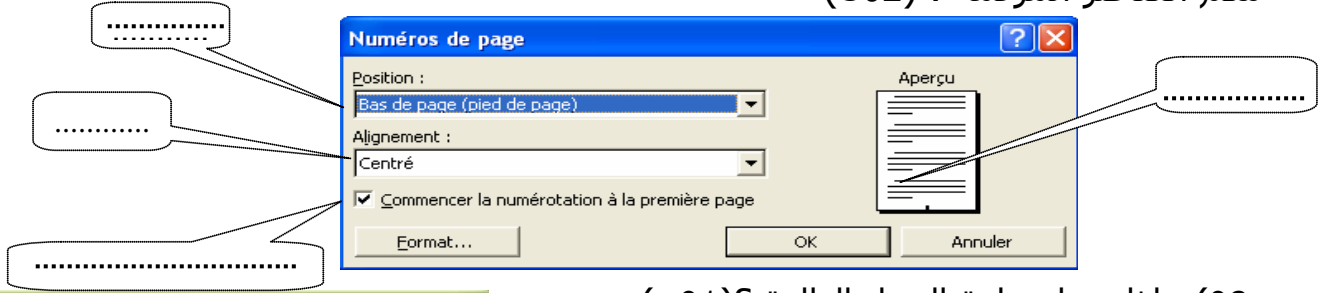


الإختبار الثالث في مادة الإعلام الآلي

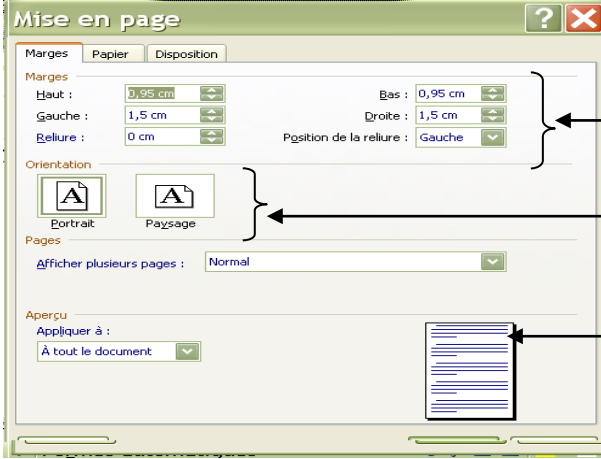
المستوى: ثانية متوسط التوقيت: 1 سا و30د

س01) عند النقر على Insertion ثم Numéros de page نحصل على علبة الحوار التالية :  
\* سم العناصر المرقمة : (02ن)



س02) ماذا تمثل علبة الحوار التالية؟ (01ن)

\* سم العناصر المرقمة (03ن)



س03) ماذا يمثل هذا الرمز ؟ (01ن)



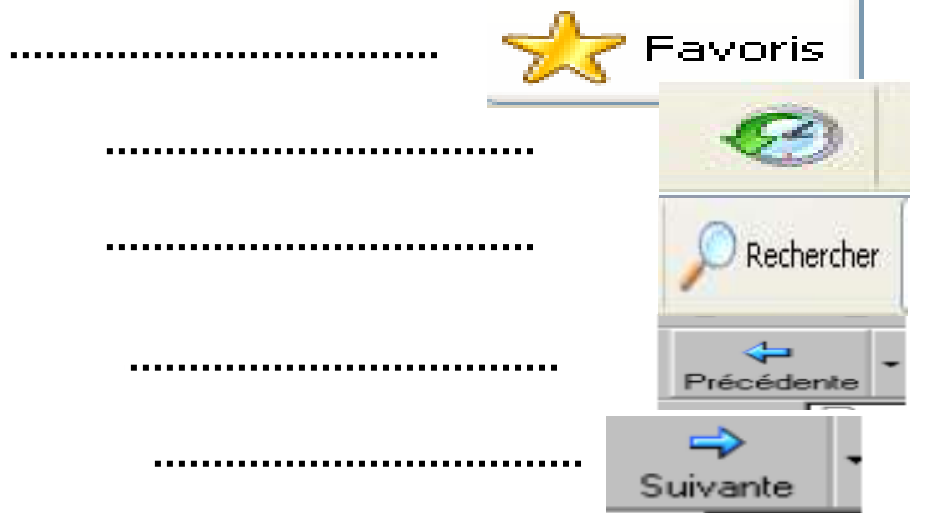
\* متى نستعمله؟ (01ن)

س04) أذكر الشروط الواجب توفرها للإتصال بشبكة الأنترنت ؟ (02ن)

- 1- .....
- 2- .....
- 3- .....
- 4- .....

س05) كيف يمكن تشغيل Internet Explorer ؟ (02ن)

س06) ما هي وظيفة الأزرار التالية : (05ن)



س07) ماذا تمثل التمديدات التالية (03ن)

- .....: Dz
- .....: Ca
- .....: Fr